

姓名: \_\_\_\_\_ ( )

成绩: \_\_\_\_\_ /100

班级: 4 ( )

日期: 23-4-2016

A) 是非题: 对的答案画 ( √ ), 错的画 ( X ): 16%

1. 国家档案处所收藏的研究文本或印刷资料都是重要的文献。 - ( )
2. 历史是人类的行为及他们行动的原因。 \_\_\_\_\_ ( )
3. 砂拉越的尼亚洞 ( Gua Niah ) 是世界上最古老的洞穴。 \_\_\_\_\_ ( )
4. 希罗多德是希腊历史学家。 \_\_\_\_\_ ( )
5. 幸福的家庭可以培养有礼貌, 有教养的下一代。 \_\_\_\_\_ ( )
6. 个人履历表是有关个人学术和运动资料的文件。 \_\_\_\_\_ ( )
7. 低洼地区的地势比较高, 适合居住和从事渔业。 \_\_\_\_\_ ( )
8. 巴西沙叻是以沙叻树命名的。 \_\_\_\_\_ ( )

B) 选择题: 选出最正确的答案: 12%

1. \_\_\_\_\_ 的峇谷佛塔 (Gandi Lembah Bujang) 是亚洲著名的考古基地。  
 A. 吉打                      B. 霹靂                      C. 砂拉越                      D. 森美兰
2. 一个核心家庭是由 \_\_\_\_\_ 和孩子所组成。  
 A. 祖父                      B. 祖母                      C. 父母                      D. 亲戚
3. 以下哪一项是马来西亚各族家庭成员的称呼?

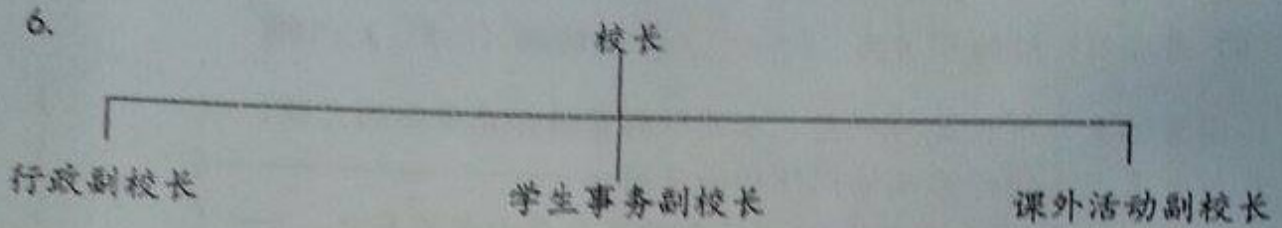
- i. 马来人称呼二姐为 kak ngah
- ii. 印度人称呼哥哥为 annan
- iii. 伊班人称呼爸爸为 apai

- A. i、ii                      B. ii、iii                      C. i、iii                      D. i、ii、iii

4. 以下是康乐华小校徽上的标志象征和颜色的含义, 除了.....

	颜色	含义
A.	红色火把	学生们为光明的前程而努力
B.	黄、蓝、和红色弧形线条	学生们学习三种语言
C.	三只紧握火把的手	三大名族携手朝向光明前程
D.	蓝色弧形细线	奋斗精神和竞争能力

5. “亲爱精诚”是康乐华小的\_\_\_\_\_。  
 A. 校风                      B. 实愿                      C. 口号                      D. 使命



上图是\_\_\_\_\_结构表, 他们的责任是妥善地管理学校。

- A. 教育局行政                      B. 学校行政  
 C. 学生事务                      D. 校长、副校长和教师

C) 以下哪一项是具有历史的研究价值。在正确的答案画 ☺ : 8%

- i.) 沙巴的登柯拉克山 (Bukit Tengkorak) 是东南亚制作原始陶瓷的基地。 \_\_\_\_\_
- ii.) 康乐华小学校附近的建筑物。 \_\_\_\_\_
- iii.) 在霹雳州发现的“智人”骨骼。 \_\_\_\_\_
- iv.) 2000年探险家在砂拉越尼亚洞发现35枚马来西亚硬币。 \_\_\_\_\_

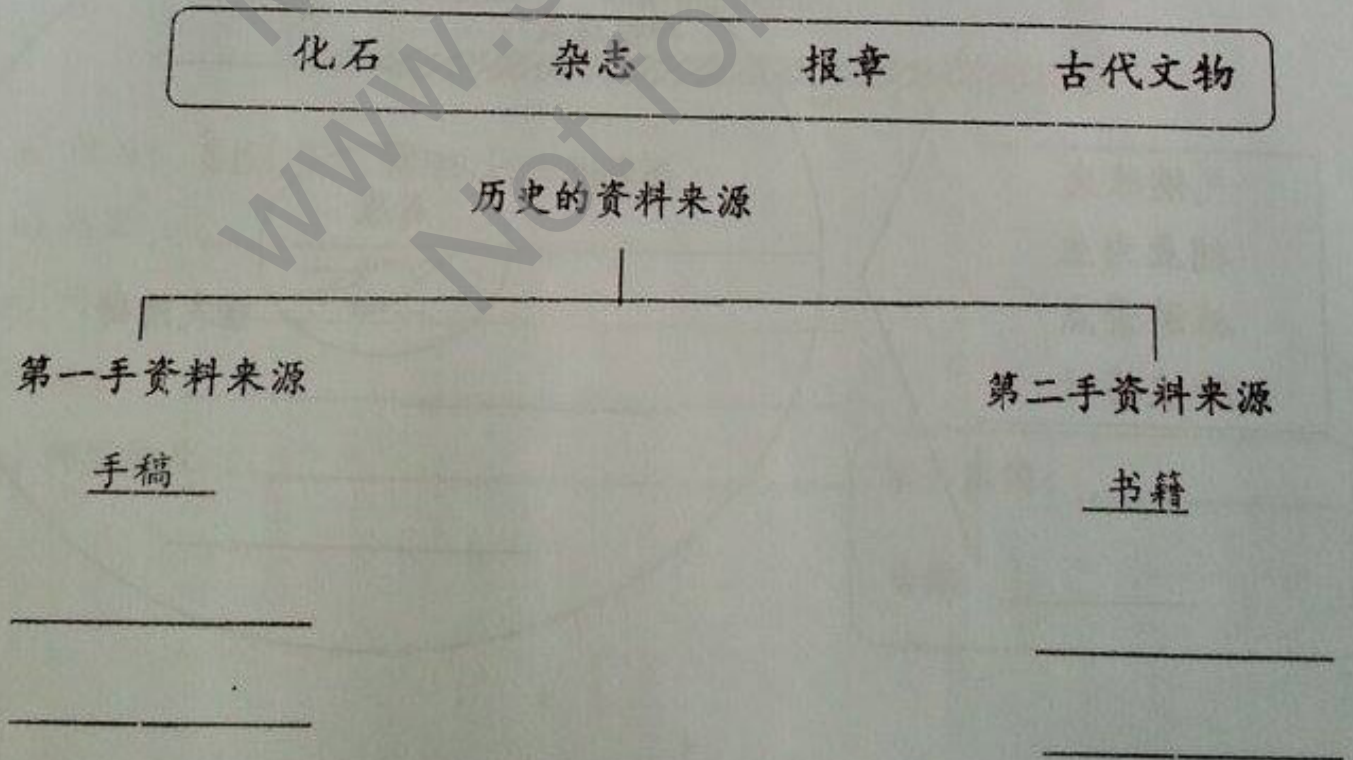
D) 根据以下说明, 圈出正确的历史的时间概念。 10%

i. 根据时间的顺序研究每一件历史事件。 →	年表	历史表
ii. 耶稣诞生前的年代。 →	公元前	公元后
iii. 耶稣诞生后的年代。 →	公元前	公元
iv. 100年 →	一百年	世纪
v. 1000年 →	千年	一个百年


E) 把以下的历史文物连一连: 10%

文物		名称
	☆	☆ 树皮木锤
	☆	☆ “东山: 鼓”
	☆	☆ 壁画
	☆	☆ 《马来纪年》手稿
	☆	☆ 古代文物

F) 在以下树型图填写搜寻历史资料来源的方式: 8%

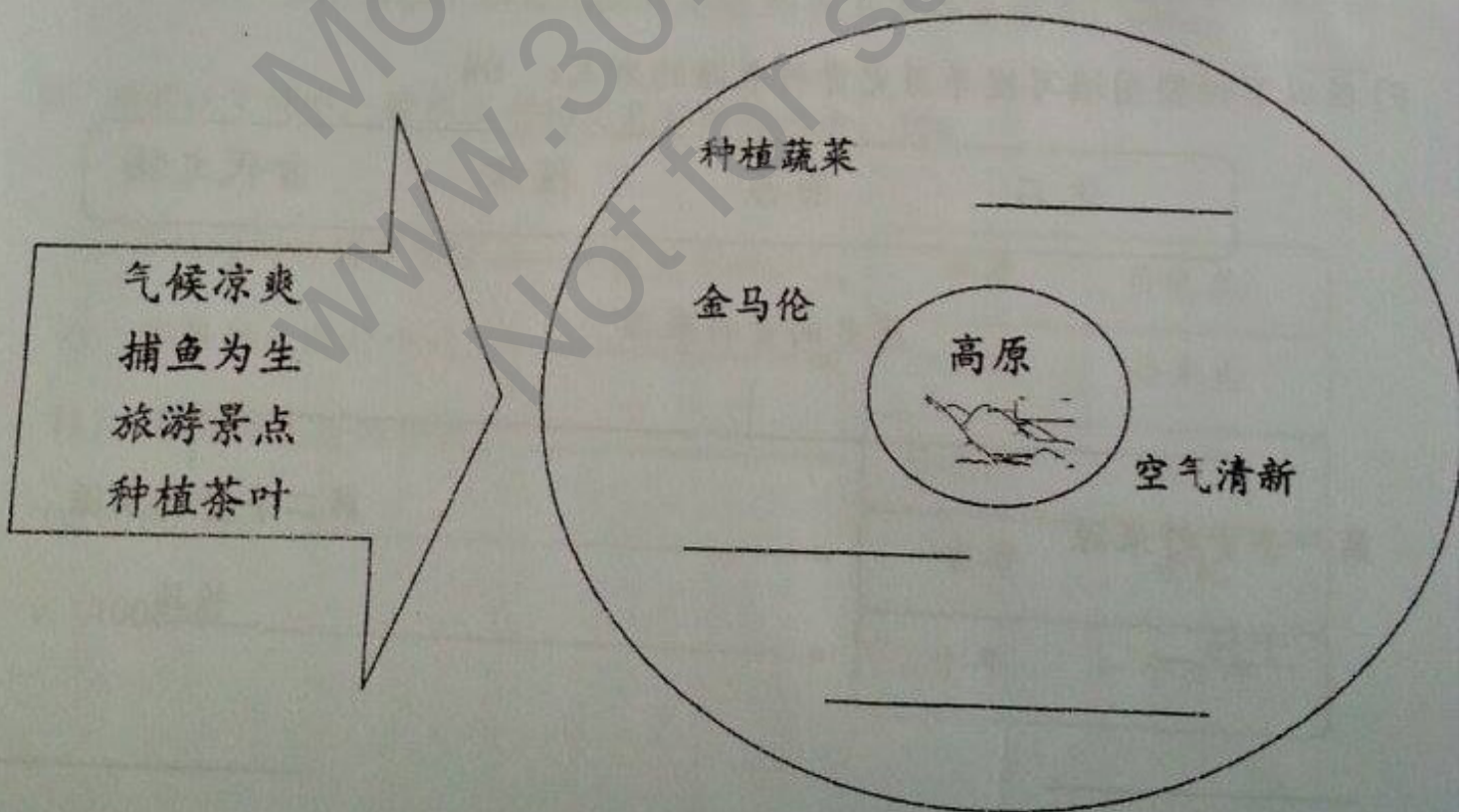


G) 填充题: 10%



1. 我们要维护及保留各族的文化遗产, 并让下一代\_\_\_\_\_各族智慧的结晶。
2. \_\_\_\_\_是收集和展示珍贵历史文物的地方。
3. “巴西沙叻历史隧道”是我国\_\_\_\_\_的历史遗产, 里边的展览馆里展示了许多马来短剑。
4. \_\_\_\_\_是记载一个人的家庭背景, 让我们了解自己的家族。
5. 传统\_\_\_\_\_是我国人民所重视的宝贵的遗产, 有助于促进国民团结与和谐。

H) 根据圆圈图内的地形, 选出正确的答案后写在线上。6%



1) 阅读以下短文, 圈出正确的答案。12%

我在康乐华小求学。康乐华小创立于1982年。(1989年、1990年)康乐华小正式启用。首任校长是 (张世禄校长、庄淑珠校长) 现任校长则是 (张世禄校长、庄淑珠校长)。

(谢例郡副校长、赖瑞清副校长) 是我校的行政及课程副校长, 她是负责协调学校所有的学术事项。在学校里要是同学们犯错, 如逃学、打架、破坏学校公物等的事件, 都会被叫去见负责处理学生的福利和安全事项的 (谢例郡副校长、赖瑞清副校长)。我参加校外比赛获奖无数, 能为校争光, 我感到无比的光荣。我是学校里杰出的运动员。我十分感谢负责课外活动副校长—— (张志文副校长、林莉青副校长) 和老师们的栽培。

J) 以下是康乐华小的地址。根据学校地址, 在线上填写正确的资料。: 8



校名: SJK(C) Taman Connaught

路名: \_\_\_\_\_

州属: \_\_\_\_\_

地区: \_\_\_\_\_

邮区编号: \_\_\_\_\_

家长签阅: \_\_\_\_\_

《小作家课程》教你实用的写作技巧，让你轻松面对考试！

*只需一次付费，即可使用长达三年！而且内容会持续更新，不另加收费！*

点击这里购买完整版：<https://30.com.my/bc2>

或者免费注册体验版：<https://class.30.com.my/courses/bc2-trial>

