

蒲种益智国民型华文学校
第二学年科学与工艺世界第二次评审 (2016)
Penilaian Dunia Sains dan Teknologi Tahun 2 Kali Ke-2 (2016)

时间： 1 小时

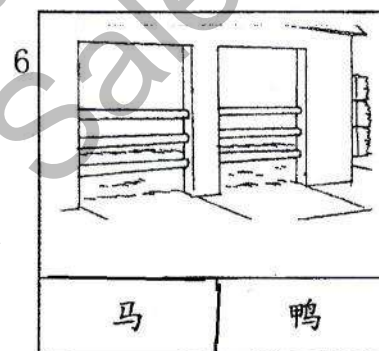
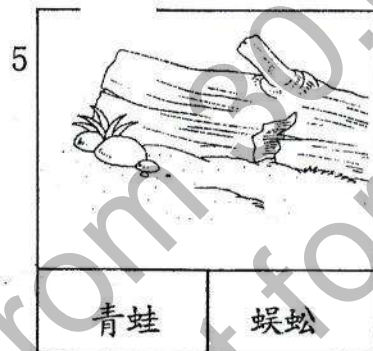
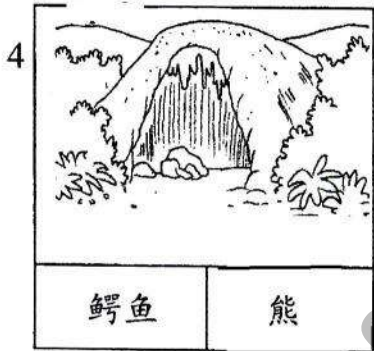
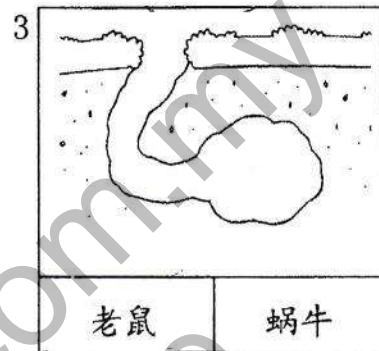
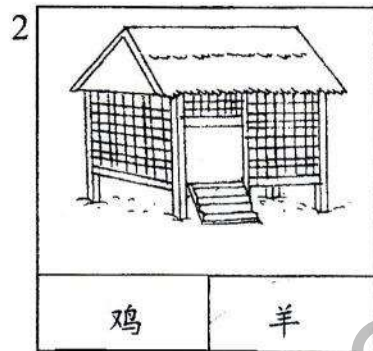

姓名： _____ ()

分数： _____


班级： 2 ()

日期： _____




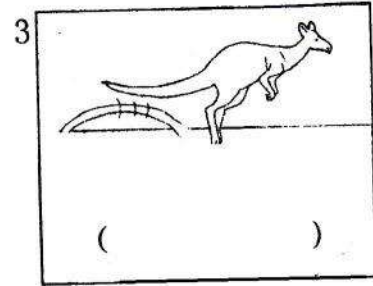


A) 以下是哪些动物的庇护所？把正确的答案圈起来： (6%)



B) 根据动物的进食习惯，把吃动物和植物的动物圈起来： (8%)



C) 填写这些动物的移动方式：(12%)



跑	走	跳	爬	滑行	蠕动
---	---	---	---	----	----

D) 把正确的答案填写在横线上：(14%)



1) A 动物是 _____，B 动物是 _____。

2) A 动物是 B 动物的 _____。

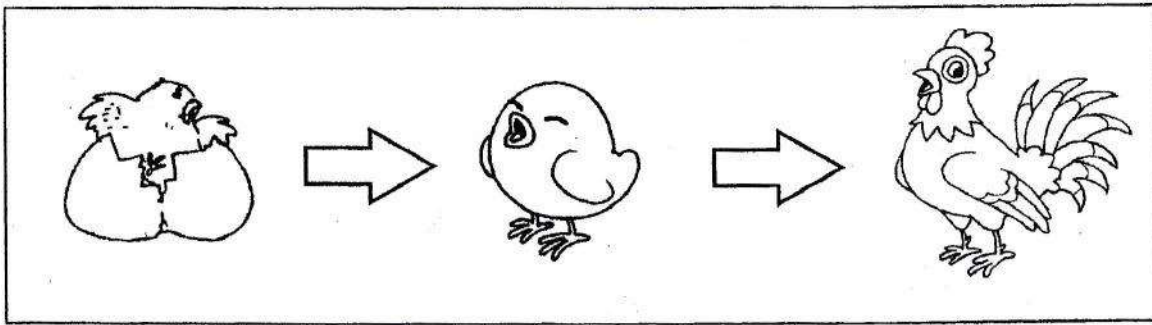
3) A 动物生活在 _____。

4) B 动物除了能在水里生活，它也能在 _____ 生活。

5) A 动物长大后，会长出 _____，_____ 却不见了。

幼儿	水里	陆地	青蛙	蝌蚪	腿	尾巴
----	----	----	----	----	---	----

E) 把正确的答案圈起来： (10%)




- 1) 上图显示了动物的(繁殖方式、成长过程)。
- 2) 随着成长，小鸡的体型会变大，体重也会(减少、增加)。
- 3) 小鸡要(吃足够的食物、生下足够的蛋)，才会长大成公鸡。
- 4) 小鸡在成长中的外形(有、没有)改变。
- 5) 以下哪种动物成长后的外形和幼儿完全不同？




F) 动物对其他生物有哪些重要性？画线连一连： (4%)



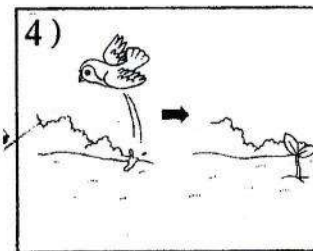
- 提供其他动物食物 •
- 帮助人类工作 •



- 提供人类的食物 •



- 散播植物的种子 •



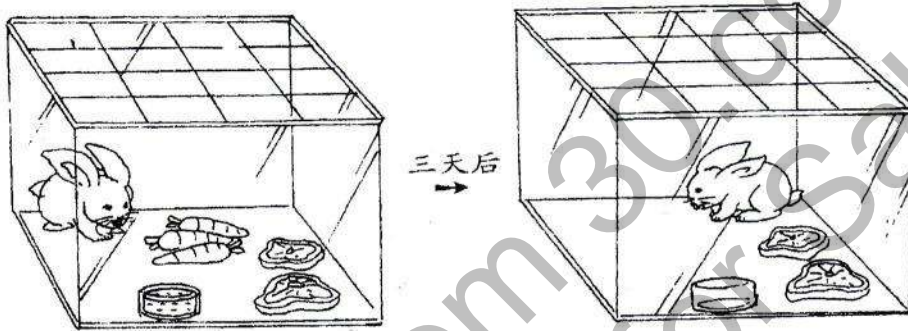
G) 以英文大写字母，把以下动物的繁殖方式归类： (8%)

A 马	B 虾	C 袋鼠	D 犀牛
E 长颈鹿	F 鸵鸟	G 鸽子	H 蜻蜓

胎生动物				
卵生动物				

H) 根据下图，回答以下问题，并在正确的答案下画线 (10%)

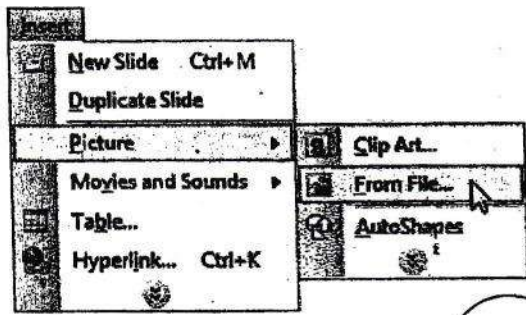

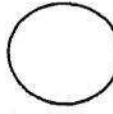
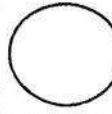
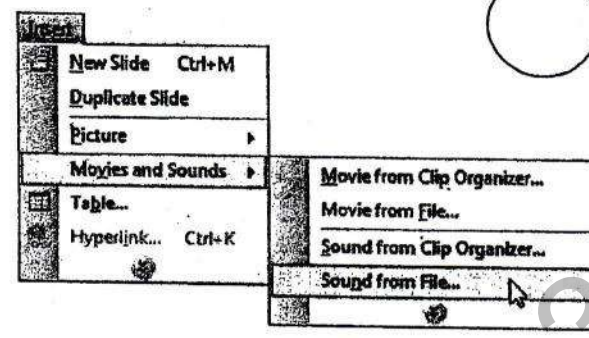

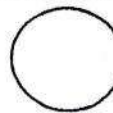
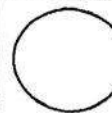
小宝养了一只兔子。他在兔子的笼子里放了三根萝卜、两块肉和一杯水。三天后，笼子里只剩下两块肉。



- 1) 这项实验让我们知道什么?
这项实验让我们知道 (兔子所吃的食物、兔子需要空气来生存)。
- 2) 兔子吃什么食物?
兔子吃 (其他小动物、植物)。
- 3) 如果小宝没有把萝卜放在笼子里，兔子会怎样?
兔子会 (死亡、繁殖)。
- 4) 在这项实验中，小宝必须观察的事项是什么?
小宝必须观察三天后 (所剩下的食物、兔子的重量)。
- 5) 哪一种动物吃的食物种类和兔子一样？ (蛇、鹿)

I) 以下是使用微软演示文稿软件 (MS PowerPoint) 的步骤。

把相关的英文大写字母填入空格里: (8%)

1	2
	
 	
3	4
	
 	


P -- 插入新的幻灯片 R -- 改变字体 Q -- 插入图片 S -- 插入声音

J) 选择题: 把正确答案前的英文字母圈起来: (20%)

1) 哪项不是动物的基本需求?

- A 水 B 食物 C 阳光 D 空气

2) 哪种情况会造成蜗牛很快死亡?



3) 根据下图，狼的移动是为了_____。



- A 寻找配偶 B 躲避危险 C 捕捉猎物 D 寻找庇护所

4) 哪项是爱护动物的行为？

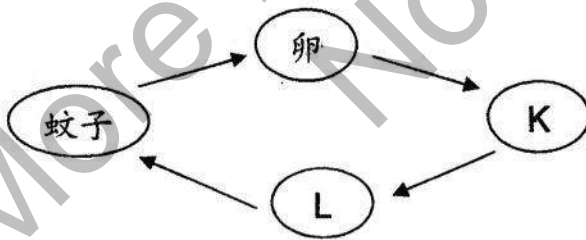
- A 一星期喂食小兔子一次
B 把小猫丢在沟渠里
C 不换鱼缸里的水
D 帮小狗洗澡

5) 下列哪几种动物的幼儿长得与妈妈不相似？

- I 蝴蝶
II 乌龟
III 青蛙
IV 鳄鱼

- A I 和 III B I 和 IV C II 和 III D II 和 IV

6) 下图显示蚊子的成长过程。



K和L各代表什么？

- A K是孑孓、L是蛹
B K是蛹、L是孑孓
C K是毛虫、L是蛹
D K是蛹、L是毛虫

7) 下列哪几项是青蛙的食物？

- I 鱼虾
- II 苍蝇
- III 蚊子
- IV 海草

- A I 和 III B I 和 IV C II 和 III D II 和 IV

8) 下列哪组动物的进食习性是相同的？

- A 象、蚱蜢、熊猫
- B 毛虫、鸡、狮子
- C 猫头鹰、斑马、狼
- D 猫、老虎、长颈鹿

9)

- | |
|--|
| <ul style="list-style-type: none">• 卵生• 会游泳 |
|--|

以上是有关动物 W 的资料，动物 W 是_____。

- A 海豚 B 海龟 C 蝙蝠 D 蜻蜓

10)



以上这两种动物的庇护所是_____。

- A 寮 B 棚 C 洞 D 窝

答案

A)

1. 鸟
2. 鸡
3. 老鼠
4. 熊
5. 蜈蚣
6. 马

B)

1. 老鼠
2. 鸡
3. 鸭子
4. 猫

C)

1. 爬
2. 跑
3. 跳
4. 滑行
5. 蠕动
6. 走

D)

1. 蝌蚪，青蛙
2. 幼儿
3. 水里
4. 陆地
5. 腿，尾巴

E)

1. 成长过程
2. 增加
3. 吃足够的食物
4. 没有
5. B

F)

1. 提供人类的食物
2. 帮助人类工作
3. 提供其他动物食物
4. 散播植物的种子

G)

胎生动物：A, C, D, E
卵生动物：B, F, G, H

H)

1. 兔子所吃的食物
2. 植物
3. 死亡
4. 所剩下的食物
5. 鹿

I)

1. Q
2. R
3. S
4. P

J)

1. C
2. C
3. C
4. D
5. A
6. A
7. C
8. A
9. B
10. B