

第二学年科学与工艺世界校本评估 (一)

姓名: \_\_\_\_\_ ( )

评分: \_\_\_\_\_ %

班级: 2 ( )

日期: \_\_/ 03 /2016


家长签阅: \_\_\_\_\_

A. 下图的人物缺少哪项基本需求? 把答案涂上颜色。 (4 x 2% = 8%)

1.



2.



3.

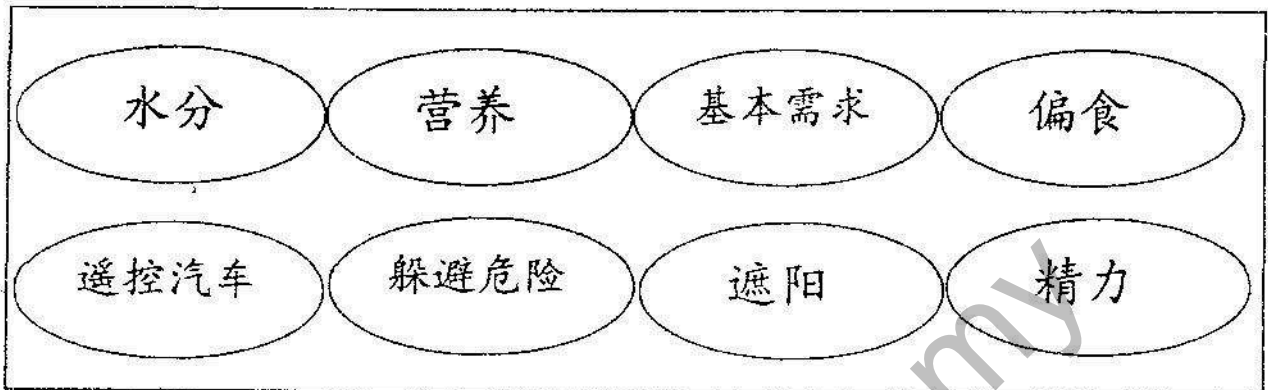


4.




Muka Surat 1

**B. 选词填充。(8 x 2% = 16%)**


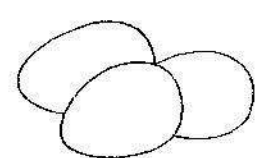




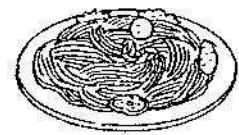




1. 人类的\_\_\_\_\_包括了空气、食物、水和庇护所。
2. \_\_\_\_\_和电脑不是人类的基本需求。
3. 米饭、蛋糕、马铃薯可以为我们提供\_\_\_\_\_。
4. 运动后, 我们必须喝水以补充身体所流失的\_\_\_\_\_。
5. 各种食物将带来不同的\_\_\_\_\_, 所以我们不可以挑食或\_\_\_\_\_。
6. 庇护所可以让我们\_\_\_\_\_和挡雨的地方。

**C. 以 1-6 顺序排列人类的成长过程。(6 x 1% = 6%)**




D. 根据食物的种类, 把以下食物分类。(9 x 2% = 18%)

 芒果	 蛋	 花椰菜
 马铃薯	 鸡肉	 玉米片
 米粉	 芹菜	 豆奶
提供精力	帮助成长	保持健康

E. 圈出正确的答案。(10 x 2 % = 20 %)

1. 人类的肺会自动呼吸\_\_\_\_\_。  
A. 水  
B. 空气  
C. 食物  
D. 庇护所
2. 哪一组食物可以提供精力?  
A. 包菜、木瓜和橙  
B. 饼干、汽水和面包  
C. 饭、玉米片和米粉  
D. 黄豆、羊肉和鸡蛋
3. 如果彬彬常吃以下的食物, 他会长得\_\_\_\_\_。



- A. 健康  
B. 肥胖  
C. 瘦小  
D. 强壮
4. 以下哪一项说明是正确的?  
A. 我们要挑食, 才能获取足够的营养。  
B. 阳光是人类的基本需求。  
C. 露天焚烧垃圾是爱护基本需求的表现。  
D. 多吃豆类和肉类可以帮助我们成长。
5. 多吃以下哪一组食物可以帮助我们消化和排泄?  
A. 白菜和苹果  
B. 鱼和豆腐  
C. 茄子和螃蟹  
D. 鸡肉和香蕉

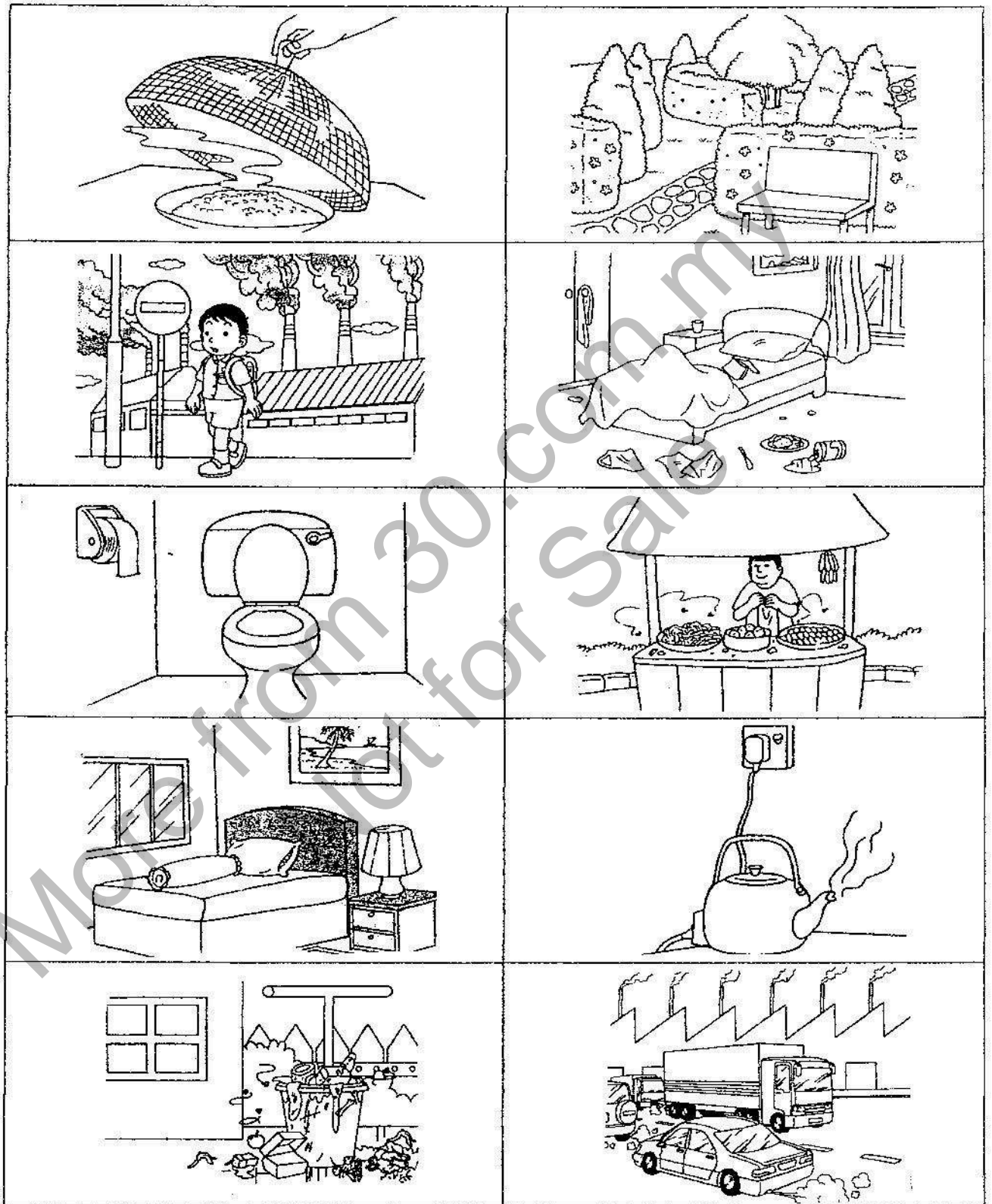
6. 下图显示华华的成长记录。



在成长的过程中, 华华的体重一直\_\_\_\_\_。


- A. 保持不变                      B. 增加  
C. 忽高忽低                      D. 减少
7. 要怎么做才能让空气变得清新?  
A. 露天焚烧垃圾                      B. 让工厂排出废烟  
C. 多种植花草树木                      D. 从不乘搭公共交通工具
8. 在八岁时, 小李的体高是 123cm。在十岁时, 他可能有多高?  
A. 132cm                      B. 123cm                      C. 115cm                      D. 109cm
9. 使用键盘打字时, 哪一根手指应该放在空格键上?  
A. 食指                      B. 无名指  
C. 拇指                      D. 小指
10. 顺序排列微软文字处理软件 (Microsoft Word) 建立表格的步骤。  
I. 点击“OK”                      II 点击“Table”  
III 输入列数和行数                      IV 点击“Insert” → “Table”  
A. I、II、III、IV                      B. II、III、IV、I  
C. II、IV、III、I                      D. I、III、II、IV

F. 将爱惜所拥有的基本需求的表现涂上颜色。(10 x 1% = 10%)




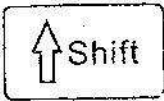
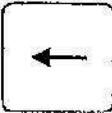

G. 比较三位学生的体型、体高和体重, 然后将正确的答案圈起来。

(10 x 1% = 10 %)



1. 伟哲的体型比永康和政行 ( 大 , 小 ) 。
2. 永康的体型比 ( 伟哲 , 政行 ) 小, 但比 ( 伟哲 , 政行 ) 大。
3. 政行的体高是三位同学中最 ( 矮 , 高 ) 的。
4. 伟哲比永康 ( 矮 , 高 ) , 也比政行 ( 矮 , 高 ) 。
5. 政行的体重比伟哲和永康 ( 重 , 轻 ) 。
6. 永康的体重和政行的体重相差 ( 6kg , 7kg ) 。
7. ( 永康 , 政行 ) 是三位学生中体型最小、体重最轻和体高最矮的。
8. 伟哲的体重和政行的体重共 ( 59kg , 48kg ) 。

H. 把正确的功能说明涂上颜色。 (6 x 2% =12 % )

1.		空格键	大写字母锁定键
2.		字型变换键	箭头键
3.	Table > Insert > Rows Below	插入新一列	插入新一行
4.		向左移	向右移
5.	Table > Insert > Table...	建立表格	输入文字
6.		回格键	字型变换键



## 2016 SAINS MARCH

**A.**

庇护所	水
食物	空气

**B.**

1. 基本需求
2. 遥控汽车
3. 精力
4. 水分
5. 营养 \ 偏食
6. 躲避危险 \ 遮阳

**C.**

- 3、1、4、2、5、6

**D.**

精力	成长	健康
马铃薯	蛋	芒果
玉米片	鸡肉	花椰菜
米粉	豆奶	芹菜

**E.**

- |      |       |
|------|-------|
| 1. B | 6. B  |
| 2. C | 7. C  |
| 3. B | 8. A  |
| 4. D | 9. C  |
| 5. A | 10. C |

**F.**

✓	✓
✓	
✓	✓

**G.**

1. 大
2. 伟哲、政行
3. 矮
4. 高、高
5. 轻
6. 6kg
7. 政行
8. 59kg

**H.**

1.		
2.		
3.		
4.		
5.		
6.		