

蒲种益智国民型华文学校

2016年第三学年数学试卷(一)第一次评审

PENILAIAN MATEMATIK (KERTAS 1) TAHUN 3 KALI PERTAMA

时间: 1小时 MASA: 1 JAM

姓名: \_\_\_\_\_ ( )

分数: \_\_\_\_\_ /40

班级: 3 ( )

日期: 29. 3. 2016

下列各题都有A、B、C和D四项选择答案, 只有一项是正确的。试选出正确的答案。

1) 把 3680 写成文字。

- A. 三百六十八
- B. 三千六百八十
- C. 三千六百零八
- D. 三千八百六十

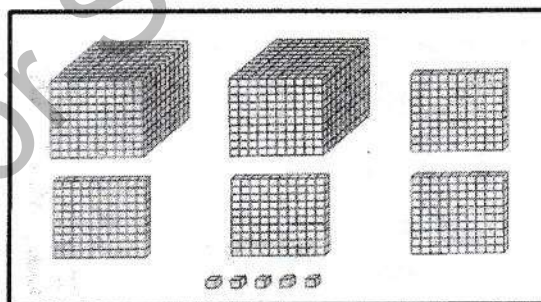
5) 下列哪项是一百一十逆序地数?

- A. 4000, 3000, 2000, 1000
- B. 8500, 7500, 6500, 5500
- C. 4860, 4760, 4660, 4560
- D. 7690, 7680, 7670, 7650

2) 在 9572 中, 7的数值是

- A. 7
- B. 70
- C. 700
- D. 7000

6)



3) 下列哪项是8219的分析式?

- A.  $8000+200+10+9$
- B.  $8000+20+10+9$
- C.  $8000+200+100+9$
- D.  $8000+200+1+9$

上图显示一组积木。这组积木共有多少个?

- A. 6005
- B. 2545
- C. 2450
- D. 2405

4) 找出8067的十位近似值。

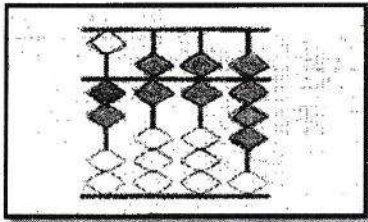
- A. 8070
- B. 8000
- C. 8200
- D. 8100

7) 以下哪个数目在6387之前?

- A. 6390
- B. 6389
- C. 6388
- D. 6386

- 8) 以下哪个数目的百位近似值是4300?  
A. 4287  
B. 4099  
C. 3265  
D. 3927

9)



上图算盘中的数目是

- A. 2228  
B. 2789  
C. 2668  
D. 2331
- 10)  $1538 + 2361 = ( \quad )$   
A. 3899  
B. 2989  
C. 3878  
D. 4900
- 11)  $3008 + 983 + 1984 = ( \quad )$   
A. 5935  
B. 5975  
C. 4981  
D. 5874
- 12) 以下哪项算式的和是8174?  
A.  $3509 + 4565$   
B.  $3124 + 5070$   
C.  $4496 + 3678$   
D.  $4322 + 4852$

- 13)  $7254 - 2153 = ( \quad )$   
A. 5001  
B. 4010  
C. 5101  
D. 5121

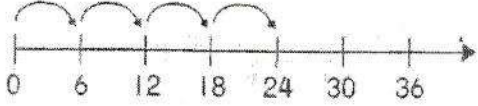
- 14)  $7685 - 243 - 1089 = ( \quad )$   
A. 4166  
B. 6353  
C. 6263  
D. 4067

- 15) 计算5045与4608的差数。  
A. 437  
B. 443  
C. 1437  
D. 1443

- 16) 下图显示一个加法算式。

$$7 + 7 + 7 + 7 + 7$$

以下哪项是它的乘法算式?

- A.  $5 \times 7 = 35$   
B.  $7 \times 5 = 35$   
C.  $6 \times 7 = 42$   
D.  $4 \times 7 = 28$
- 17) 
- 上图数轴的乘法算式是
- A.  $6 \times 4 = 24$   
B.  $4 \times 6 = 24$   
C.  $6 \times 6 = 36$   
D.  $4 \times 4 = 16$

18) 以下哪项的积最大?

- A.  $25 \times 8$
- B.  $318 \times 4$
- C.  $140 \times 6$
- D.  $524 \times 3$

19) 以下哪项答案是正确的?

- A.  $9 \times 7 = 64$
- B.  $4 \times 8 = 36$
- C.  $7 \times 7 = 48$
- D.  $3 \times 9 = 27$

20)  $20 \div ( ) = 5$



括号里应填上什么数目?

- A. 3
- B. 4
- C. 5
- D. 6

21) 以下除法算式的答案都是 4, 除了

- A.  $8 \div 2$
- B.  $16 \div 4$
- C.  $40 \div 10$
- D.  $30 \div 5$

22) 哪个图中涂黑部分所代表的分数是六分之四?



23) 以下哪项小数的值最小?

- A. 0.6
- B. 0.8
- C. 0.2
- D. 0.4

24) 下图的钟面显示一个时刻。



2个小时后是什么时刻?

- A. 8:00
- B. 8:30
- C. 9:00
- D. 9:30


25) 下图显示3张卡片的长度。



顺序排列以上卡片的长度。

- A. P、Q、R
- B. P、R、Q
- C. Q、R、P
- D. Q、P、R

26) 下图显示一条彩带的长度。

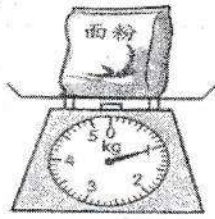


该彩带的长度是多少cm?

- A. 10
- B. 11
- C. 12
- D. 13



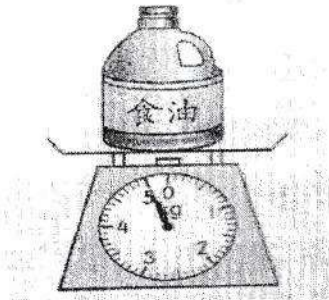
27) 下图显示一包面粉的质量。



该面粉的质量是多少kg?

- A. 1
- B. 2
- C. 3
- D. 4


28) 下图显示一罐食油的质量。



以下哪项说明是正确的?

- A. 食油的质量是5克。
- B. 食油的质量是500克。
- C. 食油的质量是5公斤。
- D. 食油的质量是50公斤。

29) 下图显示一个盛有水的量杯。



这个量杯里有多少升的水?

- A. 1
- B. 2
- C. 3
- D. 4

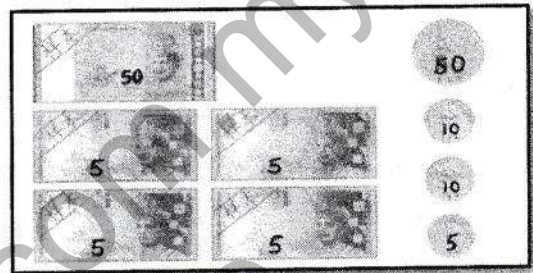
30) RM 50 = ( ) 张 RM10 +

4张 RM 5

括号内应填上什么正确的答案?

- A. 1
- B. 2
- C. 3
- D. 4

31) 下图显示一些纸币。

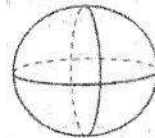


计算以上的总币值。

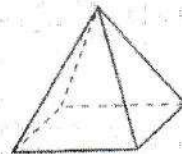
- A. RM 50.80
- B. RM 60.45
- C. RM 65.70
- D. RM 70.75

32) 以下哪个是圆柱体?

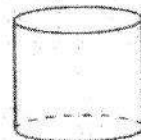
A.




B.



C.



D.



- 33) 丽丽有2084张书签, 明明的书签比丽丽少49张。明明有多少张书签?  
A. 2035  
B. 2045  
C. 2133  
D. 2143
- 34) 哈山把12个橙平均装进2个袋子里。每个袋子里有多少个橙?  
A. 4  
B. 6  
C. 12  
D. 24
- 35) 志光收集了2103张邮票, 伟民收集的邮票比志光多356张。他们两人共收集了多少张邮票?  
A. 1747  
B. 2459  
C. 2815  
D. 4562
- 36) 1个盒子可装8个瓶子。4个相同的盒子可装几个瓶子?  
A. 12  
B. 24  
C. 32  
D. 36
- 37) 文强有RM100。他买了一个书包后还剩下RM38.30。该书包的价钱是多少?  
A. RM61.70  
B. RM62.30  
C. RM138.30  
D. RM168.70
- 38) 林太太在早上7:30到菜市去买菜。她在早上9:00才回家。林太太用了多少时间来买菜?  
A. 1小时  
B. 1小时半  
C. 2小时  
D. 2小时半
- 39) 一个梨重360g。木瓜比梨重580g。木瓜的重量是多少?  
A. 630g  
B. 780g  
C. 860g  
D. 940g
- 40) 一名书商原有9057本书。他把2432本书送去仁才小学, 3109本书送去育民小学后, 还剩下多少本书?  
A. 3516  
B. 3854  
C. 4328  
D. 5570