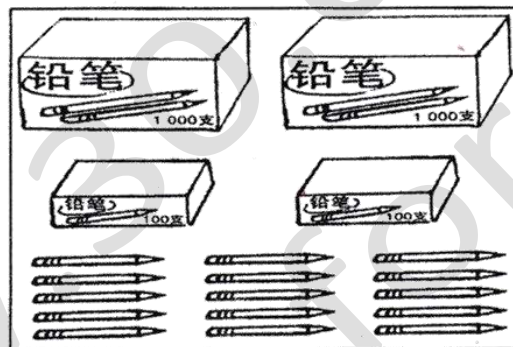


蒲种益智国民型华文学校
2016 年第三学年数学 (试卷二) 第一次评审
PENILAIAN MATEMATIK (KERTAS 2) TAHUN 3 KALI PERTAMA

姓名: _____ () 得分: _____ /40 (试卷一)
班级: 3 () : _____ /60 (试卷二)
日期: 5/4/2016 总分: _____ /100

回答全部题目。必须写出步骤, 以免丢失分数。

1. 数一数, 写出数目。



a. (文字) _____ (1分)


b. (数字) _____ (1分)

2. 填上正确的数学符号。

a) $32 () 4 = 8$ (1分)

b) $8 () 4 = 32$ (1分)

3. 以数字写出涂黑部分所代表的分数与小数。



分数	小数

(2 分)

4. a) 写出画线数字的数位与数值。

数目	数位	数值
8 <u>9</u> 28		

(2 分)


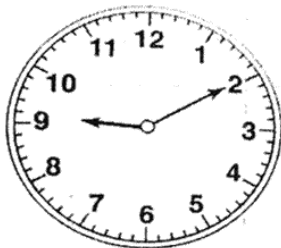
b) 8928 的百位近似值是 _____ (1 分)

c) 写出 8928 之后的一个数目。8928、() (1 分)

5. a) 一天 = _____ 小时 (1 分)

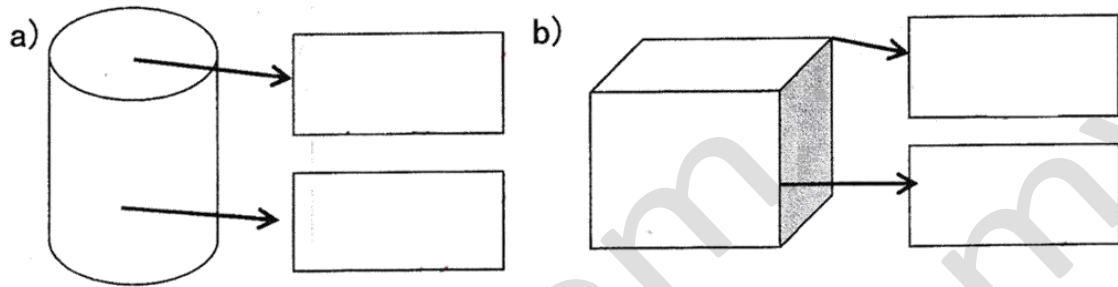
b) 一小时 = _____ 分钟 (1 分)

c) 根据以下的时钟, 写出正确的时刻。



(1 分)

6. 写出以下立体各部分的名称。



(4 分)

7.



a) P 的值是 _____。


(1 分)

b) R 的值是 _____。

(1 分)

c) $R - 2654 =$ _____

(2 分)



如果这考卷对您有帮助, 请考虑提供您所拥有的考卷, 让其他人也受惠
您可电邮至 30commy@gmail.com 或 PM 我们的 Facebook 专页: fb.com/sjkcmv

8. a) 找出 3525、1421 与 813 的和。



(2 分)

b) $312 \times 3 =$ _____



(2 分)

9. 完成以下数列。

a) _____, 4340, 4338, _____, 4334 (2 分)

b) 2800, 2700, _____, _____, 2400 (2 分)

10. 数一数

a) $4517 - + - (- \quad) = 6539$

(2分)



b) $(\quad) - 2394 = 4981$

(2分)



11. a) 数一数。

i) $1264 + 2273 = \underline{\hspace{2cm}}$ (1分)

ii) $4073 - 225 = \underline{\hspace{2cm}}$ (1分)

iii) $3039 - 1104 = \underline{\hspace{2cm}}$ (1分)

iv) $1498 + 2735 = \underline{\hspace{2cm}}$ (1分)

b) 以顺序排列以上答案。

(\quad), (\quad), (\quad), (\quad) (1分)

12. a) 一家蛋糕制作厂在上个星期制作了 4316 个蛋糕, 这个星期制作 2590 个蛋糕。蛋糕制作厂在这两个星期内共制作了多少个蛋糕?

答: _____



(3 分)

- b) 蛋糕制作厂在这两个星期所制作的蛋糕相差多少个?

答: _____



(3 分)

13. a) 一个箱子可装 24 支矿泉水, 9 个相同的箱子里共有多少支矿泉水?

答: _____

(3 分)

b) 陈太太拿了 96 支矿泉水去招待客人。现在箱子里还剩多少支矿泉水?

答: _____

(3 分)

14. 以下是木都所拥有的钱币。



a) 以数字写出木都所拥有的钱币。

_____ (1 分)

b) 木都想买一个价格 RM98 的书包。他还需要多少钱才能买到那个书包?

答: _____

(3 分)

15. 下表显示三名学生收集的铝罐数量。

学生	铝罐数量 (个)
明强	2767
光华	4012
阿里	1483

a) 他们三人一共收集了多少个铝罐?

答: _____

(3分)

b) 找出最多与最少的铝罐差数。

答: _____

(3分)