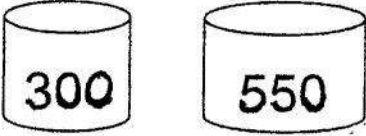



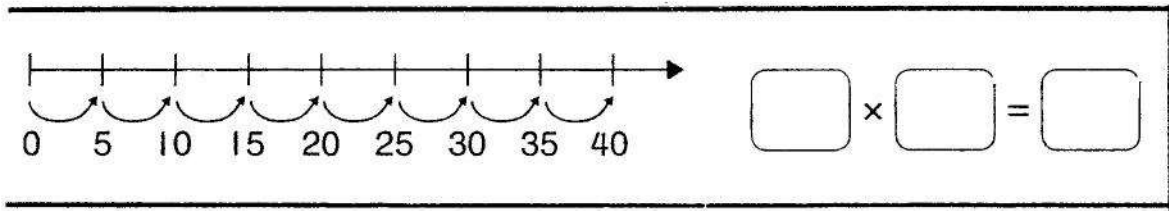
士毛月新国民型华文小学	数学一	/60
二年级数学评审 (试卷二) 2016年5月	数学二	/40
姓名: _____ 班级: 2 () 编号: () 日期: _____	总分	/100
家长签名: _____		

作答说明：回答所有的试题。你必须把计算的步骤清楚地写出来，有助于获取分数。

序	题目	
1.	以文字写出 906。	1
2.	加加看。 	1
3.	减一减。 $\begin{array}{r} 768 \\ - 453 \\ \hline \\ \hline \end{array}$	1
4.	乘一乘。 $4 \times 5 = (\quad)$	1
5.	以符号“x”和“=”完成算式。  $3 (\quad) 3 (\quad) 9$	1

<p>6.</p>	$\begin{array}{r} 375 \\ + 198 \\ \hline (\quad) \\ + 426 \\ \hline (\quad) \end{array}$	<div style="border: 1px solid black; width: 20px; height: 20px; margin: 0 auto; display: flex; align-items: center; justify-content: center;">2</div>						
<p>7.</p>	<p>计算以下数目的总和。</p> <p style="text-align: center;">248、69、145</p>	<div style="border: 1px solid black; width: 20px; height: 20px; margin: 0 auto; display: flex; align-items: center; justify-content: center;">2</div>						
<p>8.</p>	<p>应用以下三个数字组成一个最小的数目。以文字写成答案。</p> <div style="display: flex; align-items: center; justify-content: center; gap: 20px;"> <div style="border: 1px solid black; border-radius: 50%; width: 40px; height: 40px; display: flex; align-items: center; justify-content: center;">9</div> <div style="border: 1px solid black; border-radius: 50%; width: 40px; height: 40px; display: flex; align-items: center; justify-content: center;">7</div> <div style="border: 1px solid black; border-radius: 50%; width: 40px; height: 40px; display: flex; align-items: center; justify-content: center;">8</div> </div> <p style="margin-left: 200px;">a) 最小的数目：_____</p> <p style="margin-left: 200px;">b) 文字：_____</p>	<div style="border: 1px solid black; width: 20px; height: 20px; margin: 0 auto; display: flex; align-items: center; justify-content: center;">2</div>						
<p>9.</p>	<p>写出画线数字的数位和数值。</p> <table border="1" style="margin-left: auto; margin-right: auto; border-collapse: collapse; text-align: center;"> <thead> <tr> <th style="padding: 5px;">数目</th> <th style="padding: 5px;">数位</th> <th style="padding: 5px;">数值</th> </tr> </thead> <tbody> <tr> <td style="padding: 5px;"><u>6</u>94</td> <td style="padding: 5px;"></td> <td style="padding: 5px;"></td> </tr> </tbody> </table>	数目	数位	数值	<u>6</u> 94			<div style="border: 1px solid black; width: 20px; height: 20px; margin: 0 auto; display: flex; align-items: center; justify-content: center;">2</div>
数目	数位	数值						
<u>6</u> 94								
<p>10.</p>	<p>根据数位，完成以下分析式。把答案写成百位近似值。</p> <div style="margin-left: 40px;"> <div style="border: 1px solid black; width: 60px; height: 30px; display: inline-block; margin-right: 10px;"></div> = 8个百、2个十和9个一 </div> <p style="margin-left: 40px;">百位近似值：_____</p>	<div style="border: 1px solid black; width: 20px; height: 20px; margin: 0 auto; display: flex; align-items: center; justify-content: center;">2</div>						
<p>11.</p>	<p>空格内应该填上什么数目？</p> <div style="display: flex; align-items: center; justify-content: center; gap: 20px; margin-top: 20px;"> <div style="border: 1px solid black; border-radius: 15px; padding: 10px 20px;">5</div> <div style="border: 1px solid black; border-radius: 15px; width: 40px; height: 40px;"></div> <div style="border: 1px solid black; border-radius: 15px; padding: 10px 20px;">15</div> <div style="border: 1px solid black; border-radius: 15px; width: 40px; height: 40px;"></div> <div style="border: 1px solid black; border-radius: 15px; padding: 10px 20px;">25</div> </div>	<div style="border: 1px solid black; width: 20px; height: 20px; margin: 0 auto; display: flex; align-items: center; justify-content: center;">2</div>						

12. 写出乘法算式



2

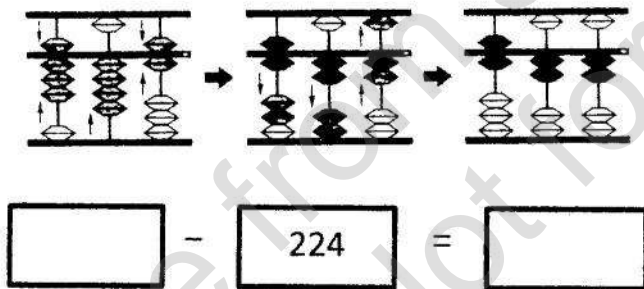
13. 693 与 99 的差是多少？

2

14. - 126 = 295

2

15. 根据珠算盘，写出竖式。



2

16.

星期一	158 个
星期二	比星期一多 55 个
星期三	192 个

左表显示王大妈在三天里所卖出的糕饼数量。王大妈在星期二和星期三共卖出多少个糕饼？

3

17.	运动场上共有 580 个红、黄、青的彩球。红色和黄色彩球各为 200 个。计算青色彩球有几个?	3
18.	果园里有 358 棵榴莲树。山竹树比榴莲树多 97 棵。请问果园里共有多少棵果树?	3
19.	每只鸡有两条腿。8 只鸡共有多少条腿?	3
20.	如果我们一天喝 8 杯水。5 天里, 我们共喝了多少杯水? 以文字写出答案。 文字: _____	3

答案

- | | |
|---------------|--------------|
| 1. 九百零九 | 11. 10; 20 |
| 2. 850 | 12. 8; 5; 40 |
| 3. 315 | 13. 594 |
| 4. 20 | 14. 421 |
| 5. $\times =$ | 15. 846; 622 |
| 6. 573; 999 | 16. 405 |
| 7. 462 | 17. 180 |
| 8. a) 789 | 18. 813 |
| b) 七百八十九 | 19. 16 |
| 9. 百位; 600 | 20. 40; 四十 |
| 10. 829; 800 | |

More from [30.com.my](https://www.30.com.my)
Not for Sale