

三年级数学试卷(一) 月考 (日期: 7/2017)

姓名: _____ () 班级: 3 _____ 评分: /40

这份试卷共有 40 题。全部题目必须作答。每题附有 A、B、C 和 D 四个选项。只可选一个答案, 然后把你所选的答案写在答案纸上。(40%)

1. 将 7 806 写成文字。

- A 七千八百六十八
- B 七千八百六十
- C 七千八百一十六
- D 七千六百零六

2. 从 4 870 开始十个十个顺序地数, 第五个数目是

- A 4 920 B 4 900
- C 4 890 D 4 880

3. 以下数目的千位近似值都是 6 000, 除了

- A 6 501 B 6 499
- C 6 001 D 5 999

4. 以 3、1、0、8 组成一个最大和最小的四位数, 然后计算它们的和。

- A 9 348 B 8 310
- C 7 705 D 6 237

5. $1\,564 \times 6 =$

把答案写成百位近似值。

- A 9 400 B 9 380
- C 9 300 D 9 000

6. $7\,060 \div 7 =$

- A 108 B 108 余 2
- C 108 余 4 D 1 008 余 4

7. 66 609 的分析式是

- A $9 + 60 + 6\,000$
- B $6\,000 + 90 + 9$
- C $6\,000 + 600 + 9$
- D $6\,000 + 600 + 90$

8. 找出 2 917 除以 7 的余数。

- A 2 B 3
- C 5 D 6

9. 以下哪项的商与 63 除以 9 的商相同?

- A $27 \div 3$ B $32 \div 4$
- C $42 \div 7$ D $56 \div 8$

10. 下图显示一个英文单词。

SUCCESS

S 字母占全部字母的几分之几?

- A $\frac{1}{7}$ B $\frac{3}{7}$
- C $\frac{4}{7}$ D $\frac{3}{8}$

11. 以下分数都等值, 除了

- A $\frac{1}{2}$ B $\frac{2}{3}$
- C $\frac{4}{6}$ D $\frac{6}{9}$

12. 将 $\frac{6}{8}$ 化为最简分数。

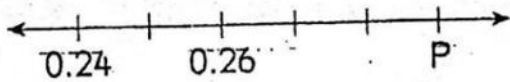
A $\frac{5}{6}$
C $\frac{3}{4}$

B $\frac{4}{6}$
D $\frac{1}{2}$

C $\frac{60}{100} = 6\%$

D $\frac{75}{100} = 7.5\%$

13. 下图显示一条数轴。







P =

- A 0.28 B 0.29
C 0.30 D 0.32

14. 哪个小数比 $\frac{84}{100}$ 大?

- A 0.88 B 0.79
C 0.62 D 0.48

15. 哪项显示涂黑部分占全图的 60%?




16. 哪项换算是正确的?

A $\frac{40}{100} = 25\%$

B $\frac{53}{100} = 53\%$

17. 0.41 读作

- A 四一 B 零四一
C 零点四一 D 零点四十一



18.

上图是由 100 颗同样大小的星星所组成的。找出涂黑部分所表示的小数。

- A 0.02 B 0.08
C 0.2 D 0.8

以下哪项是不正确的?

19. A $\frac{5}{10} = 0.5$
B $\frac{5}{100} = 0.05$
C $\frac{50}{100} = 0.50$
D $\frac{50}{100} = 5.0$

20.

以下哪项比 $\frac{49}{100}$ 小?

- A 0.94 B 0.90
C 0.71 D 0.40

21.

以下哪项是 $\frac{2}{3}$ 的等值分数?

- A $\frac{2}{6}$ B $\frac{4}{6}$
C $\frac{3}{9}$ D $\frac{6}{8}$

22.

$$\square - 2781 - 1950 = 488$$

空格内应填上什么数目?

- A 5219 B 4731
C 831 D 343

23.

以 4、1、5、2 组成一个最大和最小的数目, 然后找出它们的和。

- A 1245 B 4176
C 5421 D 6666

24.

下表显示 3 年级学生在某天的出席人数。

	男生	女生
出席人数	38	49
缺席人数	4	9

计算当天出席学生的百分比。

- A 87%
B 58%
C 42%
D 13%

25. 图 8 显示一个被平分成四份的蛋糕。

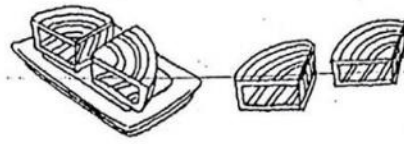



图 8

哪个图中涂黑部分所代表的分数和盘中的蛋糕所代表的分数是相等的?



26. 图 9 显示一盒浆糊。



图 9

3 个同样的盒子里共有多少支浆糊?

- A 12 B 15
C 18 D 19

27.

以下哪个分数与 $\frac{6}{8}$ 相等?

- A $\frac{1}{2}$ B $\frac{2}{3}$
C $\frac{3}{4}$ D $\frac{4}{5}$

28.

$$\square \div \frac{1}{6} = \frac{1}{2}$$

空格内应填上什么数目?

- A 2 B 3
C 4 D 5

29. $6781 = \square + 1566$

空格内应填上什么数目?

- A 5205 B 5215
C 5225 D 5315

30. 一辆卡车可载 145 箱货物。
7 辆同样的卡车可载多少箱货物?

- A 1009 B 1015
C 1203 D 1446

31. 林老师把 500 块饼干平均分给
100 名学生。

每名学生会得到多少块饼干?

- A 5 B 6
C 7 D 8

32. 甜甜蛋糕店每天制作 118 块蛋糕。
甜甜蛋糕店在 10 天内共制作了多少
块蛋糕?

- A 1180 B 1280
C 1380 D 1480

33. 哪项图中涂黑部分所代表的分数
是正确的?



34. 伟康在 4 天里整理了
1344 本图书。他平均每
天整理多少本图书?

- A 672 B 336
C 304 D 168

35. 精英书局买进 1898 本杂志、
4050 本故事书及 2596 本参考
书。

精英书局共买进多少本书?

- A 7023 B 8544
C 8616 D 8737

36. 花店员工把 110 枝玫瑰分别包装
成一束 3 枝。
这些玫瑰可包装成多少束? 还剩
多少枝玫瑰?

- A 37, 3 B 37, 2
C 36, 3 D 36, 2

37. 一个瓶子里有 240 颗维生素丸。
8 个同样的瓶子里共有多少颗维
生素丸?

- A 1732 B 1810
C 1920 D 1995

38. 丽儿有 1083 张书签, 明明的书,
签比丽儿少 59 张。
明明有多少张书签?

- A 1018 B 1021
C 1024 D 1039

39. 林老板把 405 个罐头食品平分给
9 家孤儿院。
每家孤儿院可得到多少个罐头食
品?

- A 35 B 45
C 55 D 65

40. 游乐园里有 2716 个游客,
其中有 1249 个是儿童, 其余
的是成人。成人比儿童多,
多了多少个?

- A 1467 B 338
C 218 D 207

三年级数学 7 / 2017

- | | |
|-------|-------|
| 1. D | 21. B |
| 2. A | 22. A |
| 3. A | 23. D |
| 4. A | 24. A |
| 5. A | 25. B |
| 6. D | 26. C |
| 7. C | 27. C |
| 8. C | 28. B |
| 9. D | 29. B |
| 10. B | 30. B |
| 11. A | 31. A |
| 12. C | 32. A |
| 13. B | 33. C |
| 14. A | 34. B |
| 15. D | 35. B |
| 16. B | 36. D |
| 17. C | 37. C |
| 18. D | 38. C |
| 19. D | 39. B |
| 20. D | 40. C |