

第二学年数学

试卷一

姓名: _____ ()

评分: _____

班级: 2 ()

日期: ___ / ___ / ___

家长签阅: _____

A) 仔细阅读后把正确答案的英文字母圈起来。 $10 \times 1\% = 10\%$

1) $58 + 2 + 170 =$

- A) 230 B) 248 C) 330

2) $\square + 134 = 374$

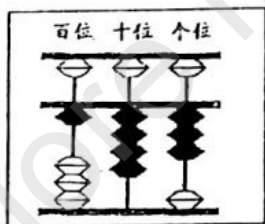
空格里应填入什么数目?

- A) 220 B) 240 C) 340

3) 下列哪项的和最大?

- A) $346 + 188$ B) $126 + 430$ C) $227 + 353$

4) 下图显示一个珠算盘。



以下哪项的答案相等于珠算盘所代表的数目?

- A) $472 - 329$ B) $362 - 108$ C) $521 - 247$

5) $\square - 175 = 224$

空格里应填入什么数目?

- A) 399 B) 479 C) 599

6) 下图显示一道数学题。

$4 \times 2 =$

下列哪项是上图积数的答案?

- A) 6 B) 8 C) 12

7) 下列哪项的积最大?

- A) 2×10 B) 5×5 C) 6×4

8) 下表显示伟恒在两天里卖出的包子数量。

天	卖出的包子数量
星期六	240 个
星期日	比星期六多 10 个

伟恒在两天里共卖出多少个包子?

- A) 250 B) 260 C) 490

9) 妈妈买了 7 袋苹果, 每袋有 5 个。妈妈共买了多少个苹果?

- A) 45 B) 40 C) 35

10) 柏伶村有 936 个居民。男居民有 489 个, 女居民有多少个?

- A) 447 B) 457 C) 474


B) 圈出正确答案。4x1%=4%

- 1) 把较大的数目圈起来 (345 , 542)
- 2) 把较小的数目圈起来 (189 , 212)
- 3) 875 的十位近似值是 (870 , 880)
- 4) 410 的百位近似值是 (400 , 500)

C) 算一算, 连一连。3x1%=3%

- | | |
|----------------------|-------------------|
| 1) $597 - 234 - 123$ | $736 - 312 - 113$ |
| 2) $698 - 283 - 212$ | $586 - 132 - 251$ |
| 3) $669 - 235 - 123$ | $987 - 627 - 320$ |

D) 数一数, 圈出答案等于“0”的星星。6 x 1% = 6%



E) 圈出正确的数字。6x1%=6%

- 1) $4 \times (2 , 4) = 8$
- 2) $6 \times (0 , 1) = 6$
- 3) $(2 , 5) \times 5 = 10$
- 4) $(7 , 6) \times 4 = 28$
- 5) $(8 , 9) \times 2 = 18$
- 6) $(7 , 9) \times 3 = 21$

F) 计算以下数目的总和, 把代表正确答案的字母填入 ()。5x1%=5%

P=65 Q=66 R=734 S=766 T=999

- 1) 634, 100 ()
- 2) 47, 18 ()
- 3) 39, 27 ()
- 4) 326, 173, 500 ()
- 5) 78, 250, 438 ()

G) 把对的积画 (\checkmark), 错的积画 (X)。6x1%=6%

- 1) $1 \times 2 = 2$ ()
- 2) $6 \times 10 = 16$ ()
- 3) $2 \times 2 = 4$ ()
- 4) $4 \times 4 = 8$ ()
- 5) $6 \times 5 = 35$ ()
- 6) $7 \times 0 = 0$ ()

第二学年数学评鉴 (二)

试卷二

姓名: _____ ()

评分: _____

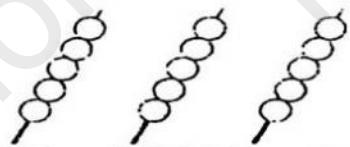
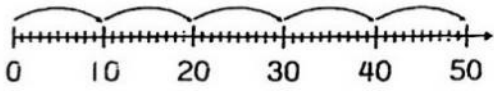
班级: 2 ()

日期: ___ /

家长签阅: _____

回答所有的问题, 必须清楚地写出所有的计算步骤。40%

1	$526 = 500 + () + 6$	1分
2	$\begin{array}{r} 147 \\ + 66 \\ \hline \end{array}$	1分
3	$5 + 5 + 5 + 5 + 5 = ()$	1分
4	$3 \times () = 0$	1分
5	6乘3等于多少?	1分
6	$451 + () = 687$	2分
7	$() - 164 = 352$	2分
8	$\begin{array}{r} 370 \\ - 106 \\ \hline () \\ - 60 \\ \hline () \end{array}$	2分

9	$753 - 133 = (\quad)$	2分
10	$202 + 411 + 53 = (\quad)$	2分
11	完成以下数列。 $728, 628, (\quad), (\quad), 328, 228$	2分
12	以竖式计算 676 与 354 的差。	2分
13	空格里应填写什么符号? $2 + 2 + 2 + 2 (\quad) 8$ $4 (\quad) 2 = 8$	2分
14	看图写出连加法算式。  $\square + \square + \square = \square$	2分
15	看图写出乘法算式。  $\square \times \square = \square$	2分

16	<p>国成从罐子里拿走 358 颗弹珠后, 还剩 212 颗。罐子里原有多少颗弹珠?</p> <div style="border: 1px solid black; height: 40px; width: 100%;"></div> <p>答: 罐子里原本有 () 颗弹珠。</p>	3 分
17	<p>开心果园里种了 330 棵榴莲树和 166 棵芒果树。这两种果树的数量相差多少?</p> <div style="border: 1px solid black; height: 40px; width: 100%;"></div> <p>答: 这两种果树的数量相差 () 棵。</p>	3 分
18	<p>凯阳有 442 张邮票, 而子康的邮票比凯阳少 178 张。子康有多少张邮票?</p> <div style="border: 1px solid black; height: 40px; width: 100%;"></div> <p>答: 子康有 () 张邮票。</p>	3 分
19	<p>乐萱一天吃 5 粒葡萄, 一个星期内她共吃了多少粒葡萄?</p> <div style="border: 1px solid black; height: 40px; width: 100%;"></div> <p>答: 她共吃了 () 粒葡萄。</p>	3 分
20	<p>一个水果蛋糕上有 4 个草莓, 9 个水果蛋糕上共有多少个草莓?</p> <div style="border: 1px solid black; height: 40px; width: 100%;"></div> <p>答: 共有 () 个草莓。</p>	3 分

答案

试卷一

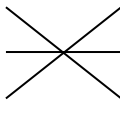


A)

1. A
2. B
3. C
4. A
5. A
6. B
7. B
8. C
9. C
10. A

B)

1. 542
2. 189
3. 880
4. 400

C)

1. 
2. 
3. 

D)

$$5 \times 0, 7 \times 0, 4 \times 0$$

E)

1. 2
2. 1
3. 2
4. 7
5. 9
6. 7

F)

1. R
2. P
3. Q
4. T
5. S

G)

1. \checkmark
2. \times
3. \checkmark
4. \times
5. \times
6. \checkmark

试卷二

- 1) 20
- 2) 213
- 3) 25
- 4) 0
- 5) 18
- 6) 236
- 7) 516
- 8) 264, 204
- 9) 620, 620
- 10) 666, 613, 666

- 11) 528, 428
- 12) 322
- 13) (=) (\times)
- 14) 5, 5, 5, 15
- 15) 5, 10, 50
- 16) $358 + 212 = 570$ (570)
- 17) $330 - 166 = 164$ (164)
- 18) $442 - 178 = 264$ (264)
- 19) $7 \times 5 = 35$ (35)
- 20) $9 \times 4 = 36$ (36)