

第二学年数学评鉴 (二)
试卷一

姓名: _____ ()

评分: _____%

班级: 2 ()

日期: () / /

家长签名: _____

A) 仔细阅读后, 把正确答案的英文字母圈起来。 (10x1%=10%)

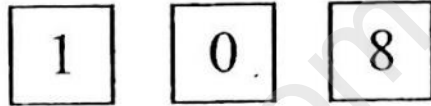
1) $547 - 324 = (\quad)$

- A) 123 B) 223 C) 233

2) 301 和 287 相差多少?

- A) 14 B) 24 C) 124

3) 下图显示三个数字。



把以上数字组成一个最大和最小的数目, 然后找出它们的差。

- A) 602 B) 693 C) 702

4) 2×5 的加法写法是

- A) $2 + 5$ B) $5 + 5$ C) $2 + 2 + 2 + 2 + 2$

5) $\square \times 10 = 10$

- A) 1 B) 2 C) 3

6) 以下的乘法算式, 哪项的答案不是6?

- A) 0×6 B) 1×6 C) 3×2

7) $918 - \square = 599$

- A) 319 B) 419 C) 429

8) 下列哪项说明是正确的?

- A) 五和四的积数是九
B) 三乘以二等于五
C) 二个十等于二十

9) 下列哪项相差最多?

- A) $352 - 108$
B) $415 - 289$
C) $538 - 355$

10) 小丽和父母, 还有4个堂兄妹各吃了2块蛋糕。他们一共吃了多少块蛋糕?

- A) 8 B) 12 C) 14

B) 圈出正确答案。(4x1%=4%)

- 1) 把较大的数目圈起来 (245 , 254)
2) 把较小的数目圈起来 (309 , 313)
3) 618的十位近似值是 (620 , 610)
4) 745的百位近似值是 (700 , 800)

C) 答案对的, 在格子里画 \checkmark , 答案错的, 在格子里画 \times 。 (5x1%=5%)

1.	$3 \times 4 = 12$	
2.	$9 \times 0 = 9$	
3.	$6 \times 2 = 8$	
4.	$3 \times 10 = 30$	
5.	$8 \times 5 = 40$	

D) 计算以下数目的总和, 把代表正确答案的英文字母填入空格里。 (5x1%=5%)

A=110	B=322	C=422	D=588	E=610
-------	-------	-------	-------	-------

1.	29, 81	
2.	70, 352	
3.	214, 108	
4.	327, 15, 246	
5.	39, 171, 400	

E) 算一算, 连一连。 (6x1%=6%)

1.	$38 - 9$
2.	$11 - 5 - 4$
3.	$53 - 26 - 19$
4.	$128 - 74 - 5$
5.	$301 - 152 - 14$
6.	$719 - 535 - 64$

2
8
29
49
120
135

F) 圈出正确的数字。 (5x1%=5%)

- 1) $8 \times (0 , 1) = 8$
- 2) $4 \times (5 , 10) = 20$
- 3) $(2 , 3) \times 2 = 6$
- 4) $(6 , 7) \times 4 = 24$
- 5) $(7 , 8) \times 10 = 80$

G) 把正确的答案涂上颜色。 (5x1%=5%)

1. $754 - 653$	
100	101

2. $342 - 258$	
84	94

3. $445 - 239$	
206	216

4. $706 - 91 - 198$	
407	417

5. $560 - 205 - 174$	
181	291

第二学年数学
试卷二

姓名: _____ ()


评分: _____ %

班级: 2 ()

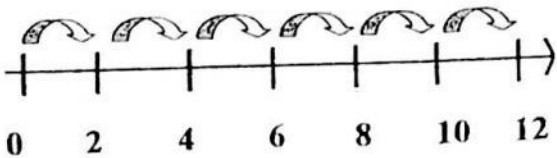

日期: ()

家长签阅: _____

回答所有问题, 必须清楚地写出所有的计算步骤。40%

1	350 的数字中, 3 的数位是 ()。	1 分
2	$109 = () + 9$	1 分
3	$\begin{array}{r} 567 \\ + 84 \\ \hline \end{array}$	1 分
4	 $\square \times \square = \boxed{30}$	1 分
5	$() \times 2 = 20$	1 分
6	$387 + () = 833$	2 分

7	$(\quad) - 245 = 509$	2分
8	$700 - 406 = (\quad)$	2分
9	$\begin{array}{r} 891 \\ - 437 \\ \hline \square \\ - 395 \\ \hline \square \end{array}$	2分
10	以竖式计算425与316的差。	2分
11	$111 - 99 - 7 = (\quad)$	2分
12	以竖式计算7和4的积。	2分

13	空格里应填上什么符号? $5 (\quad) 0 = 0$ $5 (\quad) 5 = 0$	2分
14	看图写出乘法算式。  $\square \times \square = \square$	2分
15	看图写出加法算式。  $\square + \square + \square + \square + \square + \square + \square = \square$	2分
16	篮子里原有 375 个小沙袋, 再加入 236 个。现在篮子里共有多少个小沙袋? <div style="border: 1px solid black; height: 30px; width: 300px; margin: 10px 0;"></div> 答: 篮子里共有 () 个小沙袋。	3分
17	10 只小狗有多少条腿? <div style="border: 1px solid black; height: 30px; width: 300px; margin: 10px 0;"></div> 答: 10 只小狗有 () 条腿。	3分

18	<p>晓婷和 3 个朋友各买了 5 包零食。他们总共买了多少包零食?</p> <div data-bbox="268 255 815 344" style="border: 1px solid black; height: 40px; width: 343px;"></div> <p>答: 他们总共买了 () 包零食。</p>	3 分						
19	<p>下表显示何叔叔两天里卖出的鱼的数量。</p> <table border="1" data-bbox="268 629 804 770"><thead><tr><th>星期</th><th>卖出的鱼的数量 (条)</th></tr></thead><tbody><tr><td>五</td><td>1 3 7</td></tr><tr><td>六</td><td>2 1 5</td></tr></tbody></table> <p>星期五所卖出的鱼的数量比星期六少多少?</p> <div data-bbox="268 882 860 972" style="border: 1px solid black; height: 40px; width: 371px;"></div> <p>答: 星期五所卖出的鱼的数量比星期六少 () 条。</p>	星期	卖出的鱼的数量 (条)	五	1 3 7	六	2 1 5	3 分
星期	卖出的鱼的数量 (条)							
五	1 3 7							
六	2 1 5							
20	<p>妈妈从超市买回来了 2 8 2 个芒果, 其中有 1 7 5 个用来做芒果蛋糕, 另外 3 8 个芒果送给邻居, 现在妈妈还剩下多少个芒果?</p> <div data-bbox="268 1424 860 1514" style="border: 1px solid black; height: 40px; width: 371px;"></div> <p>答: 妈妈还剩下 () 个芒果。</p>	3 分						

答案

试卷一

A)

1. B
2. A
3. C
4. B
5. A
6. A
7. A
8. C
9. A
10. C

B)

1. 254
2. 309
3. 620
4. 700

C)

1. \checkmark
2. \times
3. \times
4. \checkmark
5. \checkmark

D)

1. A
2. C
3. B
4. D
5. E

E)

1. 29
2. 2

3. 8

4. 49

5. 135

6. 120

F)

1. 1

2. 5

3. 3

4. 6

5. 8

G)

1. 101

2. 84

3. 206

4. 417

5. 181

试卷二

1. 百位

2. 100

3. 651

4. 6×5

5. 10

6. 446

7. 754

8. 294

9. 454, 59

10. 109

11. 5

12. 28

13. \times -

14. $6 \times 2 = 12$

15. $4 + 4 + 4 + 4 + 4 + 4 + 4 = 28$

16. $375 + 236 = 611$

17. $10 \times 4 = 40$

18. $4 \times 5 = 20$

19. $215 - 137 = 78$

20. $282 - 175 - 38 = 69$