

2017 年度二年级第二次统一评审

科目: 科学 时间: 1 小时 日期: 05/05/2017 家长签阅: _____
 学生姓名: _____ 班级: 2() 成绩: _____ %


A) 选择题。圈出正确的答案, 再把英文字母写在空格里。 (20%)

1) 下图的食物有什么功能?



- A. 提供精力 B. 帮助成长 C. 保持健康

2) 我们要多吃下列哪组食物?



3) 下列哪项动物和它的食物搭配是正确的?

动物	食物
A. 大象	老鼠
B. 老虎	鸡
C. 牛	萝卜

4) 下图显示三只老鼠被放在不同的容器内, 半小时后, 哪只老鼠会死亡?




5) 我们能用以下方法来爱惜所拥有的基本需求, 除了

- A. 保持房间的整洁。
 B. 喝煮沸的水。
 C. 把多拿的食物丢掉。

6) 下列都是青蛙生存的必要条件, 除了

- A. 阳光 B. 水分 C. 食物

7) 图 1 显示 P、Q 和 R 是三种动物。



它们有什么特点?

- A. 只吃植物 B. 吃植物和动物 C. 只吃动物

8) 哪项是健康的饮食习惯?



9) 这两种动物有什么共同点?



- A. 有腿 B. 卵生动物 C. 只吃植物

10) 图 2 显示一种食物。



上述食物可供给我们什么?

- A. 提供精力 B. 帮助成长 C. 保持健康

11) 哪种动物在以下庇护所保护自己?



- A. 鸟 B. 松鼠 C. 猴子

12) 下列哪项是动物需要庇护所的原因?

- A. 避开讨厌的动物 B. 免受日晒雨淋 C. 减少繁殖的机会

13) 图 3 的小孩的饮食习惯会带来什么后果?



- A. 牙齿疼痛 B. 体弱多病 C. 身体肥胖


14) 哪种动物的庇护所与鸭子相同?

A. 鱼

B. 毛虫

C. 鸡

15) 图 4 显示秀美在 2006 年和 2012 年所拍的相片。



这两张相片说明了秀美在_____。

A. 呼吸

B. 成长

C. 繁殖

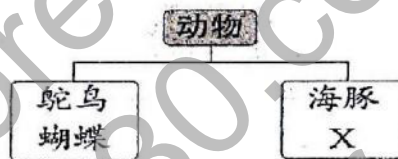
16) 下列哪项是爱护动物的方法?

A. 帮小狗洗澡。

B. 一星期喂食小兔子一次。

C. 不换鱼缸里的水。

17) 下图显示以繁殖方法分类的动物。



下面哪项代表 X?

A. 鳄鱼

B. 白兔

C. 老鹰

18) 以下哪项显示动物对人类的重要性?

A. 动物带来许多传染病。

B. 动物的粪便让土地变得肥沃。

C. 动物是人类日常用品的材料来源。

19) 以下哪项是毛虫的食物?



20) 为什么动物必须吃其他生物?


A. 以获取能量

B. 以获取空气

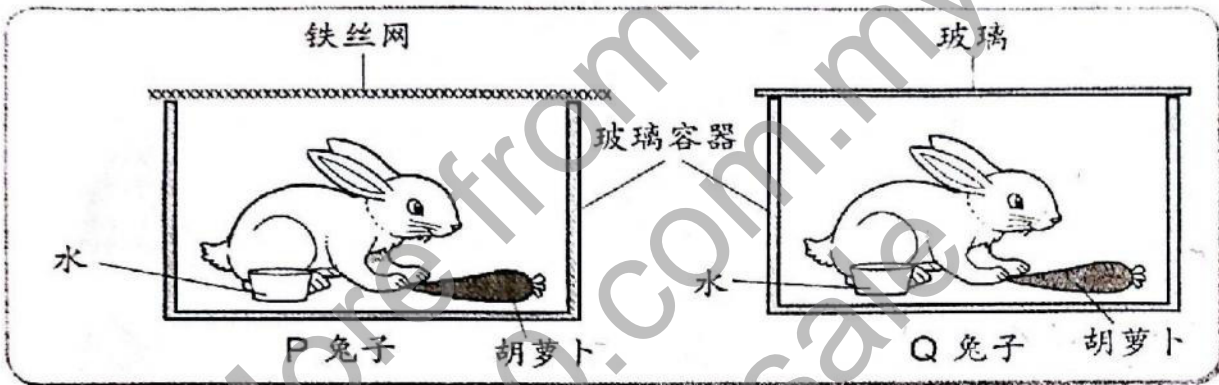
C. 以获取庇护所

B) 简答题。(40%)

1) 哪项是爱惜基本需求的表现? 画√ (10%)



2) 根据以下的实验, 圈出正确的答案。(4%)

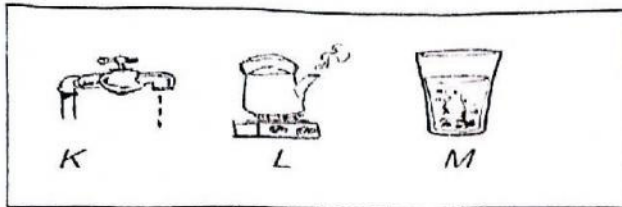


- a) (P , Q) 兔子不会活很久。
 b) 该兔子会死亡, 因为没有 (空气 , 庇护所)。

3) 仔细观察图片后, 在正确的格子里画√, 答案超过一个。(6%)

	<input type="checkbox"/> 能获取能量。 <input type="checkbox"/> 能调节温度。 <input type="checkbox"/> 有力气躲避敌人。
	<input type="checkbox"/> 照顾幼儿。 <input type="checkbox"/> 免受日晒雨淋。 <input type="checkbox"/> 进行呼吸。

4)



a) 我们每天必须喝上图的哪一种水? (2%)


b) 我们为什么不可以喝 k 图的水? (2%)

c) 为什么不可以喝 M 图的水? (2%)

d) 水除了可以喝, 还有什么用途? (2%)

e) 除了喝白开水, 还有什么饮料对身体有益? (2%)

5) 下图显示三种动物。



a) 写出以上三种动物的进食习性。(6%)

i) P: _____













ii) Q: _____

iii) R: _____

b) 除了食物, 写出另两项动物的基本需求。(4%)



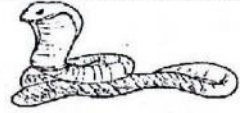





i) _____ ii) _____

C) 根据动物的繁殖方法, 把正确的答案填写在空格里。(12%)

胎生		卵生	
 骆驼	 乌龟	 兔子	
 鸭子	 松鼠	 壁虎	
 蜜蜂	 狮子	 海豚	
 蚊子	 鱼	 大象	

D) 填写以下动物的庇护所。(8%)

树上 洞穴 地洞 木缝 石缝 棚 土里 寮







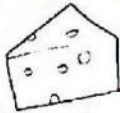











			
			

E) 根据动物的进食习性, 把以下动物归类。(11%)

 蜗牛	 熊	 蝴蝶	 青蛙
 鳄鱼	 老鼠	 狐狸	 老鹰
 猫	 马	 大象	 鸟

只吃植物	只吃动物	吃植物和动物
1)	1)	1)
2)	2)	2)
3)	3)	3)
	4)	4)

F) 根据食物的种类, 圈出相关的食物。(答案超过1个) (9%)

提供精力的食物	 粥	 萝卜	 面包	 马铃薯	 鸡蛋	 鱼肉
帮助成长的食物	 乳酪	 苹果	 饭	 豆类	 鸡肉	 面
保持健康的食物	 香蕉	 蛋糕	 茄子	 西瓜	 牛奶	 虾

出题老师:

SN T2 M.S 7/7

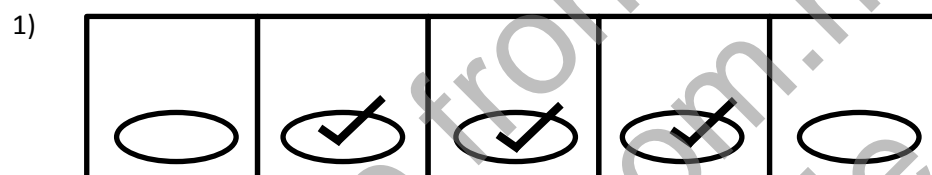
审题老师:

答案

A)

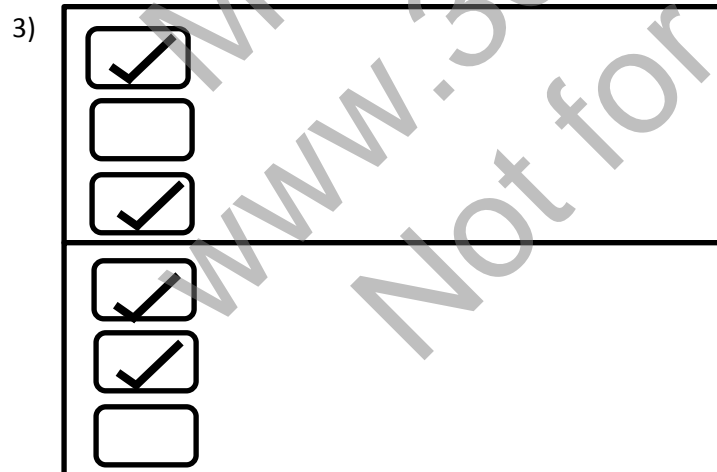
1) C	11) A
2) A	12) B
3) B	13) C
4) C	14) C
5) C	15) B
6) A	16) A
7) B	17) B
8) C	18) C
9) B	19) A
10) B	20) A

B)



2) a) Q

b) 空气



4) a) 我们每天必须和 L 图的水。

b) 因为 K 图的水没有煮沸。

c) M 图的水很肮脏。

d) 洗手。

e) 牛奶。

5) a) i) 只吃动物的动物。 ii) 吃动物和植物的动物。 iii) 只吃植物的动物。

b) i) 空气

ii) 水

c)

胎生	卵生	胎生
卵生	胎生	卵生
卵生	胎生	胎生
卵生	卵生	胎生

d)

洞穴	寮	地洞	棚
树上	石缝	木缝	土里

e)

1) 蝴蝶	1) 青蛙	1) 熊
2) 蜗牛	2) 鳄鱼	2) 老鼠
3) 大象	3) 狐狸	3) 鸟
	4) 老鹰	4) 猫

f) 提供精力的食物: 粥, 面包, 马铃薯

帮助成长的食物: 乳酪, 豆类, 鸡肉

保持健康的食物: 香蕉, 茄子, 西瓜

《小作家课程》教你实用的写作技巧，让你轻松面对考试！

只需一次付费，即可使用长达三年！而且内容会持续更新，不另加收费！

点击这里购买完整版：<https://30.com.my/bc2>

或者免费注册体验版：<https://class.30.com.my/courses/bc2-trial>

