

一年级 单元五：时间与时刻

试卷一



1.

- A 清晨
- B 上午

- C 下午
- D 午夜



2.

- A 清晨
- B 上午

- C 下午
- D 午夜

3. 一星期有\_\_\_\_\_天。

- A 六
- B 七

- C 八
- D 九

4. 教师节在\_\_\_\_\_月



- A 四
- B 五

- C 六
- D 七

5. 今天是星期三，前天是

- A 星期日
- B 星期一

- C 星期二
- D 星期四

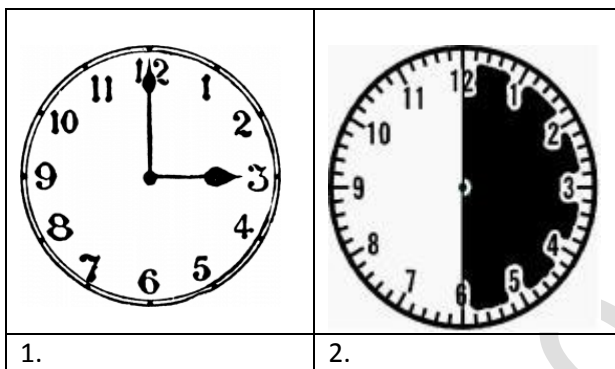
6. 今天是星期四，后天是

- A 星期三
- B 星期五

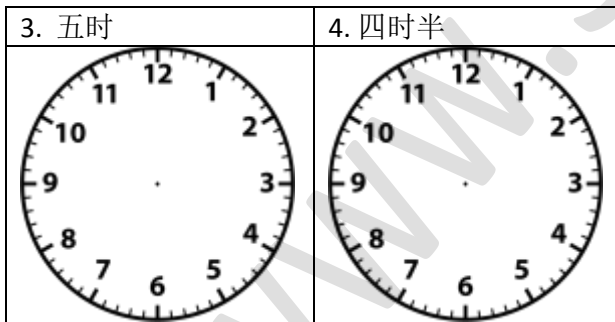
- C 星期六
- D 星期日

试卷二

请以时刻填写出钟面显示的时刻。



看时刻，画出时针和分针



5. 后天是星期六，小明和家人打算到游乐场玩耍。今天和明天是星期几？

6. 小亮正在为哥哥的生日会做准备。而哥哥的生日是在一个月后。如果下个月是五月，现在是几月？

此习题为 [30.com.my](http://www.30.com.my) 原创，除了出售牟利，老师学校，甚至补习中心都可以无限制使用

同学 A 在三月出生。同学 B 比同学 A 迟五个月出生。而同学 C 比同学 B 早三个月出生。根据这个提示回答第 19 和 20 题。

7. 同学 B 在第几月份出生？

8. 同学 C 在第几月份出生？

WWW.30.COM.MY

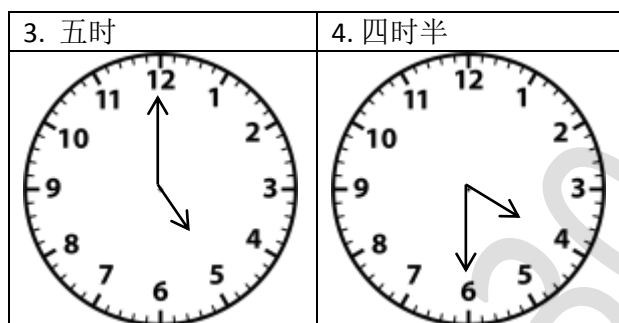
### 答案

#### 试卷一

1. A
2. C
3. B
4. B
5. B
6. C

#### 试卷二

1. 三时
2. 半时



5. 今天是星期四，明天是星期五
6. 现在是四月
7. 同学 B 是在八月份出生的。
8. 同学 C 是在五月份出生的。