

2016 年 PKSR 1

三年级科学与工艺世界评审

DUNIA SAINS DAN TEKNOLOGI TAHUN 3

姓名:

分数:

班级:

家长签名:


A) 圈出最正确的答案。(16%)

1. 以下哪一个用具最适合用来测量液体?

A.



B.



C.



D.



2. 图中的小孩是用什么方法沟通?



A. 口述

B. 绘图

C. 信息与通信技术

D. 书写

3. _____ 为牙齿提供营养。

A. 珐琅质

B. 牙龈

C. 血管

D. 神经线

4. 以下哪一个是乳牙换成恒牙的正确过程?

P 恒牙在乳牙下长出

Q 恒牙逐渐凸起, 乳牙便脱落了

R 恒牙慢慢长大, 乳牙的根部渐渐变小


A. P→Q→R

B. Q→P→R

C. P→R→Q

D. R→Q→P

5. 图中的动物的外形特征是哪些?



A. 有喙和爪

B. 有爪和尾巴

C. 有尾巴和外壳

D. 有喙和外壳

6. 以下资料显示一些动物的外形特征

- 有毛发
- 有爪
- 有尾巴

以下哪些动物有上述外形特征?


A. 狗和狮子

B. 狮子和野牛

C. 穿山甲和野牛

D. 狗和穿山甲

7. 哪种动物有以下图中的牙齿?



A. 羊

B. 猫

C. 老鼠

D. 老虎

8. 如果所有动物都是草食动物, 预测会有什么后果?

A. 植物将会长得更茁壮

B. 所有动物将会有犬齿

C. 某些动物将不会失去庇护所

D. 植物的数量减少, 动物因缺乏食物而死亡

ST T3/1

B) 写出他们应用了哪些感官来进行观察。(8%)

味觉	触觉	视觉	嗅觉	听觉
----	----	----	----	----

1.



2.



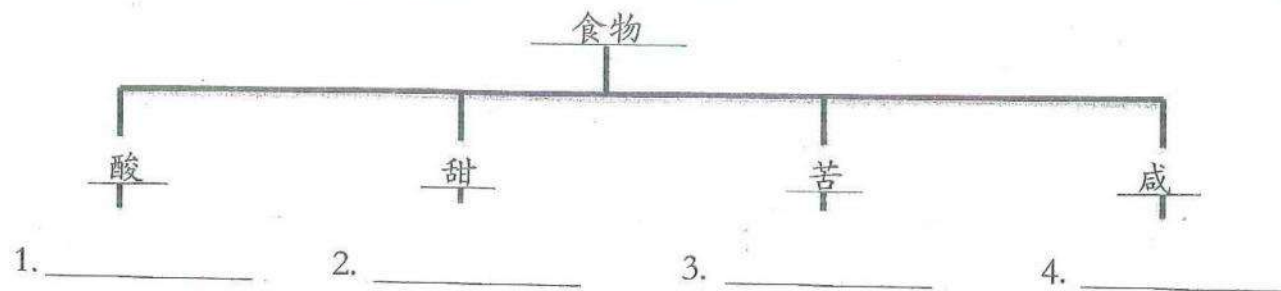
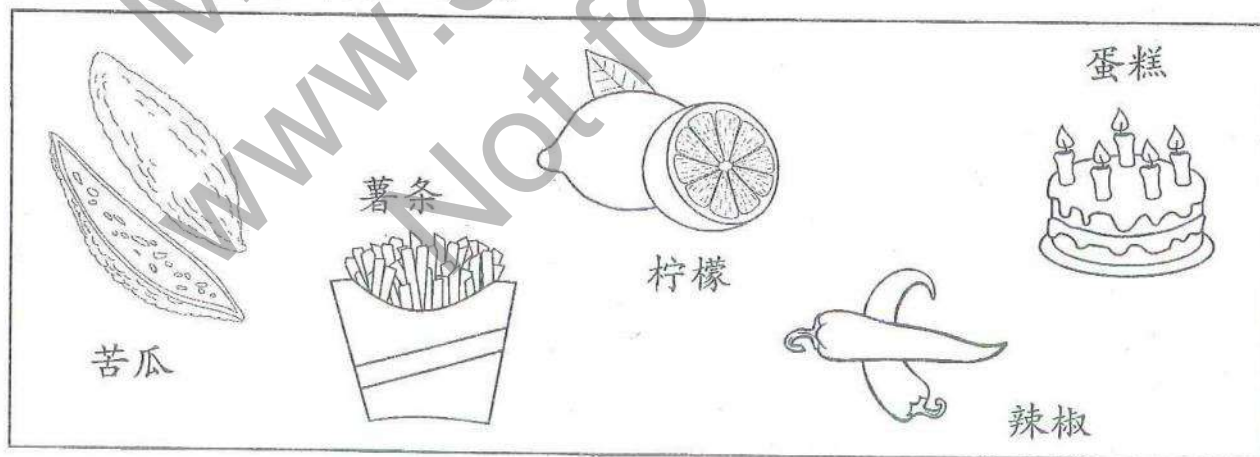
3.



4.

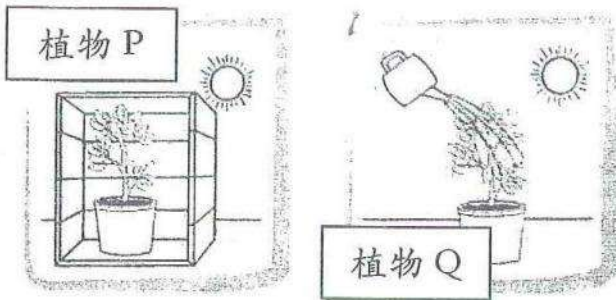


C) 根据味道, 将食物分类。(8%)



D) 根据观察, 作出预测及推断。(6%)


1.



哪棵植物长得最茂盛?

为什么?

2.



哪只兔子会最快死亡?

为什么?

E) 如何正确地运用操纵性技能? 画线连一连。(4%)

1.



正确与安全地存放与处理标本。

2.



以正确的方法清理科学用具。

3.



正确地绘画标本、科学用具和材料。

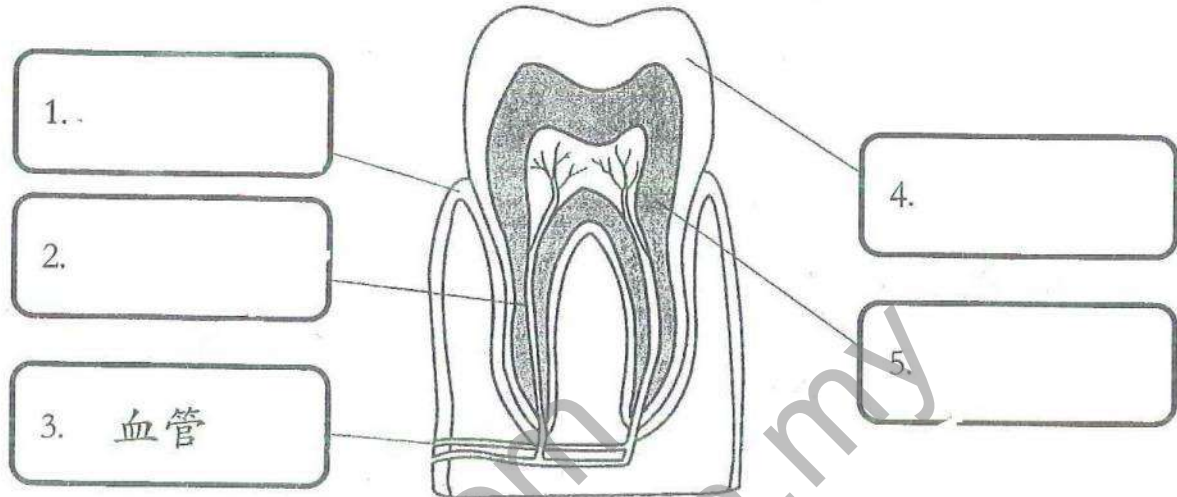
4.



正确地应用与处理科学用具和材料。

F) 把牙齿的各部分名称填入空格内。(8%)

血管	神经线	牙质	珐琅质	牙龈
----	-----	----	-----	----



G) 圈出正确的答案。(10%)

- (牙质 珐琅质) 是牙齿最外层, 非常坚硬, 呈乳白色;
(牙质 牙龈) 是在牙齿和牙床之间, 质地柔软, 呈粉红色。
- 门齿的形状是 (扁平形 棱锥形), 能把食物 (切断 撕裂) 。
- (犬齿 臼齿) 能把食物磨碎, 在口腔
(前面的位置 后方的两侧) 。
- 我今年9岁, 我拥有一副 (乳牙 恒牙) 。
爸爸和妈妈拥有一副 (乳牙 恒牙) 。
- 乳牙一共有 (20 32) 颗牙齿, 长得较小, 适合咬
较 (软 硬) 的食物。

H) 哪些是照顾牙齿的正确方法? 对的画✓, 错的画X。 (4%)

1. 

每天不停地吃甜食

2. 

定期让牙医检查牙齿


3. 

刷牙时常不用牙膏

4. 

吃了食物后要漱口

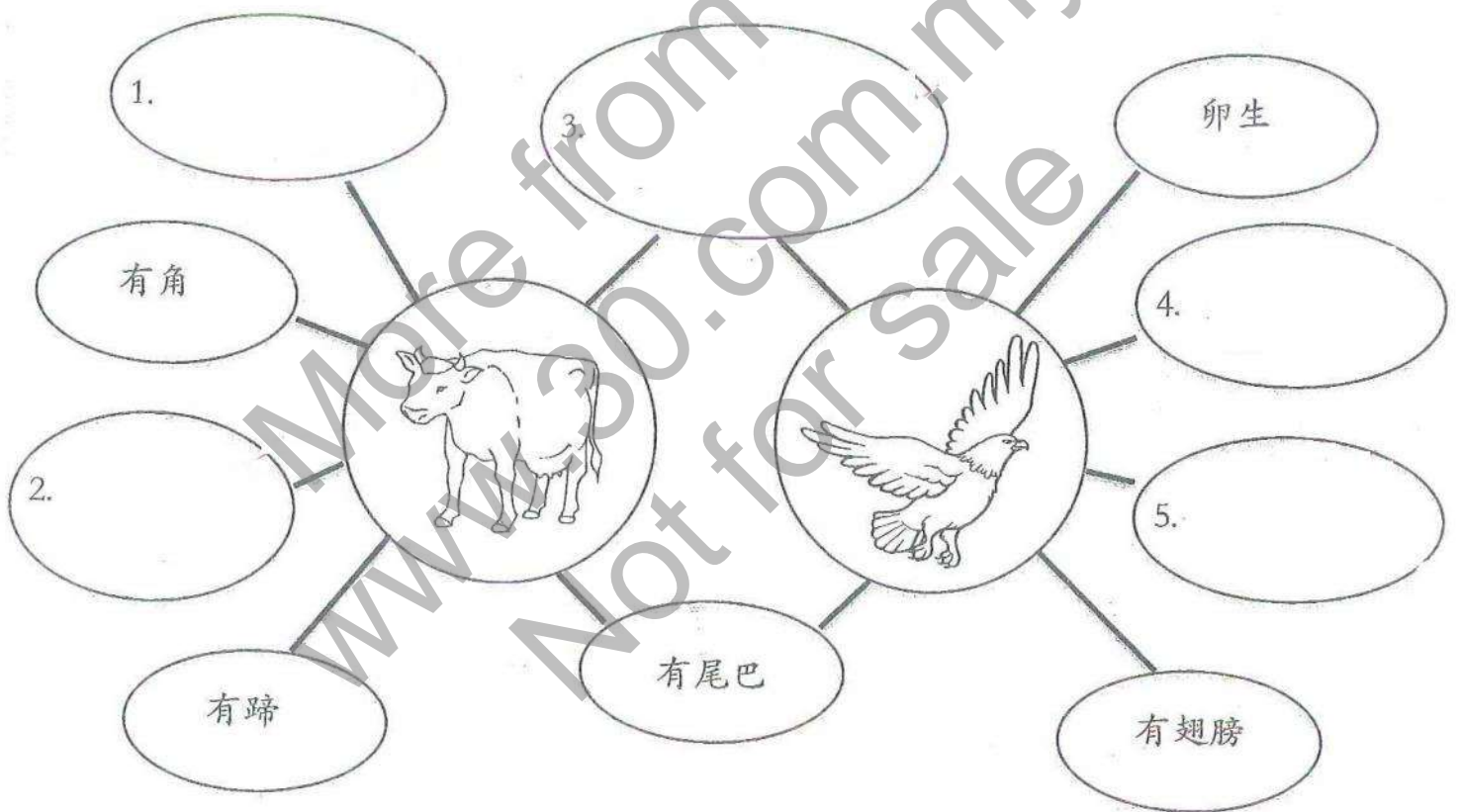
I) 根据下图, 填写各动物的繁殖方式、栖息地及其进食习性。 (18%)



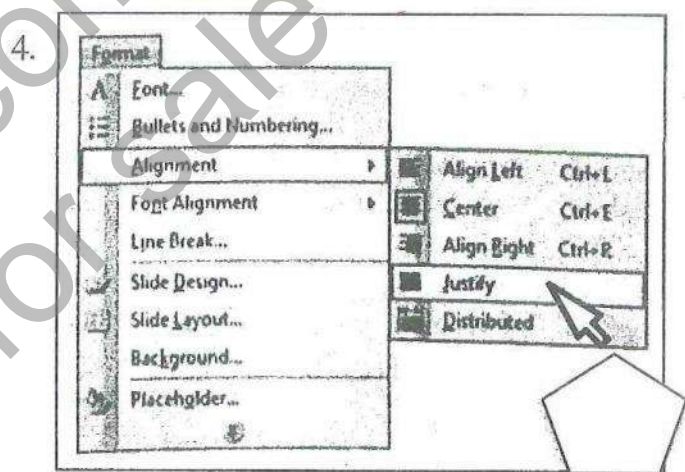
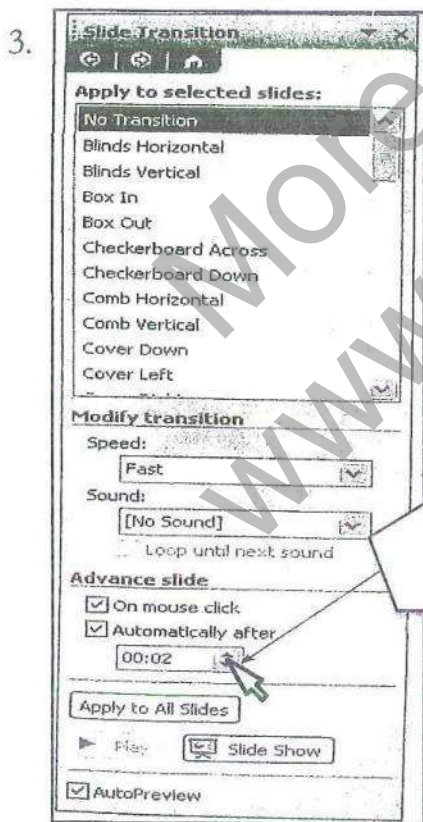
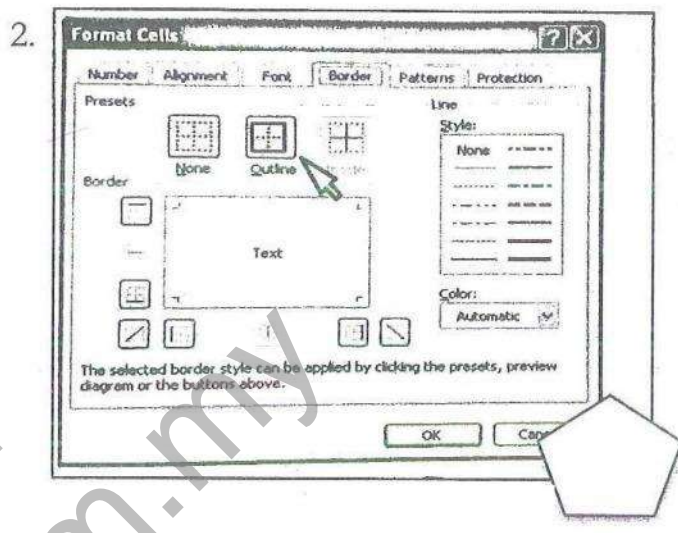
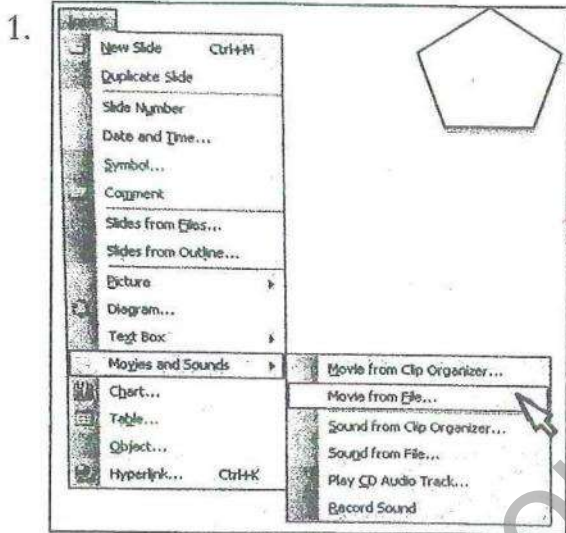
动物	繁殖方式 (胎生 / 卵生)	栖息地 (水里 / 陆地 / 水陆两栖)	进食习性 (草食 / 肉食 / 杂食)
例: 鸡	卵生	陆地	杂食
1. 乌龟			
2. 马			
3. 鲸鱼			

J) 以下是牛和老鹰的特征之共同点及不同点。完成双起泡图。(10%)

有羽毛	卵生	水陆两栖
生长在陆地	有毛发	有喙
胎生	有外壳	杂食动物



K) 点击以下的栏目可以设定什么指令?
将代表答案的字母填写在空格里。(8%)



P	两端对齐
Q	插入影片
R	设置切换幻灯片的时间
S	为单元格加上边框以制成表格

出题老师:
审题老师:

SCEINCE TAHUN 3

JAWAPAN

SECTION A

- 1.0 C
- 2.0 C
- 3.0 C
- 4.0 C
- 5.0 B
- 6.0 A
- 7.0 D
- 8.0 D

SECTION B

- 1.0 视觉
- 2.0 嗅觉
- 3.0 听觉
- 4.0 味觉

SECTION C

- 1.0 柠檬
- 2.0 蛋糕
- 3.0 苦瓜
- 4.0 薯条

SECTION D

- 1.0 植物Q长得茂盛
- 2.0 应为植物Q有水, 阳光和空气

SECTION E



SECTION F

- 1.0 牙龈
- 2.0 神经线
- 3.0 血管
- 4.0 珐琅质
- 5.0 牙质

SECTION G

- 1.0 珐琅质, 牙龈
- 2.0 扁平形, 切断
- 3.0 白齿, 后面的两侧
- 4.0 乳牙, 横牙
- 5.0 20, 软

SECTION H

- 1.0 X
- 2.0 /
- 3.0 X
- 4.0 /

SECTION I

- 1.0 卵生, 水陆俩栖, 杂食
- 2.0 胎生, 陆地, 草食
- 3.0 胎生, 水里, 肉食

SECTION J

- 1.0 有毛发
- 2.0 胎生
- 3.0 生长在陆地
- 4.0 有羽毛
- 5.0 有喙

SECTION K

- 1.0 Q
- 2.0 S
- 3.0 R
- 4.0 P

《写作练习班》由华小老师设计, 讲解, 再替你批改作文的写作课程!



点击这里购买完整版: <https://30.com.my/writing>

或者免费注册体验版 <https://30.com.my/writing-trial>

超值配套! 最优惠的价格购买《小作家课程》和《写作练习班》: <https://30.com.my/package>



只需一次付费, 即可使用长达三年! 而且内容会持续更新, 不另加收费!