

2016 年 PKSR 3
三年级 数学 (一)
MATEMATIK TAHUN 3

姓名: _____ () 成绩: _____ /40
班级: _____ 家长签名: _____

试卷 (一): 这份试卷共有 40 道问题, 所有的题目必须作答。
下列各题都有四个选择 A、B、C 和 D, 其中一个答案是对的。圈出
对的答案, 并把答案涂黑在答案纸上。(40%)

- 八千零四十写成数字是
A 4800 B 4804 C 8004 D 8040
- 哪个数目的十位近似值不是 7600?
A 7595 B 7596 C 7601 D 7605
- 哪个数目中的 8 的值是 80?
A 4198 B 4308 C 4085 D 4805
- 如果 P=6、Q=5、R=9 和 S=2, 以下哪个数目的值最大?
A RPQS B PQRS C PSRQ D SQPR
- () + 4896 = 7749
A 2852 B 2853 C 2854 D 2855
- 把 1688 和 5 的积数写成百位近似值。
A 8000 B 8400 C 8440 D 8500
- 以下哪个商数是没有余数的?
A $424 \div 6$ B $503 \div 8$ C $522 \div 9$ D $632 \div 7$
- $\frac{8}{100} =$ _____
A 0.08% B 0.8% C 8% D 80%

9. 把 $\frac{37}{100}$ 写成小数。

- A 0.037 B 0.37 C 3.7 D 37.00

10. $\frac{6}{12}$ 的最简分数。

- A $\frac{1}{2}$ B $\frac{1}{3}$ C $\frac{2}{4}$ D $\frac{3}{6}$

11. 以下哪项是不正确的?

- A $\frac{3}{4} = \frac{6}{8}$ B $\frac{5}{10} = \frac{1}{2}$ C $\frac{2}{3} = \frac{3}{9}$ D $\frac{2}{5} = \frac{4}{10}$

12. 哪项说明是正确的?

- A 0.96 比 0.69 小 B 0.66 比 0.60 小
C 0.76 比 0.67 大 D 0.09 比 0.90 大

13. RM50 相等于多少枚 50sen?

- A 10 B 100 C 200 D 1000

14. 4 张 RM50 + 3 张 RM10 + 1 张 RM5 = _____

- A RM235 B RM420 C RM75 D RM215

15. RM15.30 - RM7.40 - 65sen =

- A RM6.35 B RM7.25 C RM7.35 D RM8.25

16. 把 3.3 m 化为 cm。

- A 0.33cm B 33cm C 330cm D 3300cm

17. 2 时 3 刻 =

- A 2:03 B 2:15 C 2:30 D 2:45

18.



左图的钟面显示_____。

- A 10:09 B 10:45 C 9:11 D 11:45

19. $8 \times 2\text{m } 14 \text{ cm} =$

- A 15m 12 cm B 16m 12 cm
C 17m 12 cm D 16m 112 cm

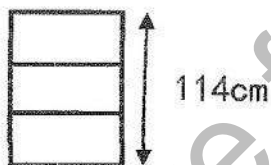
20. 下列哪项是正确的?

- A 2 米 = 200 厘米 B 900 厘米 = 90 米
C 1 米 = 1000 厘米 D 437 厘米 = 43 米 7 厘米

21. 计算 3m 75cm 和 4m 55cm 的总长度。

- A 8m 30cm B 8m 40cm
C 9m 30cm D 9m 40cm

22. 下图显示 3 个盒子的高度。



以 m 为单位, 计算 1 个盒子的高度。

- A 0.38 B 38 C 380 D 3800

23. 42 天 = () 个星期

- A 4 个星期 B 5 个星期 C 6 个星期 D 7 个星期

24. 36 个月 = () 年

- A 1 年 B 2 年 C 3 年 D 4 年

25. 下列的换算是正确的, 除了 _____

- A 120 分钟 = 2 小时 B 60 秒 = 1 分钟
C 1 星期 = 7 天 D 42 天 = 7 星期

26. $41 \text{ 分钟 } 20 \text{ 秒} \div 5 =$

- A 8 分钟 32 秒 B 8 分钟 24 秒
C 8 分钟 16 秒 D 8 分钟 12 秒


27. $500\text{kg} - 248\text{kg} =$

- A 242kg B 252kg C 262kg D 272kg

28. 9000 克 = _____ 公斤

- A 9 B 90 C 900 D 9000

29.



左图的食油重多少 g?

- A 3 B 30 C 300 D 3000

30.



$N - M =$

- A 350 B 300 C 288 D 196

31. 将 6510 粒草莓平均装入 1000 个盒子里。剩多少粒不能成一盒?

- A 51 B 510 C 560 D 651

32. 动物园里有 2716 个游客, 其中有 1249 个是小孩, 其余的是成人。成人比小孩多, 多了多少个?

- A 207 B 218 C 338 D 1467

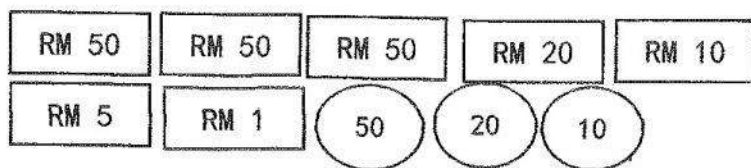
33. 下表显示 3U 班学生在某天的出席人数。

	男生	女生
出席人数	28	29
缺席人数	2	5

计算当天出席学生的百分比。

- A 7% B 30% C 57% D 68%

34. 下图显示国华买 4 本小说所用的钱。



一本小说的价格是多少?

- A RM45.50 B RM46.70 C RM49.80 D RM50.20

35. 一个电饭锅价 RM225。一个洗衣机的价格比电饭锅贵 RM85。电饭锅和洗衣机的共价是多少?

- A RM525 B RM535 C RM 425 D RM435

36. 下图显示佳盛看电视的时刻。



40 分钟后, 佳盛开始做作业。他在什么时候做作业?

- A 1: 40 B 1: 30
C 1: 45 D 1: 55

37. 民豪每天会运动 3 小时, 他在一个星期内共运动了多少小时?

- A 15 B 21 C 24 D 30

38. 雨童买了一匹长 45m 的布来缝制 9 幅窗帘, 平均缝制 1 幅窗帘需要几长的布?

- A 5cm B 7cm C 500cm D 700cm

39. 一篮香蕉重 5kg200g。香蕉的总质量是 4kg750g, 那么篮子的质量是多少?

- A 450g B 550g C 1kg450g D 1kg550g

答案

1	<input type="radio"/> A	<input type="radio"/> B	<input type="radio"/> C	<input type="radio"/> D	21	<input type="radio"/> A	<input type="radio"/> B	<input type="radio"/> C	<input type="radio"/> D
2	<input type="radio"/> A	<input type="radio"/> B	<input type="radio"/> C	<input type="radio"/> D	22	<input checked="" type="radio"/> A	<input type="radio"/> B	<input type="radio"/> C	<input type="radio"/> D
3	<input type="radio"/> A	<input type="radio"/> B	<input type="radio"/> C	<input type="radio"/> D	23	<input type="radio"/> A	<input type="radio"/> B	<input type="radio"/> C	<input type="radio"/> D
4	<input type="radio"/> A	<input type="radio"/> B	<input type="radio"/> C	<input type="radio"/> D	24	<input type="radio"/> A	<input type="radio"/> B	<input type="radio"/> C	<input type="radio"/> D
5	<input type="radio"/> A	<input type="radio"/> B	<input type="radio"/> C	<input type="radio"/> D	25	<input type="radio"/> A	<input type="radio"/> B	<input type="radio"/> C	<input type="radio"/> D
6	<input type="radio"/> A	<input type="radio"/> B	<input type="radio"/> C	<input type="radio"/> D	26	<input type="radio"/> A	<input type="radio"/> B	<input checked="" type="radio"/> C	<input type="radio"/> D
7	<input type="radio"/> A	<input type="radio"/> B	<input type="radio"/> C	<input type="radio"/> D	27	<input type="radio"/> A	<input type="radio"/> B	<input type="radio"/> C	<input type="radio"/> D
8	<input type="radio"/> A	<input type="radio"/> B	<input checked="" type="radio"/> C	<input type="radio"/> D	28	<input type="radio"/> A	<input type="radio"/> B	<input type="radio"/> C	<input type="radio"/> D
9	<input type="radio"/> A	<input type="radio"/> B	<input type="radio"/> C	<input type="radio"/> D	29	<input type="radio"/> A	<input type="radio"/> B	<input type="radio"/> C	<input type="radio"/> D
10	<input type="radio"/> A	<input type="radio"/> B	<input type="radio"/> C	<input type="radio"/> D	30	<input checked="" type="radio"/> A	<input type="radio"/> B	<input type="radio"/> C	<input type="radio"/> D
11	<input type="radio"/> A	<input type="radio"/> B	<input type="radio"/> C	<input type="radio"/> D	31	<input type="radio"/> A	<input checked="" type="radio"/> B	<input type="radio"/> C	<input type="radio"/> D
12	<input type="radio"/> A	<input type="radio"/> B	<input type="radio"/> C	<input type="radio"/> D	32	<input checked="" type="radio"/> A	<input checked="" type="radio"/> B	<input type="radio"/> C	<input type="radio"/> D
13	<input type="radio"/> A	<input type="radio"/> B	<input type="radio"/> C	<input type="radio"/> D	33	<input type="radio"/> A	<input type="radio"/> B	<input type="radio"/> C	<input type="radio"/> D
14	<input type="radio"/> A	<input type="radio"/> B	<input type="radio"/> C	<input type="radio"/> D	34	<input type="radio"/> A	<input type="radio"/> B	<input type="radio"/> C	<input type="radio"/> D
15	<input type="radio"/> A	<input type="radio"/> B	<input type="radio"/> C	<input type="radio"/> D	35	<input type="radio"/> A	<input type="radio"/> B	<input type="radio"/> C	<input type="radio"/> D
16	<input type="radio"/> A	<input type="radio"/> B	<input checked="" type="radio"/> C	<input type="radio"/> D	36	<input type="radio"/> A	<input type="radio"/> B	<input type="radio"/> C	<input type="radio"/> D
17	<input type="radio"/> A	<input type="radio"/> B	<input type="radio"/> C	<input type="radio"/> D	37	<input type="radio"/> A	<input type="radio"/> B	<input type="radio"/> C	<input type="radio"/> D
18	<input type="radio"/> A	<input type="radio"/> B	<input type="radio"/> C	<input type="radio"/> D	38	<input type="radio"/> A	<input type="radio"/> B	<input checked="" type="radio"/> C	<input type="radio"/> D
19	<input type="radio"/> A	<input type="radio"/> B	<input type="radio"/> C	<input type="radio"/> D	39	<input type="radio"/> A	<input type="radio"/> B	<input type="radio"/> C	<input type="radio"/> D
20	<input type="radio"/> A	<input type="radio"/> B	<input type="radio"/> C	<input type="radio"/> D	40	<input type="radio"/> A	<input type="radio"/> B	<input checked="" type="radio"/> C	<input type="radio"/> D

《写作练习班》由华小老师设计，讲解，再替你批改作文的写作课程！



点击这里购买完整版：<https://30.com.my/writing>

或者免费注册体验版 <https://30.com.my/writing-trial>

超值配套！最优惠的价格购买《小作家课程》和《写作练习班》：<https://30.com.my/package>



只需一次付费，即可使用长达三年！而且内容会持续更新，不另加收费！