

2016年PKSR(1)
四年级信息与通信技术
时间: 40分钟

姓名: _____ ()
班级: 4 _____

成绩: _____
日期: _____

A. 写出电脑组件的名称。(8%)



B. 根据软件的功能进行分类, 把代表软件的英文字母填入表格里。(16%)

P Window	Q MS Excel	R Mac OS	S Kaspersky
T Real Player	U Disk Cleanup	V Paint	W WinZip

操作系统	应用软件	实用程序
1.	1.	1.
2.	2.	2.
	3.	3.

C. 把电脑组件及其功能连一连。(8%)

- | | | |
|--------|---|---------------------|
| 1. 主机 | • | • 显示资料, 拥有不同的种类和体积。 |
| 2. 键盘 | • | • 输入资料进电脑。 |
| 3. 鼠标 | • | • 控制电脑的运作, 接受和执行指令。 |
| 4. 显示器 | • | • 选择在电脑屏幕上显示的项目。 |

D. 选择题。把正确的答案圈起来。(10%)

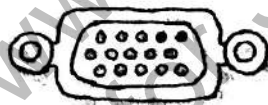
1. 电脑也可以称之为什么?

- | | |
|---------|--------|
| A. 储存数据 | B. 数学题 |
| C. 计算机 | D. 硬件 |

2. 桌面型电脑的主要组件有哪些?

- | | |
|---------------|---------------|
| i. 主机 | ii. 荧幕 |
| iii. 键盘 | iv. 鼠标 |
| A. i, ii | B. i, iii |
| C. i, ii, iii | D. i, iii, iv |

3.



以上电脑主机的元件名称是_____。

- | | |
|------------|-------------|
| A. USB 端口 | B. 显示器端口 |
| C. 显示器电源插座 | D. PS2 键盘端口 |

4. 以下哪几项是操作系统的功能?

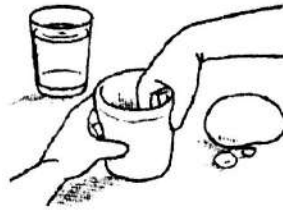
- | | |
|---------------|---------------|
| i. 储存软件 | ii. 启动软件 |
| iii. 安装和卸载软件 | iv. 避免电脑中毒 |
| A. i, ii | B. i, iii |
| C. i, ii, iii | D. i, iii, iv |

5. 如果你要写一篇文章, 最适合使用的软件是_____。

- | | |
|-------------|-------------|
| A. 微软文字处理软件 | B. 防毒软件 |
| C. 计算表 | D. 微软演示文稿软件 |

E. 把下图陶杯的制作过程比喻为电脑的运作过程，在横线上写出正确的答案。(8%)

储存	输入	输出	数据处理
----	----	----	------



1. _____ → 2. _____ → 3. _____
- 将数据如文本传送到
电脑
- 由中央处理器记下
及分析输入的信息
- 将处理完成的结果
传送出来



4. _____
- 将数据和信息储存
起来

出题： 老师

家长签阅： _____


审题： 老师 ()

2016年PKSR(1)
四年级信息与通信技术
时间: 40分钟

姓名: _____ ()
班级: 4 _____

成绩: _____
日期: _____

A. 写出电脑组件的名称。(8%)



B. 根据软件的功能进行分类, 把代表软件的英文字母填入表格里。(16%)

P Window	Q MS Excel	R Mac OS	S Kaspersky
T Real Player	U Disk Cleanup	V Paint	W WinZip

操作系统	应用软件	实用程序
1. T (P) 2. R	1. P (Q) 2. Q (R) 3. V	1. S 2. W 3. W

(12)

C. 把电脑组件及其功能连一连。(8%)



D. 选择题。把正确的答案圈起来。(10%)

1. 电脑也可以称之为什么?

A. 储存数据

B. 数学题

C. 计算机

D. 硬件

2. 桌面型电脑的主要组件有哪些?

i. 主机

ii. 荧幕

iii. 键盘

iv. 鼠标

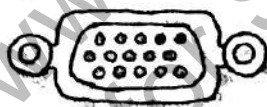
A. i, ii

B. i, iii

C. i, ii, iii

D. i, iii, iv

3.



以上电脑主机的元件名称是_____。

A. USB 端口

B. 显示器端口

C. 显示器电源插座

D. PS2 键盘端口

(B) (6)

4. 以下哪几项是操作系统的功能?

i. 储存软件

ii. 启动软件

iii. 安装和卸载软件

iv. 避免电脑中毒

A. i, ii

B. i, iii

C. i, ii, iii

D. i, iii, iv

5. 如果你要写一篇文章, 最适合使用的软件是_____。

A. 微软文字处理软件

B. 防毒软件

C. 计算表

D. 微软演示文稿软件

(A)

E. 把下图陶杯的制作过程比喻为电脑的运作过程，在横线上写出正确的答案 (8%)

储存	输入	输出	数据处理
----	----	----	------



1. 输入

将数据如文本传送到
电脑



2. 数据处理

由中央处理器记下
及分析输入的信息



3. 输出

将处理完成的结果
传送出来



4. 储存

将数据和信息储存
起来

出题： 老师

家长签阅： _____

审题： 老师 ()