

2016年五月份评审

三年级数学

姓名: _____

班级: 3 ()

成绩: _____

题数: 40 题

时间: 1 小时

总分: 100%

1 8 500 与 8 502 之间的数目是 _____

(2分)

2 100 个 100 个逆序地数, 555 之后的三个数目是什么?

○ ○ ○

(3分)

3 把四千零二十写成数字 _____

(2分)

4 写出画线数字的数位和数值。

数目	数位	数值
<u>8</u> 302		

(2分)

5 写出画线数字的数位。

5064 = _____

(2分)

6 以下哪个数目的千位近似值是 3 000? 圈出正确的答案。

(2359 , 2473 , 2598)

(2分)

$$\begin{array}{r} 7 \quad 6350 \\ + \quad 3152 \\ \hline \\ \hline \end{array}$$

(2分)

8 以竖式完成以下题目。

$$2723 + 76 = \underline{\hspace{2cm}}$$

(2分)

9 以竖式完成以下题目。

$$5812 + 1499 = \underline{\hspace{2cm}}$$

(2分)

10 以竖式完成以下题目。

$$6010 + 415 + 2583 = \underline{\hspace{2cm}}$$

(3分)

11 找出 23、110 和 2314 的和数。

(3分)

12 7375

- 2394

(2分)

13 1625 - () = 947 =

(2分)

14 以竖式完成以下题目。

2840 - 317 = _____

(2分)

15 以竖式完成以下题目。

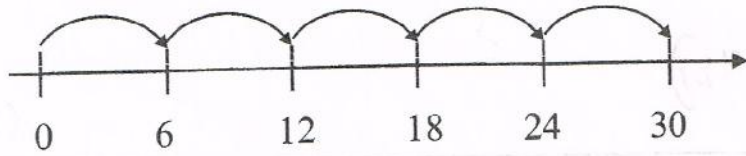
8955 - 1209 - 1928 = _____

(3分)

16 4371 减 1025 后, 再减 1213 等于多少?

(3分)

17 根据数轴写出乘法的算式。



() × () = () (3分)

18 完成以下乘法表。

×	3	4	5	6
8				

(2分)

19

$$\begin{array}{r} 155 \\ \times 4 \\ \hline \\ \hline \end{array}$$

(2分)

20 以竖式完成以下题目。

$$298 \times 100 = \underline{\hspace{2cm}}$$

(2分)

21 找出 105 与 9 的积数。

(3分)

22 填写除法算式。



() ÷ () = ()

(3分)

23 以竖式完成以下题目。

1 836 ÷ 9 = _____

(2分)

24 9 864 除以 8 等于 ()

(2分)

25 找 8 508 出与 6 的商数。

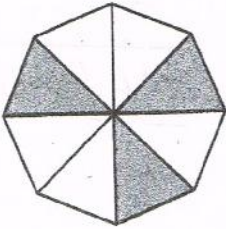
(3分)

26 以竖式完成以下题目。

$$546 \div 9 = \underline{\hspace{2cm}}$$

(3分)

27 以数字和文字写出涂黑部分的分数。

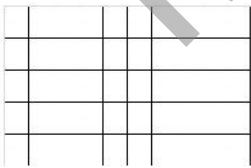


数字: _____

文字: _____

(2分)


28 根据小数涂上颜色。



0.63

(2分)

29 以文字写出涂黑部分所代表的小数。



文字: _____

(2分)

30 礼堂里有 1 174 名女观众和 2 783 名男观众观赏表演。礼堂里共有多少名观众?

答: 礼堂里共有 () 名观众。

(3分)

31 一个水果小贩在昨天卖了 3 466 个芒果。今天卖的芒果比昨天多 145 个。该水果小贩在两天内卖了多少个芒果?

答: 该水果小贩在两天内卖了 () 个芒果。

(3分)

32 小丽有 4 126 枚邮票, 小妮及小花则各自拥有 1 875 枚邮票。他们 3 人共有多少枚邮票?


答: 他们 3 人共有 () 枚邮票。

(3分)

33 李叔叔养了 5 895 只母鸡, 公鸡的数量比母鸡少 2 233 只。李叔叔养了多少只公鸡?

答: 李叔叔养了 () 只公鸡。 (3分)

34




把以上数字组成最大的数目, 再减 1 253 等于多少?

(3分)

35 箱子 P 里有 2 346 块橡皮, 箱子 Q 里则有 1 350 块橡皮。箱子 R 里的橡皮数量比箱子 P 和箱子 Q 的总数多 250 块。箱子 R 里有多少块橡皮?

答: 箱子 R 里有 () 块橡皮。 (3分)

36 下图是一条数目线。



计算 X、Y 和 Z 的和。

(3分)

37 一个小贩一天炒 136 碟炒饭, 他在一个星期内炒了多少碟炒饭?

答: 他在一个星期内炒了 () 碟炒饭。

(3分)

38 下图是一条数目线。



X 乘以 9 等于多少?

(3分)

39 M 除 8 是 9, M 是什么?

(2分)

40 小强把 81 支笔平均地装入 6 个盒子里。每个盒子里装有多少支笔? 还剩下多少支笔?

答: 每个盒子里装有 () 支笔, 还剩下 () 支笔。

(3分)