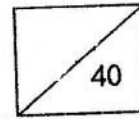


2016年十月份归纳式评审
二年级数学试卷(一)



姓名: _____ ()

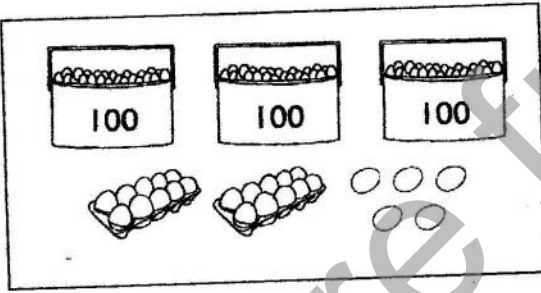

成绩: _____

班级: 2 ()

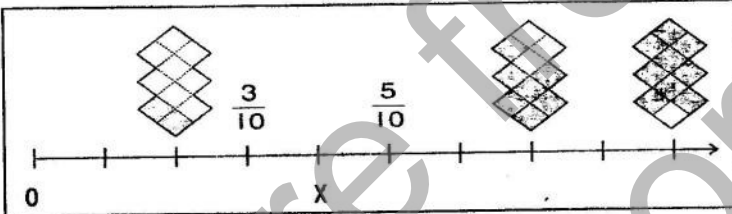
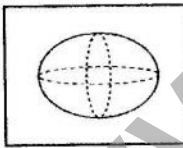
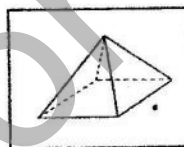

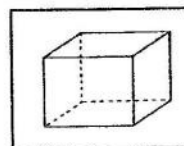
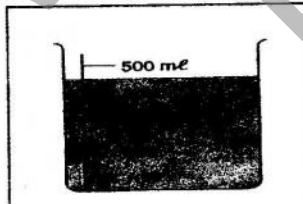
家长签名: _____


作答说明:

这份试卷共有 40 道试题, 回答所有试题。下列各题都有四项选择 A、B、C 和 D, 其中只有一项是对的。试选出对的答案, 然后把答案圈起来。

序	题目
1.	 <p>根据图一, 计算鸡蛋的数量。</p> <p>A 305 B 325 C 505 D 525</p>
2.	<p>以下哪个数目的百位数是 9?</p> <p>A 99 B 199 C 399 D 999</p>
3.	<p>下列哪项数目大于 250 但小于 300?</p> <p>A 245 B 282 C 305 D 380</p>
4.	<p>7 个百和 5 个一等于</p> <p>A 751 B 705 C 75 D 71</p>
5.	 <p>图二</p> <p>根据图二, 把涂黑部分写成分数。</p> <p>A $\frac{4}{10}$ B $\frac{5}{10}$ C $\frac{6}{10}$ D $\frac{7}{10}$</p>
6.	<p>下列哪项立体有 6 个平面?</p> <p>A 正方体 B 球体 C 圆柱体 D 圆锥体</p>

7.	<p>$384 + P = 624$ P 的值是多少? A 140 B 240 C 340 D 440</p>
8.	<div style="display: flex; align-items: flex-start;"> <div style="flex: 1;">  <p style="text-align: center;">图三</p> </div> <div style="flex: 2;"> <p>图三显示李伯伯每天喝咖啡的体积。试问李伯伯在三天内总共喝了多少 ml?</p> <p>A 200 ml B 400 ml C 600 ml D 800 ml</p> </div> </div>
9.	<p>珍妮与 3 个妹妹一起平分 24 枚邮票。每人能分多少枚邮票? A 2 B 4 C 6 D 8</p>
10.	<p>以下哪项是正确的? A 6 厘米 = 6 m B 20 米 = 20 m C 16 厘米 = 60 cm D 30 米 = 30 cm</p>
11.	<p>哪项的值最大? A $15 \div 3$ B $16 \div 2$ C $48 \div 4$ D $55 \div 5$</p>
12.	<div style="display: flex; align-items: flex-start;"> <div style="flex: 1;">  <p style="text-align: center;">图四</p> </div> <div style="flex: 2;"> <p>图四显示两个篮子里的红毛丹数量。两个篮子里的红毛丹数量相差多少? A 831 B 631 C 422 D 233</p> </div> </div>
13.	<div style="display: flex; align-items: flex-start;"> <div style="flex: 1;">  <p style="text-align: center;">图五</p> </div> <div style="flex: 2;"> <p>图五显示丽云正在做早操, 试问当时的时间是什么时刻? A 上午 7:10 B 下午 7:10 C 上午 7:20 D 下午 7:20</p> </div> </div>

14.	奕伦有 6 张 RM 10 和 3 张 RM 5 的纸币。他共有多少钱? A RM 65 B RM 70 C RM 75 D RM 80
15.	哪项说明是不正确的? A 1 kg 比 1 g 轻 B 1 kg 比 1 g 重 C 2 kg 比 1 kg 重 D 20 g 比 20 kg 轻
16.	$ \begin{array}{r} P \quad 7 \quad 2 \\ + \quad 1 \quad 6 \quad Q \\ \hline 8 \quad 3 \quad 5 \end{array} $ P 和 Q 代表什么数字? A P = 6; Q = 3 B P = 6; Q = 7 C P = 7; Q = 3 D P = 7; Q = 7
17.	图六显示一条数目线。  X 是什么值? A 0.9 B 0.8 C 0.6 D 0.4 图六
18.	$\square \times 5 = 35$ \square 应该填上什么数目? A 4 B 5 C 6 D 7
19.	下列哪个立体图形有平面和曲面? A  B  C  D 
20.	图七显示一个容器。  容器里的体积是多少 ml? A 300 ml B 350 ml C 400 ml D 450 ml 图七

21.	RM 1.65 - 80 sen - 25 sen = A RM 0.60 C RM 1.00	B RM 0.85 D RM 1.25
22.	哪项的和在 634 和 636 之间? A 126 + 508 C 313 + 322	B 244 + 392 D 459 + 174
23.	哪项说明是正确的? A 米的符号是 cm。 B 厘米的符号是 m。 C 米用来测量长的物体。 D 厘米用来测量长的物体。	
24.	图八显示一道连加法算式。 <div style="border: 1px solid black; padding: 5px; display: inline-block;">$5 + 5 + 5 + 5 + 5 + 5 = 30$</div> 图八 根据连加法算式写出乘法算式。 A $4 \times 5 = 20$ C $5 \times 6 = 30$	B $6 \times 5 = 30$ D $8 \times 5 = 40$
25.	哪个分数比 $\frac{1}{7}$ 大? A $\frac{1}{10}$ B $\frac{1}{9}$ C $\frac{1}{8}$ D $\frac{1}{6}$	
26.	钟面上的每个数字之间有 5 小格, 每小格代表多少分钟? A 10 分钟 B 5 分钟 C 2 分钟 D 1 分钟	
27.	 图九 图九显示一包糖的质量。试问五包糖的质量是多少? A 500 克 C 200 克	B 400 克 D 100 克
28.	计算 734 和 55 的和。 A 789 B 798 C 799 D 806	
29.	分针从 12 移到哪个数字, 表示过了 25 分钟? A 2 B 3 C 4 D 5	

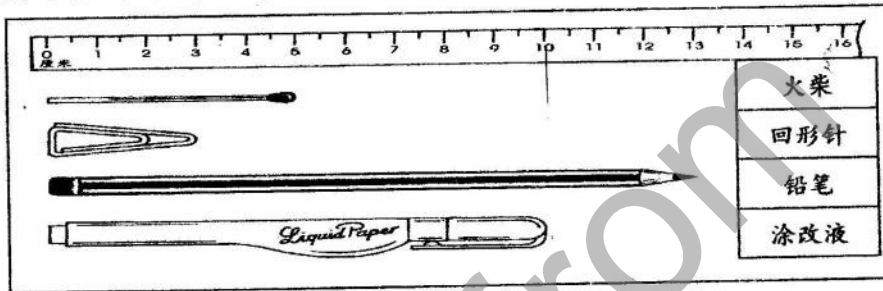
30. 下列哪项不是三角形的特征?

- A 有 3 个顶点
B 有 3 条直边
C 有 3 条曲边
D 没有曲边

31. 维明有 RM 15。他要买一个 RM 38 的钱包, 他还需要多少钱才能买到这个钱包?

- A RM 12 B RM 23 C RM 42 D RM 53

32. 图十显示物体的长度。



图十


涂改液的长度是多少?

- A 13 厘米 B 10 厘米 C 5 厘米 D 3 厘米

33. 箱子里有 388 颗弹子, 其中有 219 颗是蓝色弹子, 剩余的是黄色弹子。哪项算式正确地表达箱子里黄色弹子的数量?

- A $388 - 148 = 240$ B $388 + 169 = 557$
C $388 - 219 = 169$ D $388 + 219 = 607$

34. 图十一显示一堆芒果。妈妈买了 3 堆, 妈妈共买了多少个芒果?




图十一

- A 15 B 12
C 9 D 6

35. 惠君把 Q 个巧克力面包平分装进 4 个盒子里, 每个盒子里有 8 个。Q 代表什么数目?

- A 32 B 24 C 18 D 12

36. 根据图十二, 逆序排列以上的分数。

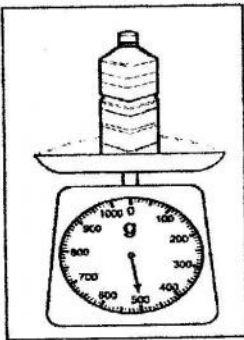


图十二


- A $\frac{1}{10}, \frac{1}{5}, \frac{1}{4}, \frac{1}{2}$ B $\frac{1}{2}, \frac{1}{4}, \frac{1}{5}, \frac{1}{10}$
C $\frac{1}{10}, \frac{1}{2}, \frac{1}{5}, \frac{1}{4}$ D $\frac{1}{2}, \frac{1}{5}, \frac{1}{4}, \frac{1}{10}$

37. 下列哪项物品最重?


A




B



C



D



38. 宏城买了一瓶 500 ml 的芒果汁和一瓶 800 ml 的豆浆。试问这两瓶饮料相差多少 ml?

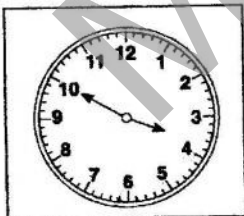
A 300 ml

B 400 ml

C 500 ml

D 600 ml

39.



图十三

图十三显示一个时刻。过了三个小时后, 下列哪项显示正确的时刻?

A 4:50

B 5:50

C 6:50

D 7:50

40. 以下显示一个立体的特征。

- 6个平面
- 8个顶点
- 12条直边

A 球体

B 圆锥体

C 圆柱体

D 长方体

2016年十月份二年级数学试卷（一）答案

- | | |
|-------|-------|
| 1. B | 21. A |
| 2. D | 22. C |
| 3. B | 23. C |
| 4. B | 24. B |
| 5. C | 25. D |
| 6. A | 26. D |
| 7. B | 27. A |
| 8. C | 28. A |
| 9. C | 29. D |
| 10. B | 30. C |
| 11. C | 31. B |
| 12. D | 32. B |
| 13. A | 33. C |
| 14. C | 34. A |
| 15. A | 35. A |
| 16. A | 36. B |
| 17. D | 37. B |
| 18. D | 38. A |
| 19. C | 39. C |
| 20. D | 40. D |

《写作练习班》由华小老师设计，讲解，再替你批改作文的写作课程！



点击这里购买完整版：<https://30.com.my/writing>

或者免费注册体验版 <https://30.com.my/writing-trial>

超值配套！最优惠的价格购买《小作家课程》和《写作练习班》：

<https://30.com.my/package>



只需一次付费，即可使用长达三年！而且内容会持续更新，不另加收费！