

## 第二学年数学

### 试卷一

姓名: \_\_\_\_\_ ( ) 评分: \_\_\_\_\_

班级: 2 ( )

日期: \_\_\_\_\_

家长签阅: \_\_\_\_\_

**A) 仔细阅读后把正确答案的英文字母圈起来。12x1%= 12%**

1) 下列哪个数目中数字6的数值是60?

- A) 896      B) 563      C) 602

2) 202, 207, ( ), 217

以上空格应该填上什么数目?

- A) 212  
B) 215  
C) 222

3) 以下哪项的和最大?

- A)  $158 + 508$   
B)  $608 + 240$   
C)  $108 + 608$

4) 下列哪项的积最小?

- A)  $4 \times 5$       B)  $6 \times 4$       C)  $7 \times 2$

5)  $36 \div ( ) = 9$

空格里应填入什么数目?

- A) 4      B) 5      C) 6

6)

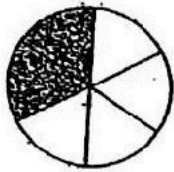
下列哪项的分数比 $\frac{1}{4}$ 大?

A)  $\frac{1}{3}$

B)  $\frac{1}{5}$

C)  $\frac{1}{6}$

7)



左图的阴影部分显示乐乐吃掉的月饼。现在还剩下多少的月饼?

A)  $\frac{2}{6}$

B)  $\frac{3}{6}$

C)  $\frac{4}{6}$

8)

RM 8.30 - RM 5.50 =

下列哪项的币值是正确的?

A) RM 2.20

B) RM 2.80

C) RM 3.20

9)



左图钟面所显示的是什么时刻?

A) 4:45

B) 9:20

C) 9:25

10)

公斤的符号是?

A) g

B) kg

C) l

11)

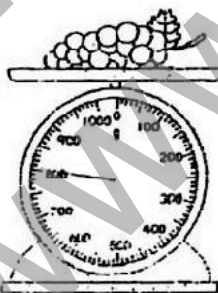
500 克等于

A) 5 g

B) 5 kg

C) 500 g

12)








左图显示一串葡萄的质量。这串葡萄的质量是多少?

A) 700 g





B) 800 g




C) 800 kg

B) 把正确的答案连起来。 5 x 1% = 5%









<p>A</p> 	9:30
<p>B</p> 	六时
<p>C</p> 	10:30
<p>D</p> 	二时
<p>E</p> 	4:15

C) 圈出两样物品的总数。 5 x 1% = 5%

<p>1)</p>   <p>RM 55      RM 45</p>	( RM 90 , RM 100 )
<p>2)</p>   <p>RM 48      RM 15</p>	( RM 63 , RM 73 )

3)  RM 9.90                      RM 3.90	( RM 12.80 , RM 13.80 )
4)  RM 5.20                      70 SEN	( RM 75.20, RM 5.90 )
5)  RM 4.50 RM 3.90                      90 SEN	( RM 8.80, RM 9.30 )

D) 在正确的答案下画线。  $8 \times 1\% = 8\%$

1)  ( 0.5 , 0.6 )	2)  ( 0.4 , 0.5 )
3)  ( 0.5 , 0.6 )	4)  ( 0.3 , 0.4 )
5)  ( 0.5 , 0.6 )	6)  ( 0.3 , 0.4 )
7)  ( 0.3 , 0.4 )	8)  ( 0.4 , 0.5 )