

## 第二学年数学

### 试卷二

姓名: \_\_\_\_\_ ( )



评分: \_\_\_\_\_

班级: 2 ( )

日期: \_\_\_\_\_

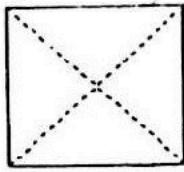
家长签阅: \_\_\_\_\_

回答所有的问题, 必须清楚地写出所有的计算步骤。40%

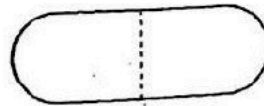
1	把 704 写成文字	1 分
2	完成以下数列 356、456、( )、656	1 分
3	写出 159 的百位近似值	1 分
4	分针走完一圈是 ( ) 分钟。	1 分
5	以符号写出 380 克的质量	1 分
6	以竖式计算 32 除以 4 的商	2 分
7	RM 70 = ( ) 张  + ( ) 张 	2 分
8	RM 0.60 - RM 0.45 = _____	2 分

**E) 根据分数涂颜色。4 x 1% = 4%**

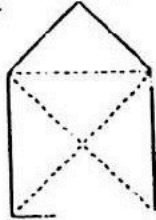
1)  $\frac{1}{4}$



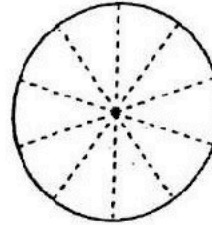
2)  $\frac{1}{2}$




3)  $\frac{1}{5}$




4)  $\frac{3}{10}$



**F) 圈出正确的答案。6 x 1% = 6%**



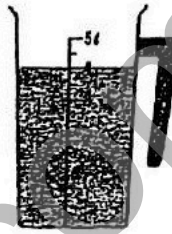
芒果汁



苹果汁



葡萄汁

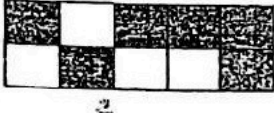
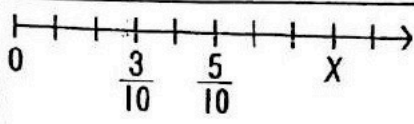





橙汁

液体	体积
1) 芒果汁	( 400ml , 4l )
2) 苹果汁	( 100ml , 1l )
3) 葡萄汁	( 300ml , 3l )
4) 橙汁	( 400ml , 4l )

5) 芒果汁比苹果汁 ( 多 , 少 )。

6) 苹果汁比葡萄汁 ( 多 , 少 )。

9	半天有( )小时	2分
10	$91 - 55 - 32 = \underline{\hspace{2cm}}$	2分
11	 <p>以数字写出阴影的分数。</p>	2分
12	 <p>把 X 的值写成小数。</p>	2分
13	 <p>以文字写出时刻。</p>	2分
14	 <p>以 cm 用尺测量汤匙的长度。</p>	2分
15	 <p>写出蛋糕的质量。</p>	2分
16	<p>俊浩有 123 枚邮票。他给了妹妹 52 枚, 还剩多少枚?</p> <div style="border: 1px solid black; height: 30px; width: 300px; margin: 10px 0;"></div> <p>答: 还剩 ( ) 枚。</p>	3分

17	礼堂里有 101 个观众。女观众有 46 个, 男观众有几个?  <input data-bbox="268 277 874 376" type="text"/>  答: 男观众有 (        ) 个。	3 分
18	一行有 4 把椅子, 要排成 9 行, 总共需要多少把椅子?  <input data-bbox="252 607 852 696" type="text"/>  答: 总共需要 (        ) 把椅子。	3 分
19	程明有 RM 8.20。爸爸和妈妈又分别给他 RM 3.30 和 RM 2.20。请问他共有多少钱?  <input data-bbox="248 947 849 1037" type="text"/>  答: 他共有 RM (        )。	3 分
20	明佑和哥哥在 5 天里卖了 30 杯饮料。请问他们俩每天平均卖了多少杯饮料?  <input data-bbox="252 1328 852 1417" type="text"/>  答: 他们俩每天平均卖了 (        ) 杯饮料。	3 分