

二年级科学与工艺

时间: 1 小时

姓名: _____ () 成绩: _____


班级: _____ () 日期: _____

(一) 圈出正确的答案。(30分)

1. 植物需要_____才能够茁壮成长。

- A. 树根
- B. 水
- C. 树干
- D. 树枝

2. 小微将一块厚纸板盖在草地上。



一个星期后, 厚纸板下的草会变得怎么样?

- A. 茂盛
- B. 长高
- C. 枯黄
- D. 变短

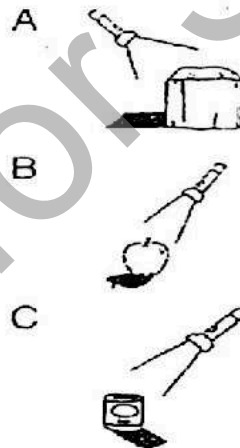
3. 以下各种都是光的来源, 除了

- A. 电池
- B. 火堆

5. 把一片叶子放进温水里, 你能观察到什么?

- A. 叶子变黄
- B. 冒出气泡
- C. 水变很热
- D. 叶子成长

6. 以下哪个物体的影子是正确的?



7. 哪些是植物的基本需求?

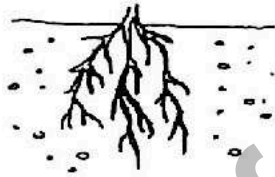
- | | |
|------|------|
| P 阳光 | Q 水 |
| R 空气 | S 泥土 |

C. 太阳 D. 灯泡

4. 当光线被物体阻挡时, 就会形成_____。

A. 阳光 B. 火花
C. 声音 D. 影子

8. 下图显示的植物部分的功能是什么?



A. 吸收水分 B. 吸收阳光
C. 蒸发水分 D. 吸收空气

9. 以下哪项是光对人类的重要性?

P 灯塔 Q 红绿灯 R 车灯

A. P 和 Q
B. Q 和 R
C. P 和 R
D. P、Q 和 R

10. 如果世界上的植物都死了, 会有什么结果?

A. 没有太阳
B. 所有动物会死亡
C. 人类会有很多食物

A. P 和 Q

B. Q 和 R

C. P、Q 和 R

D. P、Q、R 和 S

12. 按_____ , 可删除文字。

A. B.

C. D.

13. 料, 你会运用哪一项?

A. 微软文字处理 (Microsoft Word)

B. 微软电子表格 (Microsoft Excel)

C. 小画家 (Paint)

14. 在打印文件之前, 我们可以点击哪一项, 以检查无误后才打印?

A. "打印" (Print)

B. "背景填充" (Background Fill)

C. "打印预览" (Print Preview)

D. 吃植物的动物数量不改变

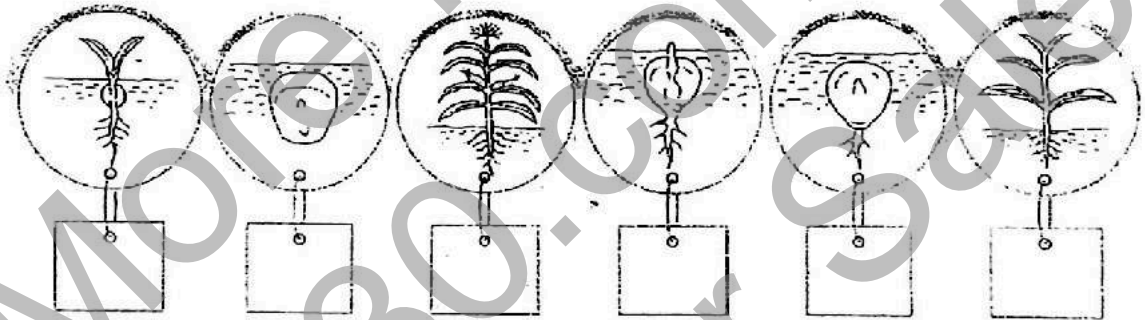
11. 丽丽把一棵树放在床底下。一个星期后, 丽丽发现植物枯萎了, 这是为什么?

- A. 植物没有空气
- B. 植物没有肥料
- C. 植物没有水分
- D. 植物没有阳光

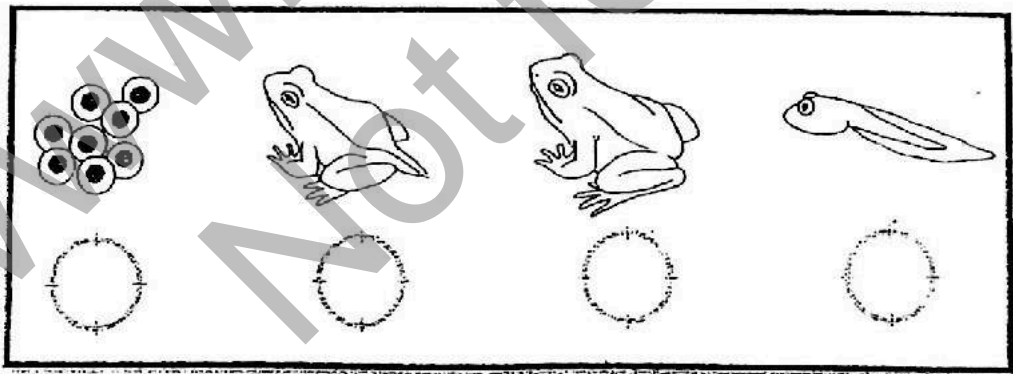
15. 以下哪项是正确的搜索引擎网子?

- A. www.yahoo.com
- B. w.yahoo.com
- C. www.yahoo.com

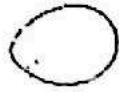
(二) 顺序排列职务的成长过程。(6分)




(三) 以数字 1 至 4 顺序排列青蛙成长过程。(4分)



(四) 将以下的食物分类。(12分)



鸡蛋




木瓜



饭



苹果



面包



牛奶


1 提供精力的食物

2 帮助成长的食物

3 保持健康的食物


(五) 仔细观察以下情况, 然后写出原因。(10分)

1



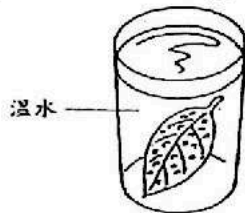
植物枯萎是因为缺少_____。

2



水桶下面的草变黄是因为得不到_____。


3



温水

叶子上会出现气泡是因为植物会通过叶子的气孔来_____。

4



植物需要什么才能长得茁壮?

需要足够的_____。

5



_____的水会使植物枯萎。

黑暗 水分 阳光 泥土 过量 呼吸 空气

(五) 把正确的影子画√。(5分)

物体的摆放方式和光源的方向

所形成的影子

1. Light source: three vertical arrows pointing down. Object: a pencil standing upright. Shadow 'a': a vertical arrow pointing up. Shadow 'b': a small black dot.

2. Light source: three vertical arrows pointing down. Object: a pencil lying horizontally. Shadow 'a': a horizontal arrow pointing right. Shadow 'b': a vertical arrow pointing up.

3. Light source: three vertical arrows pointing down. Object: a pencil standing upright. Shadow 'a': a small black dot. Shadow 'b': a vertical arrow pointing down.

4. Light source: three horizontal arrows pointing right. Object: a cup. Shadow 'a': a cup with a white highlight on the left side. Shadow 'b': a cup with a white highlight on the right side.

5. Light source: three vertical arrows pointing up. Object: a cup. Shadow 'a': a cup with a white highlight on the left side. Shadow 'b': a cup with a white highlight on the right side.


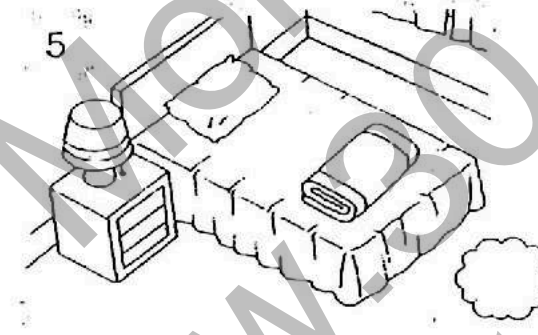

(六) 根据哈山的观察, 在空格里填上适合的答案。(3分)

哈山观察到池塘里的蝌蚪长出前脚、后	这是因为： 蝌蚪长大时 _____ 脱落，变成了 _____。
-------------------	--

脚、尾巴脱落.....

蝌蚪在成长过程中, _____ 会改变。


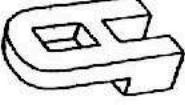


(七) 我们进行哪项活动时需要光? 对的画√。(8分)




(八) 根据图片说明手册, 选出有关的组件。然后将所需的组件涂上颜色。
(12分)

More from
www.30.com.my
Not for Sale


所需组件:

组件	名称	颜色	数量
	大 H	黄色	5
	大 A	蓝色	4
	大轮	红色	2
	大圆管	青色	1




(九) 把正确的答案填在空格里。(10分)

死亡 空气 油 枯萎 塑袋



1 植物被透明_____包起来会死亡, 因为没有_____。



2. 在叶子上涂_____。植物会_____, 因为没有空气。



3 植物被封密在瓶子里会_____, 因为没有空气。

(答案)

二年级科学与工艺 年终评估

(一) 圈出正确的答案。(30分)

1. B
2. C
3. A
4. D
5. B

6. B
7. C
8. A
9. D
10. B

11. D
12. A
13. B
14. C
15. C

(二) 顺序排列职务的成长过程。(6分)

4, 1, 6, 3, 2, 5

(三) 以数字 1 至 4 顺序排列青蛙成长过程。(4分)

1, 3, 4, 2

(四) 将以下的食物分类。(12分)

饭	鸡蛋	木瓜
面包	牛奶	苹果

(五) 仔细观察以下情况, 然后写出原因。(10分)

1. 水分
2. 阳光
3. 呼吸

4. 阳光
5. 过量

(五) 把正确的影子画√。(5分)

1. b

4. b

2. a

5. a

3. a

(六) 根据哈山的观察, 把适合的答案填在空格里。(3分)

尾巴、青蛙、体型

(七) 我们进行哪项活动时需要光? 对的画√。(8分)

1,2,3,6,7,8

(八) 根据图片说明手册, 选出有关的组件。然后将所需的组件涂上颜色。

(12分)

(九) 把正确的答案填在空格里。(10分)

1. 塑袋、空气
2. 油、枯萎 (如有学生写“死亡”, 不接受)
3. 死亡 (如有学生写“枯萎”, 不接受)

《小作家课程》教你实用的写作技巧, 让你轻松面对考试!

只需一次付费, 即可使用长达三年! 而且内容会持续更新, 不另加收费!

点击这里购买完整版: <https://30.com.my/bc2>

或者免费注册体验版: <https://class.30.com.my/courses/bc2-trial>

