

2017年八月份校内评价
二年级 数学
时间: 一小时十五分钟

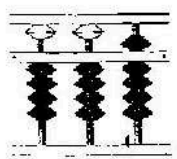
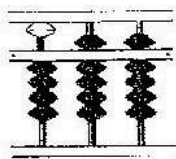
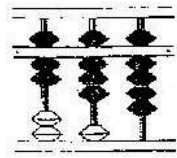
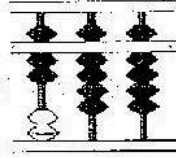
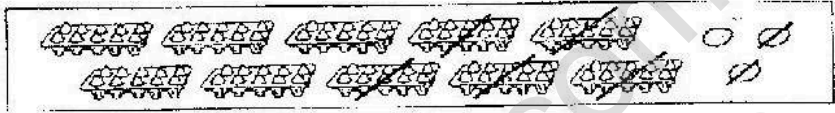
姓名: _____
班级: 2()

成绩: _____ /100
日期: 04/08/2017

A. 选择题。圈出并把最正确的答案写在空格上。(20%)

答案

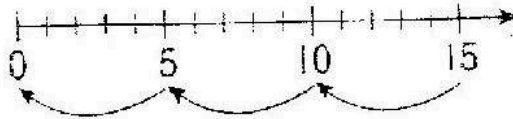
1.	<p>下图显示一条数目线。</p> <p>R的值是多少?</p> <p>A. 275 B. 274 C. 272 D. 271</p>	
2.	<p>根据数值分析 206。</p> <p>A. $2+0+6$ B. $20+6$ C. $200+6$ D. $200+60$</p>	
3.	<p>以下哪个数目的百位近似值是 800?</p> <p>A. 728 B. 746 C. 839 D. 852</p>	
4.	<p>计算 12、43 与 24 的和数。</p> <p>A. 36 B. 55 C. 67 D. 79</p>	
5.	<p>$238 + () = 736$</p> <p>()里应填上什么数目?</p> <p>A. 286 B. 498 C. 562 D. 974</p>	

6	<p>$405+394=$ _____</p> <p>以下哪个珠算盘显示该算式的答案?</p> <p>A.  B. </p> <p>C.  D. </p>	
7.	<p>下图显示一些鸡蛋。</p> <div style="border: 1px solid black; padding: 5px; text-align: center;">  </div> <p>根据上图, 哪项算式是正确的?</p> <p>A. $92-53$ B. $103-52$ C. $113-52$ D. $130-53$</p>	
8.	<div style="display: flex; justify-content: space-around; align-items: center;"> <div style="border: 1px solid black; padding: 5px; margin: 5px;">425</div> <div style="border: 1px solid black; padding: 5px; margin: 5px;">452</div> <div style="border: 1px solid black; padding: 5px; margin: 5px;">432</div> </div> <p>以上最大和最小的数目相差多少?</p> <p>A. 7 B. 17 C. 27 D. 37</p>	
9.	<p>以上哪项答案的值最小?</p> <p>A. 3×5 B. 6×4 C. 7×10 D. 8×2</p>	
10.	<p>$2 \times P = 4 \times 3$</p> <p>P 的值是多少?</p> <p>A. 4 B. 6 C. 8 D. 10</p>	

11. 以上哪项答案是正确的?

- A. $0 \div 10 = 0$ B. $7 \div 1 = 1$ C. $8 \div 4 = 4$ D. $12 \div 2 = 10$

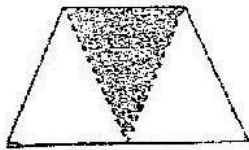
12. 下图显示一个数轴。



以下哪道除法算式是正确的?

- A. $15 \div 3 = 0$ B. $15 \div 3 = 5$ C. $15 \div 5 = 0$ D. $15 \div 5 = 3$

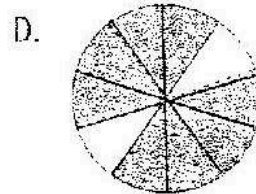
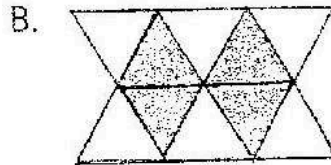
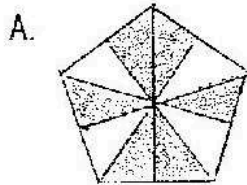
13. 下图显示一个分为三个相同部分的图形。



下列哪个分数比上图涂黑部分的分数大?

- A. $\frac{1}{2}$ B. $\frac{1}{4}$ C. $\frac{1}{6}$ D. $\frac{1}{8}$

14. 以下哪个图形的涂黑部分所显示的小数是 0.6?



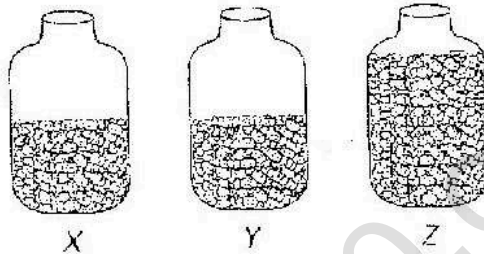
15. 下表显示两种颜色彩带的数量。

彩带	数量
红色	202 条
黄色	比红色彩带多 198 条

红色和黄色彩带的总数是多少条?

- A. 390 B. 400 C. 592 D. 602

16. 下图显示三个容器。



妈妈买了 850 颗糖果。他分别在上图中的 X 和 Y 容器里各放了 231 颗, 其余的则放入 Z 容器。计算 z 容器里糖果的数量。

- A. 268 B. 388 C. 462 D. 619



17. 妈妈买了番石榴和苹果, 番石榴价 RM9.80, 苹果则比番石榴便宜了 RM3.90. 苹果的价钱是多少?

- A. RM5.90 B. RM7.10 C. RM8.10 D. RM12.90

18. 姐姐买了一本书, 付了 1 张 RM10. 收银员找回 2 张 RM1、1 枚 50sen 和 2 枚 20sen. 这本书多少钱?

- A. RM2.90 B. RM7.10 C. RM8.10 D. RM12.90

19. 下图显示两个时钟。



星期三下午

星期四下午

上图显示时间过了多少小时?


- A. 1 B. 6 C. 12 D. 24

20. 下图的钟面显示现在的时刻。





30 分钟后, 钟面会显示什么时刻?

A. B.

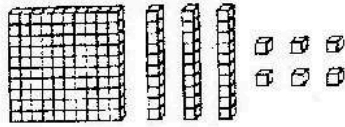


C. D.



B. 解答以下问题。(60%)

1. 数一数, 以数字和文字写出数目。(2分)



2. 把以下数目逆序排列。(2分)

逆序:

3. 写出 853 中 8 的数位和数值。(2分)

数位= _____

数值= _____

4. 写出 746 的十位和百位近似值。(2分)

十位近似值 _____

百位近似值= _____

5. 加一加。(2分)

(a)

$$\begin{array}{r} 241 \\ + 35 \\ \hline \end{array}$$

(b)

$$\begin{array}{r} 466 \\ + 358 \\ \hline \end{array}$$

6. 以竖式加一加。(2分)

$302 + 56 + 295 =$ _____

7. 减一减。 (2分)

(a)
$$\begin{array}{r} 656 \\ - 103 \\ \hline \end{array}$$

(b)
$$\begin{array}{r} 756 \\ - 559 \\ \hline \end{array}$$

8. 以竖式减一减。 (2分)

$431 - 105 - 267 = \underline{\hspace{2cm}}$

9. 根据下图，写出乘法算式。 (2分)

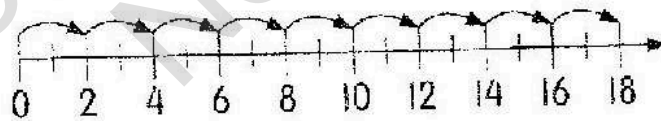


10. 完成下列乘法。 (2分)

(a) $9 \times 5 = \underline{\hspace{2cm}}$

(b) $7 \times \underline{\hspace{1cm}} = 28$

11. 根据数轴，写出加法和乘法算式。 (2分)



加法： $\underline{\hspace{2cm}}$

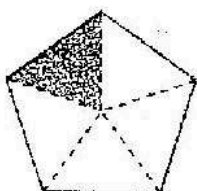
乘法： $\underline{\hspace{2cm}}$

12. 完成下列除法。 (2分)

(a) $30 \div 5 = \underline{\hspace{2cm}}$

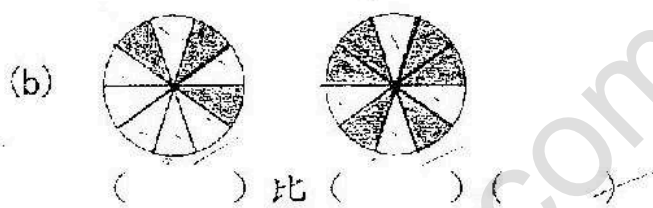
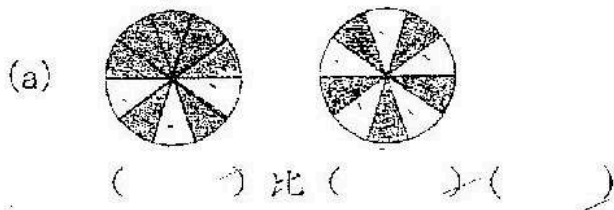
(b) $\underline{\hspace{2cm}} \div 10 = 2$

13. 以数字和文字写出涂黑部分的分数。 (2分)

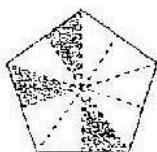


--	--

14. 根据涂黑部分, 比较两个分数。 (2分)


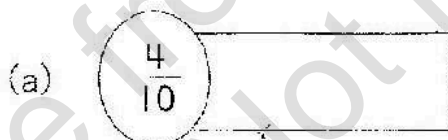


15. 以数字和文字写出涂黑部分的小数。 (2分)




--	--

16. 把以下分数写成小数。 (2分)



17. 左图中的钱币是多少钱? (2分)





以数字写出钱币的币值。





答:

--

18. 填一填。 (2分)


(a)  可换 张 


(b)  可换 张 

19. 完成下表, 以显示 RM94.75 的钱币组合。 (2分)


RM50	RM10	RM5	RM1	20sen	10sen	5sen


20. 以数字写出钟面的时刻。 (2分)

(a) 

(b) 

21. 以文字写出时刻。 (2分)

(a) 

(b) 

22. 华民小学有 832 名学生。男学生有 487 名, 女学生有多少名? (2分)

答: _____

23. 一个小贩卖了 35 个风筝后, 还剩下 268 个风筝。他原本有多少个风筝? (2分)

答: _____

24. 一个盒子可装 10 个乒乓球, 80 个乒乓球可装多少个盒子? (2分)

答: _____

25. 桌上有 6 个篮子, 老师分别在每个箱子内放进 4 个苹果。一共有多少个苹果? (2分)

答: _____

26. 王老师有 16 个气球, 他把气球平分给小晴、国华、可儿和丽玲。每人可得到多少个气球? (2分)

答: _____

27. 伟杰有 825 颗珠子, 他分别给子健和启明各 145 颗。伟杰还剩下多少颗珠子? (2分)

答: _____

28. 沙利果园在上个月生产了 378 个西瓜, 这个月的产量比上个月多了 105 个, 沙利果园在这两个月里共生产了多少个西瓜?

(2分)

答: _____

29.



椰菜饭
RM1.40



咖喱角
RM1.50



面
RM3.50



鱼丸
RM1.10

(a) 小明买了一碗面和一串鱼丸。他须付多少钱?

(2分)

(b) 小明原有 RM5。他买了 (a) 项物品之后, 还剩下多少钱?

(2分)

答案

A.

- | | |
|-------|-------|
| 1. B | 11. A |
| 2. C | 12. D |
| 3. C | 13. A |
| 4. D | 14. A |
| 5. B | 15. D |
| 6. D | 16. B |
| 7. B | 17. A |
| 8. C | 18. B |
| 9. A | 19. D |
| 10. B | 20. C |

B.

- | | |
|---|------------------------------|
| 1. 136, 一百三十六 | 15. 0.3, 零点三 |
| 2. 534, 453, 435, 354, 345 | 16. (a) 0.4 (b) 0.7 |
| 3. 百位, 800 | 17. RM6.80 |
| 4. 750, 700 | 18. (a) 20 张 (b) 50 张 |
| 5. (a) 276, (b) 824 | 19. 1, 4, 0, 4, 3, 1, 1 |
| 6. 653 | 20. (a) 12:15 (b) 4:55 |
| 7. (a) 553, (b) 197 | 21. (a) 二时四十五分 (b) 五时二
十分 |
| 8. 59 | 22. 345 |
| 9. $2 \times 5 = 10$ | 23. 303 |
| 10. (a) 45, (b) 4 | 24. 8 |
| 11. $2+2+2+2+2+2+2+2+2=18$,
$9 \times 2 = 18$ | 25. 24 |
| 12. (a) 6, (b) 20 | 26. 4 |
| 13. $\frac{1}{5}$, 五分之一 | 27. 535 |
| 14. (a) $\frac{7}{10}$ 比 $\frac{5}{10}$ 小 (b) $\frac{3}{10}$ 比 $\frac{6}{10}$ 大 | 28. 861 |
| | 29. (a) RM4.60 (b) RM0.40 |