




二年级数学评审 3/2017

姓名: _____
 日期: _____
 成绩: _____
 班级: _____
 时间: 1 小时
 家长签名: _____

A. 写出数字和文字。6%

1. 	2. 	3. 
数字: _____	数字: _____	数字: _____
文字: _____	文字: _____	文字: _____

B. 找出数目里 8 的数位和数值。4%

	数目	数位	数值
1	841		
2	178		

C. 完成以下数列。8%

1.

	390	392	394		398
--	-----	-----	-----	--	-----

2.

830		820		810	
-----	--	-----	--	-----	--

3.

900	800		600		
-----	-----	--	-----	--	--

D. 填一填。12%

1. $138 + 564 + 278 = (\quad)$	2. $846 - 768 = (\quad)$
3. $8 \times 4 = (\quad)$	4. $(\quad) \times 5 = 45$
5. $(\quad) \div 10 = 5$	6. $405 - (\quad) = 336$





J. 以竖式计算下列各题。9%

1. RM3.50 + RM2.10 + 45sen =	2. RM8.55 - 55sen =	3. RM8.10 - 40sen - RM4 =
------------------------------	---------------------	---------------------------

K. 完成下列各题。10%

1. 1小时有 () 分钟。
2. 半天有 () 小时。
3. 1天有 () 小时。
4. 从星期六上午 8.00 至星期日上午 8.00, 共 () 小时。
5. 分针走了 7 圈, 表示时间过了 () 小时。

L. 写出时间或画出时针和分针。8%

1. 	2. 	3. 	4. 
		1 时 55 分	9:05

M. 解答以下应用题。15%

1 一条裙子有 5 颗纽扣。6 条裙子有多少颗纽扣?


答: () 颗纽扣。

2 今天是星期五, 明天是星期几?

答:

3 小明每天用 45 分钟来做功课, 如果他从下午 4 时 10 分开始做功课, 那么他什么时刻做完功课?

答:



4 小美有 RM88。爸爸又给她 RM3.40。现在她共有多少钱?

答: 她共有 ()。

5 把 18 粒糖果平分给 2 个小孩, 每个小孩获得多少粒糖果?

答: 每个小孩获得 () 粒糖果。

答案:

A.

1.	2.	3.
487	640	843
四百八十七	六百四十	八百四十三

- 3) RM 57
4) RM 80.05

- B. 1) 百位, 800
2) 个位, 8

- I. 1) RM 90.30
2) RM 19
3) RM 182.50

- C. 1) 388, 396
2) 825, 815, 805
3) 700, 500, 400

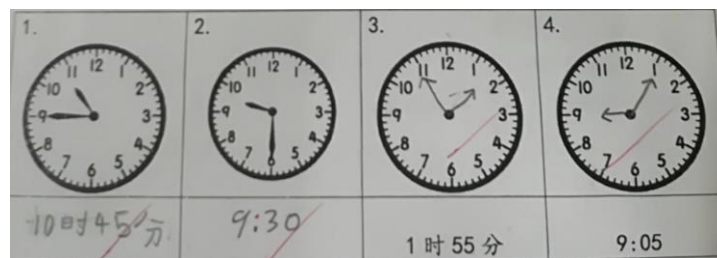
- J. 1) RM 6.05
2) RM 7.45
3) RM 3.70

- D. 1) 980
2) 78
3) 32
4) 9
5) 50
6) 69

- K. 1) 60
2) 12
3) 24
4) 24
5) 7

- E. 1) 大
2) 小
3) 大

L.



F. $\frac{2}{10}$, $\frac{6}{10}$

- M. 1) 30
2) 星期六
3) 4时55分
4) RM 91.40
5) 9

G. 0.4, 0.9

- H. 1) 七十三令吉二十仙
2) 八十五仙