

一年级数学(一) 评审(2.1)

时间: 60 分钟




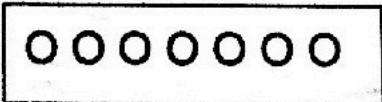

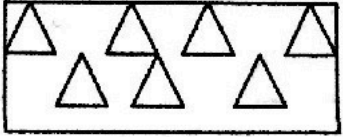
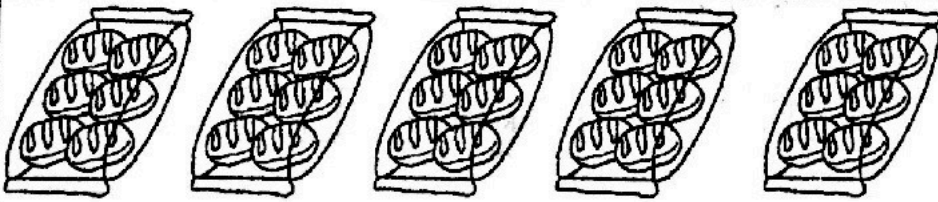
姓名: _____ ()

成绩:


班级: 1 ()

日期: 14-07-2017

圈出正确的答案, 并把代表答案的英文字母填在空格里。(40%)

题数	题目	答案
1.	 <p>上图有多少只小猪?</p> <p>A 10 B 9 C 8 D 7</p>	
2.	<p>哪项和  不相等?</p> <p>A  B </p> <p>C  D </p>	
3.	 <p>上图有多少个小面包?</p> <p>A 二十 B 三十</p> <p>C 四十 D 五十</p>	


4.



看上图, 选出对的答案。

- A ◆ 少于 ☺
- B ☺ 多于 ◆
- C ☺ 和 ◆ 一样多
- D ◆ 多于 ☺

5.



上图是一些动物。

从左边算起, 小狗排第几?

- A 第六
- B 第七
- C 第一
- D 第五

6.

以下哪组是 50 之前和之后的数目?

- A

49	50	52
----	----	----

 B

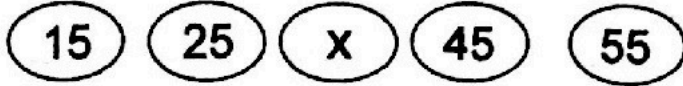
50	51	52
----	----	----
- C

48	49	50
----	----	----

 D

49	50	51
----	----	----

7.



上图是一条数列。X 是什么数目?

- A 26 B 52 C 35 D 54

8.

23 的十位近似值是_____。

- A 10 B 20 C 30 D 40


9.

以下哪个数目的十位数数值是 80?

- A 78 B 67 C 86 D 91



10.

逆序排列以下的数目。



- A 69, 85, 24, 42
 B 85, 69, 42, 24
 C 24, 42, 69, 85
 D 42, 24, 85, 69


11.



五和二合起来是多少?

- A 7 B 6 C 8 D 4

12.



Y 的答案是_____。

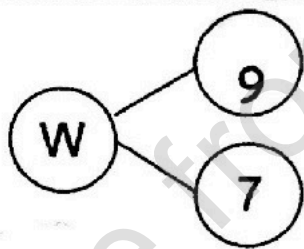
- A 3 B 4 C 5 D 1

13.

$5 + 4 = 9$ 也可以写成

- A 五少四, 是九
B 五多四, 是九
C 五减四, 等于九
D 九多四是五

14.




W 的和是什么数目?

- A 2 B 15 C 16 D 18

15.

以下哪项和七加五 的答案是一样的?

- A $6 + 7$
B $5 + 5$
C $9 + 3$
D $8 + 3$

16.	<p>哪組數目不可以組成 15 ?</p> <p>A 8 + 7</p> <p>B 6 + 5</p> <p>C 9 + 6</p> <p>D 7 + 8</p>	
17.	<p>$32 + 7 =$ _____</p> <p>A 39 B 102 C 38 D 93</p>	
18.	<p>$70 + 10 =$ _____</p> <p>A 80 B 60 C 90 D 70</p>	
19.	<p>$16 + 17 =$ _____</p> <p>A 35 B 43 C 23 D 33</p>	
20.	<p>$8 + 37 =$ _____</p> <p>A 36 B 45 C 35 D 87</p>	
21.	<p>以下哪條算式和 $7 - 0$ 的答案相同?</p> <p>A 1 + 7</p> <p>B 7 + 0</p> <p>C 2 + 3</p> <p>D 5 + 1</p>	
22.	<p>  </p> <p>$10 - 8 =$ _____</p> <p>A 18 B 10 C 1 D 2</p>	

23.

$9 - 3 = 6$ 也可以写成

- A 九多三, 等于六
- B 六减三, 等于九
- C 三减六, 等于九
- D 九减三, 等于六

24.



$$7 - \square = 4$$

空格内应填上什么数目?

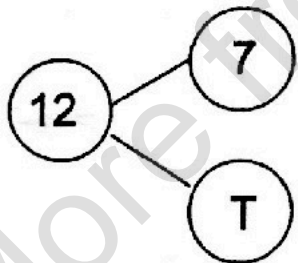
- A 3
- B 2
- C 11
- D 10

25.

找出十六和八的差。

- A 二十四
- B 十一
- C 八
- D 七

26.



T 应填上什么数目?

- A 5
- B 6
- C 10
- D 19

27.

$$\square - 9 = 8$$

找出空格里的数目。

- A 1
- B 17
- C 7
- D 0

28.



以下哪项是算盘对的算式?

A $11 + 7 = 18$

B $15 + 7 = 22$

C $11 + 3 = 14$

D $10 + 7 = 17$

29.

$1 + 2 =$

A $10 - 3$

B $11 - 7$

C $13 - 6$

D $12 - 9$

30.



估计上图有多少个番茄。

A 大约 40 个

B 20 个左右

C 少于 30 个

D 在 10 和 20 之间

31.

小强有 9 张红色的颜色纸, 明明有 10 张蓝色的颜色纸。他们共有 19 张颜色纸。

以上的故事配合哪个算式?

A $10 - 9 = 1$

B $9 + 1 = 10$

C $9 + 10 = 19$

D $19 - 10 = 9$

32. 树上有 3 只小鸟, 后来又飞来相等数量的小鸟, 树上共有多少只小鸟?

- A 9 B 7 C 6 D 3

33. 司机叔叔让 4 位学生下车后, 车上还有 5 位学生。校车原本载有多少位学生?

- A 8 B 9 C 7 D 6

34. 美美今年 7 岁。她的弟弟比她小 5 岁。美美的弟弟今年几岁?

- A 12 B 2 C 8 D 3

35. 妈妈买了 20 个鸡蛋, 她用了 10 个鸡蛋做蛋糕。她还剩下多少个鸡蛋?

- A 30 B 40 C 10 D 50

36. 小丽和哥哥在假期里各读了 9 本故事书。他们共读了多少本故事书?

- A 9 B 16 C 17 D 18

37. 桌上有两盘包子。一盘有 16 个, 另一盘有 9 个。两盘包子相差多少个?

- A 25 B 19 C 8 D 7

38. 食堂的老板早上卖出 25 杯果汁, 下午卖出 25 杯果汁, 计算他卖出果汁的总数。

- A 50 B 40 C 30 D 60

39. 姐姐有 11 张贴纸, 妹妹有 5 张贴纸。妹妹还要加多少张, 才能够和姐姐的贴纸一样多?

- A 16 B 17 C 6 D 8

40.

$$15 - 8 = 7$$

以上的减法算式配合以下哪个故事?

- A 乐华学校有 8 位教师。15 位是女教师, 7 位是男教师。
B 乐华学校有 5 位教师。8 位是女教师, 7 位是男教师。
C 乐华学校有 7 位教师。8 位是女教师, 15 位是男教师。
D 乐华学校有 15 位教师。8 位是女教师, 7 位是男教师。

答案

1. C
2. A
3. B
4. D
5. D
6. D
7. C
8. B
9. C
10. B
11. A
12. A
13. B
14. C
15. C
16. B
17. A
18. A
19. D
20. B
21. B
22. D
23. D
24. A
25. C
26. A
27. B
28. A
29. D
30. A
31. C
32. C
33. B
34. B
35. C
36. D
37. D
38. A
39. C
40. D