


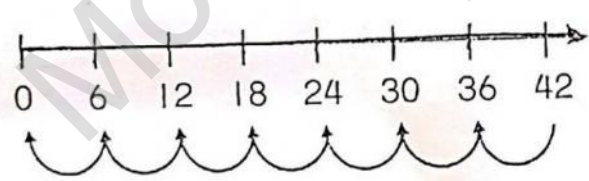
三年级数学试卷(二)月考

(日期: 7/ 2017)

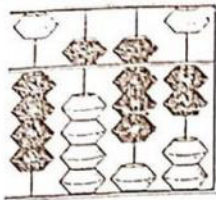
姓名: _____ 编号()

评分: _____

回答所有的试题, 答案须清楚地写在试题中空白的地方。 (60%)

1	把 0.35 写成文字。 i. _____ 2% 把 $\frac{70}{100}$ 换算成百分比。 ii. _____ 2%	
2	写出画线数字的数位和数值。 $\begin{array}{r} 5\ 448 \\ \hline \end{array}$ i. 数位 = _____ 2% ii. 数值 = _____ 2%	
3	完成以下(填一填) i. $q \times \square = 54$ ii. $4q \div \square = 7$	2% 2%
4	找出 P 的值。 	3%
5	 i. 看图写出除法算式。 _____ 2% ii. $900 \div 100 = \square$ _____ 2%	2% 2%
6	1. $\frac{2}{6} = \square$ 2. $\frac{4}{8} = \square$ 写出最简分数。	2% 2%

7

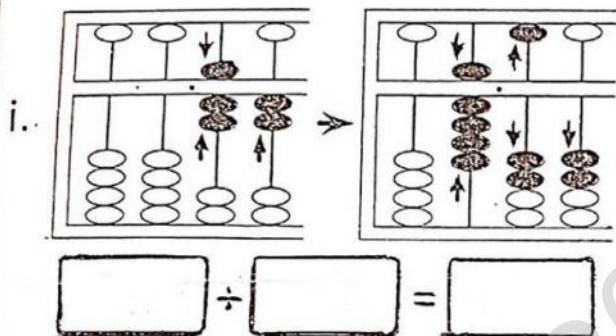


i. 把算珠所代表的数目写成数字。2%


ii. 把算珠所代表的数目写成百位近似值。2%

8

根据算盘写出除法算式。



下图显示一个百格图。



()

2%

2%

写出涂黑部分的小数。

9

i. 找 96 与 6 的积。2%

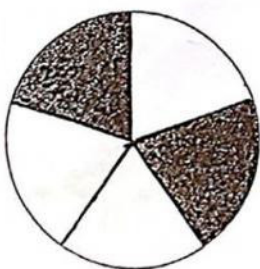
2%

ii. 计算 118、505 和 9(i) 的答案的总和。3%


10

以数字和文字写出涂黑部分的真分数。

1



2



4%

11

一家慈善机构把 500 条棉被平分给 8 所孤儿院, 每所孤儿院可以分得多少条棉被? 还剩多少条棉被?

4%

12

月份	椰浆饭的数量
一月	2 808 包
二月	比一月少 88 包

上表显示林阿姨在两个月内卖出椰浆饭的数量。

i. 林阿姨在二月份卖出多少包椰浆饭? 2%

ii. 找出一月和二月椰浆饭的和。2%

13

美娜有 3 500 枚邮票, 其中 1 720 枚是本地邮票。她将其中 289 枚本地邮票送给了姐姐。

i. 找出她还剩多少枚本地邮票? 3%

答: _____

ii. 把 13(i) 的答案写成千位近似值。2%

14	彩玲每天折 7 个纸鹤。他在 4 月份折了多少个纸鹤? 3%	
答: _____		
15	书房里有华文书和英文书, 总数量是 1788 本。书房里的华文书比英文书多, 而英文书的数量是 505 本。 i. 计算书房里的华文书和英文书的差。2% ii. 写出 15(i) 的数目, 答案以一百一十逆序地数。 2%	

答案

1. i) 零点三五
ii) 70%
2. i) 十位
ii) 40
3. i) 6
ii) 7
4. 2910
5. i) $42 \div 6 = 7$
ii) 9
6. i) $\frac{1}{3}$
ii) $\frac{1}{2}$
7. i) 4582
ii) 4600
8. i) $72 \div 8 = 9$
ii) 0.48
9. i) $96 \times 6 = 576$ (要做直式)
ii) $118 + 505 + 576 = 1199$
10. i) $\frac{2}{5}$ 五分之二
ii) $\frac{5}{9}$ 九分之五
11. $500 \div 8 = 62$ 余 4 (要做直式)
答: 62 条, 还剩 4 条。
12. i) $2808 - 88 = 2720$ (要做直式)
ii) $2808 + 2720 = 5528$ (要做直式)
13. i) $1720 - 289 = 1431$ (要做直式)
答: 1431 枚。
ii) 1000
14. $30 \times 7 = 210$ (要做直式)
答: 210 个
15. i) $1788 - 505 = 1283$
 $1283 - 505 = 778$ (要做直式)
ii) 778, 678, 578, 478, 378, 278, 178