

2017年第二学年三月份数学评审

姓名: _____

成绩: _____

班级: 2 ()

日期: _____

A 数一数, 写出正确的答案 (4%)

1

数字:

2

文字:

B 填一填 (8%)

(第3至第6题)

写成数字

216

430

写成文字

七百

九百零二

C 写出画线数字上的数位和数值 (4%)

	数目	数位	数值
7	<u>6</u> 04		
8	9 <u>9</u> 9		

D 排列以下的数目。(4%)

9

353

335

533

535

355

顺序: _____

10

579

432

740

296

315

逆序: _____

E 写出下列各题的分析式。(4%)

11 $437 = (\quad) + (\quad) + (\quad)$

12 $916 = (\quad)$ 个百 + (\quad) 个十 + (\quad) 个一

F 圈出正确的答案(4%)

13 417 比 741 (大、小)

14 (874、648) 比 755 小

G 填一填(12%)

15

565

--

567

--

569

16

815

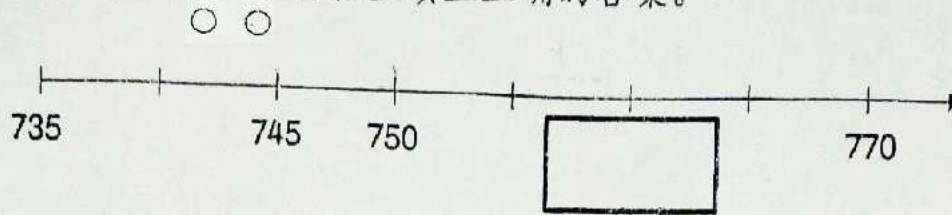
820

--

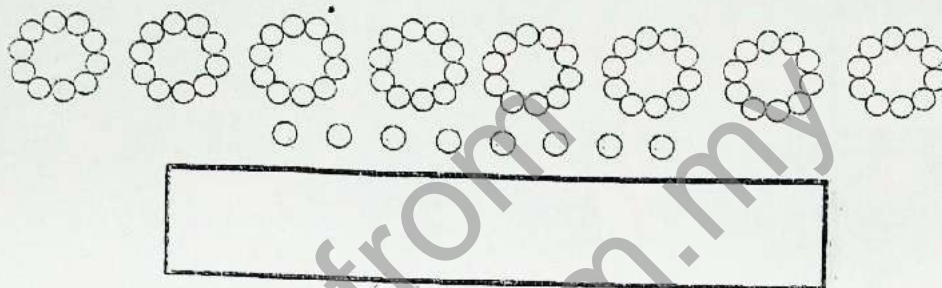
--

835

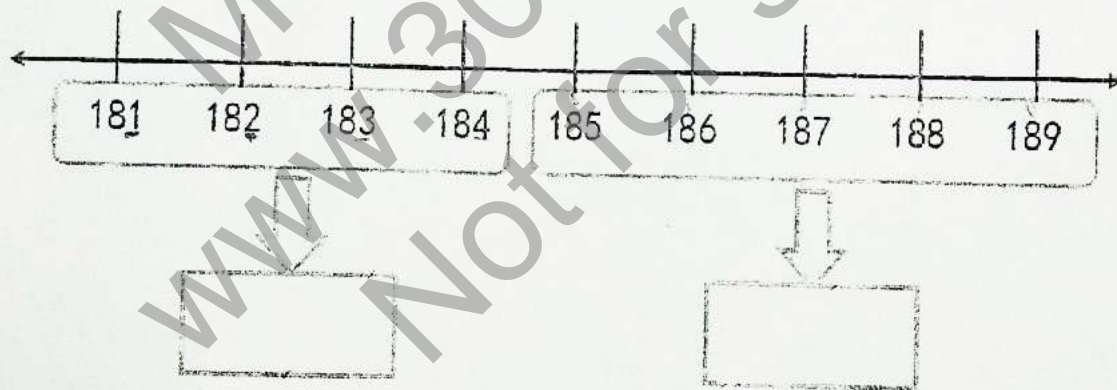
17 完成以下数轴, 在空格里填上正确的答案。




18 看图写出正确算式。



19 写出以下数目的十位近似值。

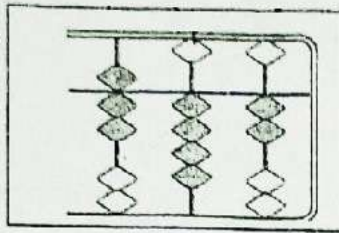


20 把百位近似值是 300 的数目涂上颜色。



H 选择题 (20%)

21



图(1)的珠算盘所代表的数目是多少?

A 215

B 342

C 742

图(1)

22 哪个数目的十位近似值是 500?

A 493

B 495

C 540

23 875 的百位近似值是?

A 800

B 880

C 900

24 计算 15、124、与 113 的总数

A 222

B 252

C 387

25 () + 732 = 780

A 38

B 48

C 58

26 哪个是 783 的正确数位分析式?

A 700 + 80 + 3

B 7 个百、3 个十和 8 个一

C 7 个百、8 个十和 3 个一

27 700 减去 26 等于多少?

A 638

B 674

C 726

28 $863 - (\quad) = 653$

A 210

B 234

C 350

29

429

492

924

以上最大和最小的数目相差多少?

A 63

B 432

C 495

30 以下哪项是正确的?

A $154 + 204 = 358$

B $237 + 327 = 563$

C $653 + 117 = 960$

1 以竖式算一算, 写出正确的答案。 (20%)

31 $634 + 23 = (\quad)$	36 $(\quad) + 145 = 779$
32 $456 + 321 = (\quad)$	37 $564 - 52 = (\quad)$
33 $532 + 274 = (\quad)$	38 $726 - 483 = (\quad)$
34 $9 + 8 + 7 = (\quad)$	39 $(\quad) - 174 = 352$
35 $286 + (\quad) = 364$	40 $136 + 450 + 95 =$

J 应用题 (20%)

41	篮子里有 14 个苹果和 53 个橙, 篮子里共有多少个水果? <input type="text"/> 答: () 个水果。	
42	A 火车有 163 名乘客。B 火车的乘客比 A 火车多 113 名。两列火车共有多少名乘客? <input type="text"/> 答: 有 () 名乘客。	
43	培华小学有 881 名学生, 中正小学有 693 名学生。这两所小学的学生相差多少名? <input type="text"/> 答: 相差 () 名学生。	
44	育民小学有 427 名男学生和 398 名女学生。育民小学共有多少名学生? <input type="text"/> 答: () 名学生。	
45	图书馆有 900 本故事书, 其中的 208 本已被借出。图书馆还剩下多少本故事书? <input type="text"/> 答: () 本故事书。	

46	<p>谢叔叔从卡车上搬走了 150 箱饼干后, 卡车上还有 240 箱饼干。卡车上原有多少箱饼干?</p> <div data-bbox="331 371 874 479" style="border: 1px solid black; height: 48px; width: 340px; margin: 10px 0;"></div> <p>答: () 箱饼干。</p>	
47	<p>杂货店里原有 230 包白糖, 卖了 55 包白糖后, 还剩下多少包白糖?</p> <div data-bbox="331 723 874 819" style="border: 1px solid black; height: 43px; width: 340px; margin: 10px 0;"></div> <p>答: () 包白糖。</p>	
48	<p>在运动会, 红队获得 387 分, 而黄队获得 430 分。两队的分数相差多少?</p> <div data-bbox="331 1066 874 1171" style="border: 1px solid black; height: 47px; width: 340px; margin: 10px 0;"></div> <p>答: () 分。</p>	
49	<p>明强、健国和宏锦各收到 25 封红包。他们共收到多少封红包?</p> <div data-bbox="331 1411 874 1516" style="border: 1px solid black; height: 47px; width: 340px; margin: 10px 0;"></div> <p>答: () 封红包。</p>	
50	<p>邮差叔叔每天要派送 800 封信。他派送了 452 封信, 他还有多少封信还没有派送?</p> <div data-bbox="331 1818 874 1924" style="border: 1px solid black; height: 47px; width: 340px; margin: 10px 0;"></div> <p>答: () 封信。</p>	

答案

A)

1) 208

2) 三百七十九

B)

写成数字: 700, 902

写成文字: 二百一十六, 四百三十

C)

7) 十位, 0

2) 百位, 900

D)

9) 335, 353, 355, 533, 535

10) 740, 579, 432, 315, 296

E)

11) 400, 30, 7

12) 9, 1, 6

F)

13) 小

14) 648

G)

15) 566, 568

16) 825, 830

17) 760

18) $808 - 205 = 603$

19) 180,190

20) 253,273

H)

21) C

22) B

23) C

24) B

25) B

26) C

27) B

28) A

29) C

30) A

I)

31) 657

32) 777

33) 806

34) 24

35) 78

36) 634

37) 512

38) 243

39) 526

40) 681

1)

41) $14 + 53 = 67$

42) $163 + 113 + 163 = 439$

43) $881 - 693 = 188$

44) $427 + 398 = 825$

45) $900 - 208 = 692$

46) $150 + 240 = 390$

47) $230 - 55 = 175$

48) $430 - 387 = 43$

49) $25 + 25 + 25 = 75$

50) $800 - 452 = 348$

扫描二维码 (WeChat ID: sjkemy), 关注“华小大小事”, 更多好康等着你!



马来西亚最齐全的网络写作课程:《小作家课程》和《写作练习班》! 只需一次付费, 即可使用长达三年! 而且内容会持续更新, 不另加收费!

超值配套! 最优惠的价格购买《小作家课程》和《写作练习班》: <https://30.com.my/package>

