

试卷一

1. 以下哪组数目依照顺序排列？

A 8, 14, 9, 5, 13

B 9, 3, 1, 4, 10

C 2, 5, 8, 10, 14

D 20, 10, 5, 3, 1

2. 以下哪组数目依照逆序排列？

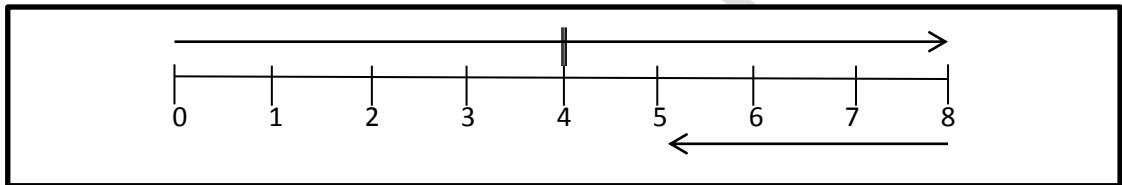
A 15, 12, 10, 11, 8

B 20, 18, 22, 10, 4

C 10, 9, 7, 4, 1

D 1, 5, 7, 9, 10

3. 选出以下数轴的算式。



A  $8 - 3 = 5$

B  $8 - 5 = 3$

C  $8 + 3 = 11$

D  $8 + 5 = 13$

4. 以下哪项等于 45？

A  $56 - 15$

B  $32 + 32$

C  $36 + 9$

D  $81 - 34$

5. 34 与 12 的和是多少？

A 46

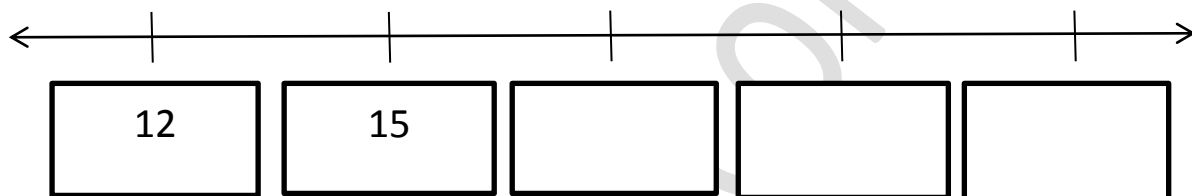

B 22

C 20

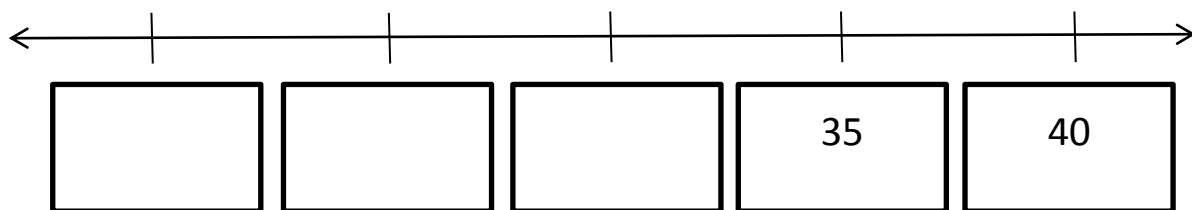
D 35

试卷二


1. 三个三个地数，圈一圈，填一填。




2. 五个五个地数，圈一圈，填一填。




3. 六个六个地数，依据数量，画出三角形。




4. 十个十个地数，依据数量，画出三角形。



5. 根据所指定的十位近似值，写出适合的数目。



6. 根据所指定的十位近似值，写出适合的数目。



7. 观察下面的数目排列，括号中应该填入什么数目？

5, 10, 15, 20, 25, ( ), 15, ( ), 5

此习题为 [30.com.my](http://30.com.my) 原创，除了出售牟利，老师学校，甚至补习中心都可以无限制使用

8. 妈妈买了一包糖果。在一周里，明明吃了 23 颗，他的妹妹吃了 12 颗。他们共吃了多少颗糖果？

答：

9. 某鱼池里有 20 只鲤鱼。一年后，鲤鱼生了小鲤鱼。现在，鱼池有 89 只鲤鱼。鲤鱼共生了多少只小鲤鱼？



答：

此习题为 [30.com.my](http://www.30.com.my) 原创，除了出售牟利，老师学校，甚至补习中心都可以无限制使用

10. 冰箱里有 45 支冰淇淋。吃了 23 支冰淇淋的话，还剩下多少条冰淇淋？



答：

11. 书店老板将每三支铅笔和一把尺装在一个铅笔盒里。他共有 5 个铅笔盒。书店老板共有多少支铅笔和多少把尺？



答：

加入 FB 群 [facebook.com/groups/sjkcmy/](https://www.facebook.com/groups/sjkcmy/)，我们会定时上载最新的习题

此习题为 [30.com.my](http://30.com.my) 原创，除了出售牟利，老师学校，甚至补习中心都可以无限制使用

12. 小美的妈妈将 2 块蛋糕放进一个小盒。她放进了五个盒子，一共有多少块蛋糕？

答：

13. 一个魔术师有 51 张卡。表演完毕时，他发现他的手上只有 32 张卡。共有多少张卡掉在地上？

答：

14. 今天是家长会，共有 42 位学生的父母需要参加。其中 13 位学生的父母因为工作无法参加。有多少为学生的父母可以参加这次的家长会？

答：

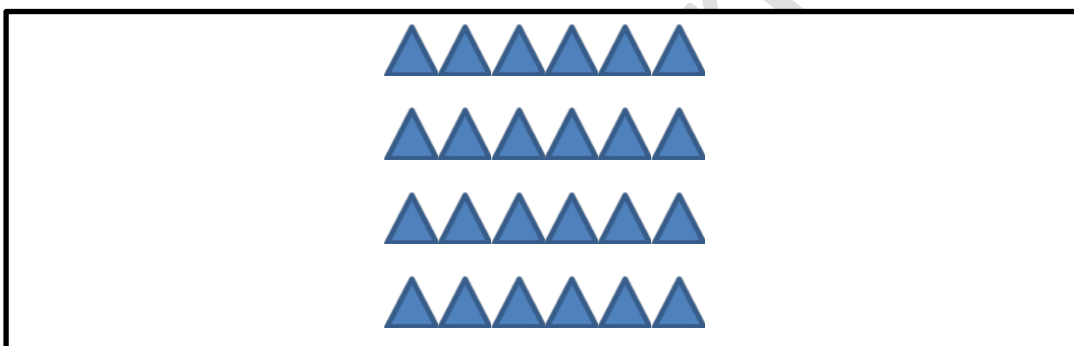
### 答案

#### 试卷一

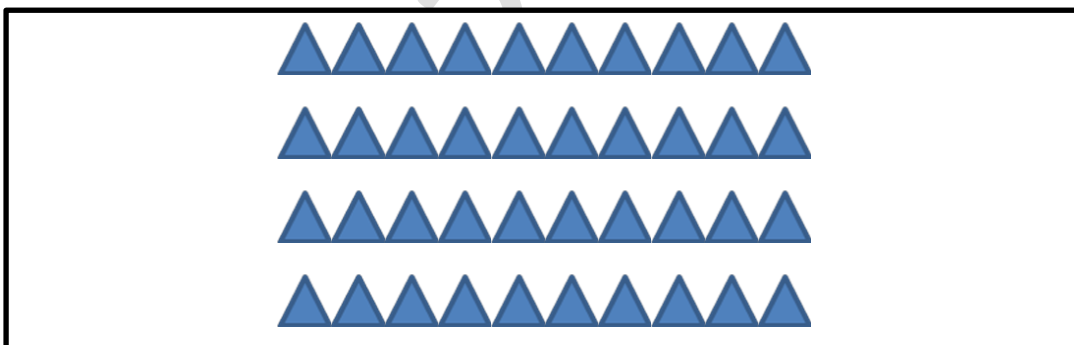
1. C
2. C
3. A
4. C
5. A

#### 试卷二

1. 18; 21; 24
2. 20; 25; 30
- 3.



4.



5. 25 至 34
6. 45 至 54
7. 20; 10
8.  $23+12=35$
9.  $89-20=69$
10.  $45-23=22$
11.  $3+3+3+3+3+1+1+1+1+1=20$
12.  $2+2+2+2+2=10$
13.  $51-32=19$
14.  $42-13=29$