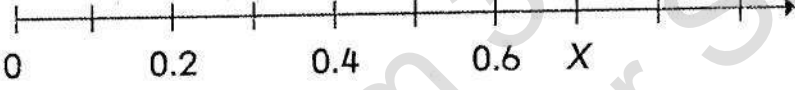
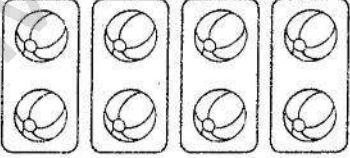
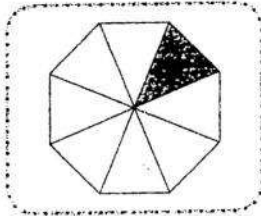
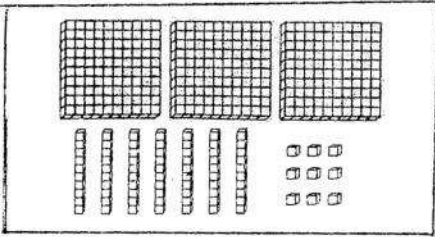





士毛月新国民型华文小学	
二年级数学 (一) 评审	
2016 年 8 月	
姓名: _____	班级: 2 () 编号: () 日期: _____
分数: _____	家长签阅: _____

作答说明: 下列各题都有四个答案A B C D, 其中只有一个答案是正确的。试选出正确的答案, 然后把你所选的答案的英文字母写在空格里。

1	把 619 写成文字。 A 六一九 B 六百零九 C 六百九 D 六百一十九	
2	下图显示一条数轴。  X 的值是多少? A 0.5 B 0.7 C 0.8 D 0.9	
3	下列哪一个数目的百位近似值不是 600? A 566 B 599 C 647 D 651	
4	 根据上图写出算式。 A $4 \div 2$ B $8 \div 2$ C $10 \div 2$ D $12 \div 2$	
5	以下哪一项是正确的? A $8 \times 3 = 54$ C $5 \times 4 = 25$ B $9 \times 5 = 45$ D $7 \times 4 = 29$	

6	<p>写出下图涂黑部分所占的分数。</p>  <p>A $\frac{1}{10}$ B $\frac{1}{9}$ C $\frac{1}{8}$ D $\frac{1}{7}$</p>					
7	<p>数一数, 共有多少个格子?</p>  <p>A 368 B 369 C 379 D 389</p>					
8	<table style="border-collapse: collapse;"> <tr> <td style="padding-right: 20px;"> $\begin{array}{r} 60 \\ + \quad \square \\ \hline 782 \end{array}$ </td> <td> 空格内应填上什么数目? A 622 B 632 C 722 D 732 </td> </tr> </table>	$\begin{array}{r} 60 \\ + \quad \square \\ \hline 782 \end{array}$	空格内应填上什么数目? A 622 B 632 C 722 D 732			
$\begin{array}{r} 60 \\ + \quad \square \\ \hline 782 \end{array}$	空格内应填上什么数目? A 622 B 632 C 722 D 732					
9	<p>RM 10 - 90 sen =</p> <p>A RM 0.80 B RM 9.10 C RM 9.90 D RM 10.90</p>					
10	<table border="1" style="width: 100%; text-align: center;"> <tr> <td>0.5</td> <td>0.7</td> <td>0.6</td> <td>0.8</td> </tr> </table> <p>以逆序排列以上的小数。</p> <p>A 0.5, 0.6, 0.8, 0.7 C 0.8, 0.7, 0.5, 0.6 B 0.5, 0.6, 0.7, 0.8 D 0.8, 0.7, 0.6, 0.5</p>	0.5	0.7	0.6	0.8	
0.5	0.7	0.6	0.8			
11	<p>阿姨每天缝制 3 件衣服。9 天里, 她缝制了多少件衣服?</p> <p>A 6 B 12 C 21 D 27</p>					

19	老师把一打书签分给邵哲及 3 位同学。每人可得几张书签? A 3 B 4 C 5 D 6	
20	图书馆里有 300 本华文图书及 198 本国语图书。校长再买 329 本英文图书。图书馆里共有多少本图书? A 498 B 527 C 629 D 820	
21	唯霓用 85 sen 买了一支毛笔, 还剩 35 sen。她原有多少钱? A 50sen B 110 sen C RM 1.10 D RM 1.20	
22	左图中涂黑部分所显示的小数是  A 0.4 C 0.6 B 0.5 D 0.7	
23	下图显示两件物品的价格。  钊纹有 RM 40。买了以上物品后, 她还剩多少钱? A RM 15.35 B RM 23.35 C RM 24.65 D RM 32.00	
24	$4 + 4 + 4 + 4 + 4 + 4 + 4$ 哪项算式是正确的? A 4×7 B 7×4 C 8×4 D 4×8	
25	下列哪项搭配是正确的? A $\frac{2}{10} \rightarrow$ 二分之十 C $\frac{4}{10} \rightarrow$ 四分之十 B $\frac{3}{10} \rightarrow$ 十分之三 D $\frac{5}{10} \rightarrow$ 五分之十	

26		<p>计算左图钱币的总值?</p> <p>A RM 50.75 C RM 65.25</p> <p>B RM 60.75 D RM 65.75</p>								
27	<p>下列哪一个组合是不正确的?</p> <p>A $\frac{6}{10} \rightarrow 0.6$ C $\frac{8}{10} \rightarrow 8$</p> <p>B $\frac{7}{10} \rightarrow 0.7$ D $\frac{9}{10} \rightarrow 0.9$</p>									
28	<p>以下哪一项是正确的?</p> <p>A $\frac{7}{10}$ 比 0.8 小 B $\frac{8}{10}$ 比 0.9 大 C $\frac{3}{10}$ 比 0.4 大 D $\frac{5}{10}$ 比 0.3 小</p>									
29	<p>黄老师把 40 学生分成 5 组。每组有多少个学生?</p> <p>A 5 B 6 C 7 D 8</p>									
30	<p>下表显示三种颜色笔的数量。黑色的颜色笔有多少支?</p> <table border="1" data-bbox="335 1377 917 1668"> <thead> <tr> <th>颜色</th> <th>数量</th> </tr> </thead> <tbody> <tr> <td>蓝色</td> <td>358 支</td> </tr> <tr> <td>红色</td> <td>比蓝色少 125 支</td> </tr> <tr> <td>黑色</td> <td>比红色少 37 支</td> </tr> </tbody> </table> <p>A 196 B 233 C 483 D 520</p>		颜色	数量	蓝色	358 支	红色	比蓝色少 125 支	黑色	比红色少 37 支
颜色	数量									
蓝色	358 支									
红色	比蓝色少 125 支									
黑色	比红色少 37 支									