

第一学年数学校本评估 (三)

姓名: _____

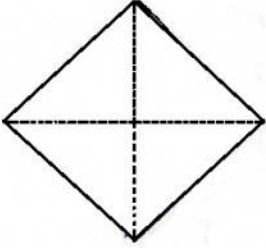

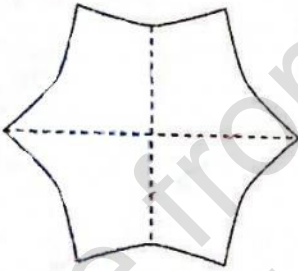
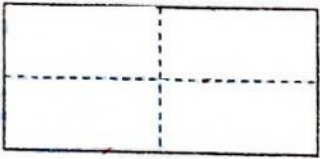
评分: _____

班级: 1 ()

日期: _ / 08 / 2017

家长签阅: _____


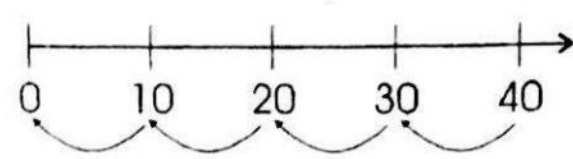
A. 根据分数, 把图形图上颜色。 ($4 \times 2\% = 8\%$)

<p>1)</p> 	<p>2)</p> 
<p>二分之一</p>	<p>四分之一</p>
<p>3)</p> 	<p>4)</p> 
<p>四分之二</p>	<p>四分之三</p>





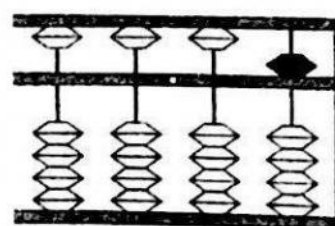
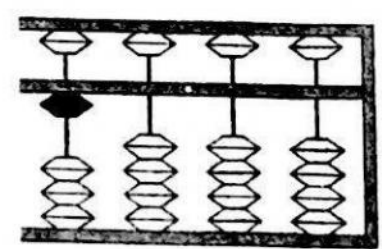
B. 对的画√, 错的画×。 ($5 \times 2\% = 10\%$)

- 1) 65 的十位近似值是 60。..... ()
- 2) 73 比 37 大。..... ()
- 3) RM1 等于 100sen。..... ()
- 4) 四分之一是被分成四个大小相同的部分的其中一个部分。 ()
- 5) 20 和 30 的差数是 50。..... ()

C. 根据下图, 写出连加法或连减法的算式。(2×2%=4%)

<p>1)</p> 	<p>2)</p> 
<p>() + () + () + () = ()</p>	<p>() - () = () () - () = () () - () = () () - () = ()</p>

D. 以 sen 或 RM 写出正确的币值。(6×2%=12%)







<p>1)</p> 	<p>2)</p> 	<p>3)</p> 
<p>4)</p> 	<p>5)</p> 	<p>6)</p> 

E. 以竖式计算下列各题。(4×2%=8%)

1) $67 + 8 = (\quad)$ 2) $90 - 45 = (\quad)$

3) $46 + 15 = (\quad)$ 4) $52 - 7 = (\quad)$

F. 填写正确的答案。(4×2%=8%)

1)	RM 5 = () 张			
2)	RM 1 = () 枚			
3)	RM 10 = () 张		和 () 张	
4)	RM 6 = () 张		和 () 枚	

G. 找出正确的数目, 把答案填写在 () 里。 (3×2%=6%)

例:	7, 8, 22, 32	(8) + (22) = 30
1)	3, 4, 41, 45	() + () = 48
2)	10, 20, 30, 40	() + () = 50
3)	15, 20, 25, 30	() + () = 45

H. 根据提示, 以竖式计算数目相差多少。 (3×2%=6%)

例:	5, 13, 15, 8	1)	12, 14, 22, 30
	相差最大		相差最小
	$\begin{array}{r} 15 \\ - 3 \\ \hline 12 \end{array}$		
2)	9, 33, 46, 59	3)	63, 54, 44, 40
	相差最大		相差最小

1. 解决问题。 ($5 \times 2 = 10\%$)

1) 雯雯从箱子里拿出 9 瓶果汁后, 箱子里还有 15 瓶果汁。箱子里原有多少瓶果汁?

答: 箱子里原有 () 瓶果汁。

2) 晓洁和俊康各有 36 本故事书。他们共有多少本故事书?

答: 他们共有 () 本故事书。

3) 篮子里有 55 个苹果, 其中 28 个是红苹果, 其余的都是青苹果。青苹果有多少个?

答: 青苹果有 () 个。

4) 丽丽买了一个月饼, 她与三个朋友平分这个月饼。每人分得几分之几的月饼?

答: 每人分得 () 的月饼。

5) 同学们在食堂里排队买食物, 8 个学生排成一行。从左到右, 小光是第 6 个; 从右到左, 婷婷是第 7 个。小光和婷婷之间有多少个人?

答: 小光和婷婷之间有 () 个人。

J. 圈出正确的答案。 (10 × 2% = 20%)

1) 85 和 38 中数字 8 的数值相差多少?

A. 72

B. 47

C. 80

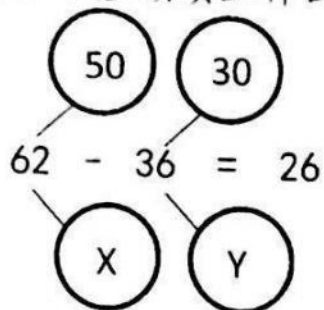
2) RM10 可换成多少张 RM1?

A. 5

B. 10

C. 1

3) X 和 Y 应该填上什么数目?



A. X = 2, Y = 6

B. X = 10, Y = 6

C. X = 12, Y = 6

4) 以下哪组数目根据顺序排列?

A. 34, 32, 30, 28

B. 70, 60, 80, 90

C. 32, 36, 40, 44

5) $72 - (\quad) = 45$

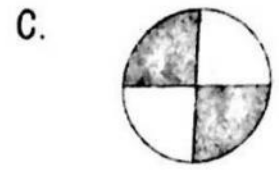

括号里应该填上什么数目?

A. 33

B. 27

C. 97

6) 以下哪个图形的涂黑部分不是显示一半?



7) 以下各项的十位近似值都是 60, 除了哪一个?

A. 55

B. 53

C. 63

8) 下图显示两个罐子。



80 片

A 罐子里大约有多少片饼干?

A. 20

B. 40

C. 60

9) 云云有 5 张书签, 美美有 13 张书签。云云还需要多少张书签, 两人的书签数量才会相等?

A. 18

B. 10

C. 8

10) 草场上有 25 个女学生和 26 个男学生。草场上一共有多少个学生?

A. 51

B. 41

C. 61

K. 在空格里填写正确的答案。 (4×2%=8%)

1) 写出两个 89 之后的数目。

2) 写出 77 和 80 之间的数目。

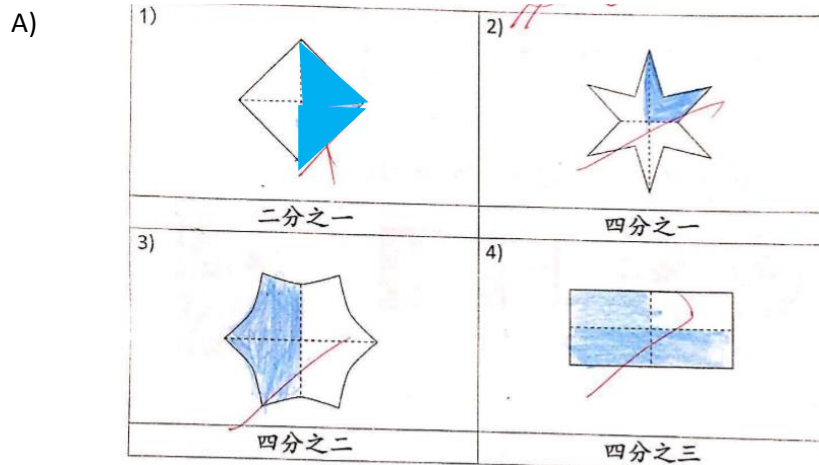
3) $6 + 2 = 10 -$

4)

$$\begin{array}{r} 3 \quad 5 \\ - 1 \quad \boxed{} \\ \hline 1 \quad 8 \end{array}$$

More from 30.com.my
Not for Sale

答案:



- B) 1.) ✗
2.) ✓
3.) ✓
4.) ✓
5.) ✗

- 2.) $20+30$
3.) $25+20$

- H) 1.) $14-12=2$
2.) $59-9=9$
3.) $44-40=4$

- C) 1.) $4+4+4+4=16$
2.) $40-30=10$
 $30-20=10$
 $20-10=10$
 $10-0=10$

- I) 1.) 24
2.) 72
3.) 27
4.) 四分之一
5.) 3

- D) 1.) 70 sen
2.) RM 10
3.) RM 6
4.) 80 sen
5.) 5 sen
6.) RM 10

- J) 1.) A
2.) B
3.) C
4.) C
5.) B
6.) A
7.) B
8.) B
9.) C
10.) A

- E) 1.) 75
2.) 45
3.) 61
4.) 45

- K) 1.) 90, 91
2.) 78, 79
3.) 2
4.) 7

- F) 1.) 5
2.) 5
3.) 1, 5
4.) 1, 2

- G) 1.) $3+45$