

一年级数学

(10)-8-2017

1小时

姓名: _____

成绩: _____

班級: _____

出题: 周顯惟师

审题: 张惠玲师

A. 选择题, 圈出正确的答案 (20%)

1. 哪个数目的十位近似值是 70?

A. 64

B. 66

C. 58

2. 写出 82 的文字。

A. 二十八

B. 八二

C. 八十二

3. 哪个 9 的数值是 90?

A. 95

B. 19

C. 59

4. 那组数目能组成 65?

A. 6 和 5

B. 25 和 25

C. 30 和 35

5. 找出接下来的数目。


16, 20, 24, 28, ()

A. 32

B. 30

C. 34

6. 以下哪个是算盘的算式?




A. $1+7=8$

B. $7+1=8$

C. $8+1=9$

7. 以下哪个是算盘的算式?



A. $4-1=3$

B. $4-3=1$

C. $4-2=2$

8.



○ 的数字是()。

A. 12

B. 5

C. 6

9. 根据数轴选出正确的算式。



A. $5 + 4 = 9$

B. $9 - 5 = 4$

C. $9 - 4 = 5$

10. 哪个算式的答案与 $18 + 6$ 相等?

A. $12 + 12$

B. $55 - 30$

C. $18 + 4$

B. 写出以下钱币的币值 (8%)

1.



2.



3.



4.



C. 换算钱币。 (6%)

1) 95sen = () 枚 , () 枚  和 () 枚 


2) RM8 = () 张  和 () 张 

3) RM1 = () 枚  和 () 枚 

D. 看图完成算式。(6%)



40 sen



50 sen



35 sen



60 sen

例 昕恩买了两个 , 她须付多少钱?

$60\text{sen} + 60\text{sen} = 120\text{sen}$

1a 靖茜买了一个  和一个 , 她须付多少钱?

1b 靖茜有 RM2, 买了食物还剩下多少钱?

1c 靖茜剩下的钱够买3个  吗? 把答案圈起来。

够

不够


E. 根据题目回答问题。(4%)

宏智买了一个月饼回来, 分成四块相等的部分, 他吃了一块, 爸爸吃了二块, 剩下的给妈妈。

1a. 宏智和爸爸共吃了几分之几的月饼? (1%)

 分之

1b. 根据 1a 的答案把代表的分数涂上颜色。(2%)





1c. 妈妈吃的月饼是几分之几? (1%)

 分之

F. 把正确的英文字母填在 里 (5%)

A	B	C	D	E
午夜	清晨	下午	中午	傍晚



G. 以文字写出时刻。(6%)

例				
一时半				

H. 根据时刻画出分针。(6%)

二时一刻	七时半	十时三刻

J. 填一填。 (7%)

1. 今天是星期日, 昨天是星期 (), 前天是星期 ()。
2. 今天是星期一, 明天是星期 (), 后天是星期 ()。
3. 一个星期有 () 天。
4. 一年有 () 个月。
5. 国庆节落在 () 月份。

J. 根据分数, 把图形涂上颜色。 (3%)

		
<p>二分之一</p>	<p>四分之一</p>	<p>四分之二</p>

K. 看图写出连加法算式。 (4%)

例



$$2 + 2 + 2 = 6$$

1



2



1. 妈妈有 15 块饼干，每天吃 5 块，可以吃多少天？

$$\begin{array}{r} 15 \\ - 5 \\ \hline \end{array}$$

答：可以吃 () 天。

2. 老师有 8 支彩笔，每组学生拿 4 支，可以分给多少组？

$$\begin{array}{r} 8 \\ - 4 \\ \hline \end{array}$$

答：可分成 () 组。

M. 对的画 \checkmark ，错的画 X。 (4%)

- 1) 3 比 7 多 4 ()
- 2) 50 少于 40 ()
- 3) 95 比 56 大 ()
- 4) 18 比 81 小 ()

N. 解答应用题 (15%)

1. 甜甜圈有 45 个，拿走了 19 个，剩下多少个？

答：() 个。

2. 草场上各有 20 位男同学和女同学, 草场上一共有多少位同学?

答: () 位。

3. 林太太买了一些鸡蛋回来, 不小心打破了 16, 还剩下 14 个。林太太原本买了多少个鸡蛋?

答: () 个。

4. 丹好有 29 粒糖果, 毓玟的糖果比丹好多 15 粒, 毓玟有多少粒糖果?

答: () 粒。

5. 教盛有 80sen, 买了一个 50sen 的面包, 他还剩多少钱?

答: () sen。

家长签名: _____

日期: 10-8-17

答案

A.

1. B
2. C
3. A
4. C
5. A
6. A
7. B
8. B
9. C
10. A

B.

1. RM 10
2. RM 3
3. 80 sen
4. RM 1

C.

1. 1, 2, 1
2. 1, 3
3. 1, 5

D.

- 1a. $40 \text{ sen} + 50 \text{ sen} = 90 \text{ sen}$
- 1b. $\text{RM } 2 - 90 \text{ sen} = \text{RM } 1.10$
- 1c. 够

E.

- 1a. 四分之三




1b.

1c. 四分之一

F. B, A, C, E, D

G. 十一时一刻, 二时, 七时三刻

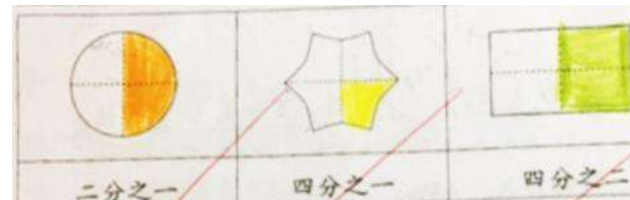
H.



I.

1. 六, 五
2. 二, 三
3. 七
4. 十二
5. 八

J.



若要最新上载的华小考卷，请到：facebook.com/sjkcmy

- K. 3) ✓
1. $5+5+5=15$ 4) ✓
2. $10+10+10=30$ N.
- L. 1. 26 个
1. 3 天 2. 56 位
2. 2 组 3. 30 个
- M. 4. 44 粒
1) ㊟ 5. 30sen
2) ㊟

在《小作家课程》里，我们不教你背成语，不教你背范文，只教实用的写作技巧，让你轻松面对考试！别错过我们的促销优惠，[点击这里查阅如何获得 RM30 折扣](#)，或游览：

www.30.com.my/products/bc2



最新的华小网上课程，详情请游览：30.com.my/class