

模组练习 (3)

2017 年一年级数学

时间: 1 小时 15 分钟

班级:

姓名:

日期:

A. 试圈出正确的答案。

1. 哪个数目的十位数数字是 6?

A 76

B 86

C 68

D 96

2. 哪个数目的十位近似值是 40?

A 46

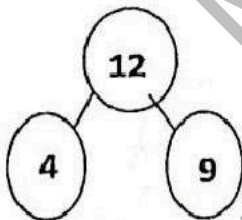
B 38

C 52

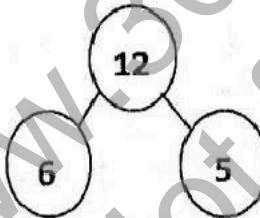
D 34

3. 哪项显示 12 的组合是正确的?

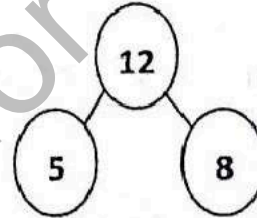
A



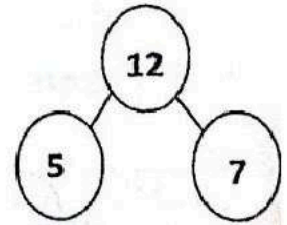
B



C



D



4. 35 少 7 是什么?




A 42

B 38


C 32

D 28

5. 比一比, 试选出正确的答案。

P 	A P 最长, Q 比 R 短。
Q 	B R 最长, Q 比 P 短。
R 	C Q 最短, R 比 P 长。
	D R 最短, P 比 Q 长。

6. 谁的个子最高?



A P

B Q

C R

D S

7. 找出 48 和 24 的和?

A 72

B 62

C 24

D 14

8. 桌上有 13 瓶汽水, 喝了 6 瓶, 还剩下多少瓶?

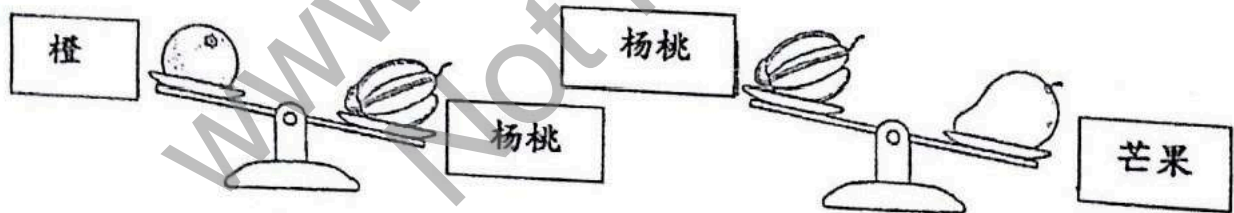
A 19

B 12

C 9

D 7

9. 图下显示两个秤子上各放了几种水果。



从最轻到最重, 按照次序排列这些水果。



A 橙、芒果、杨桃

B 杨桃、橙、芒果

C 芒果、杨桃、橙

D 橙、杨桃、芒果

10. 图下显示两个容器里液体体积。



S 容器比 T 容器少盛几杯水?

A 3

B 4

C 5

D 7

B. 根据分数涂上颜色。

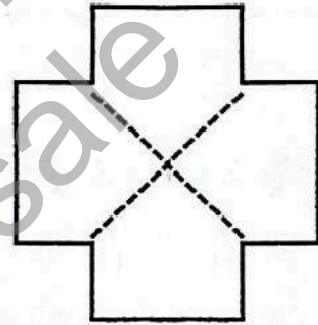
1.

二分之一



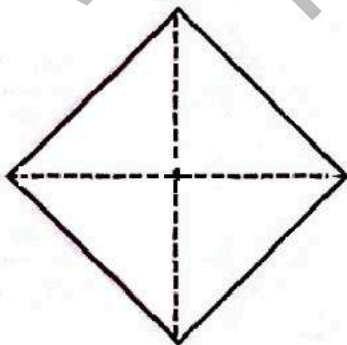
2.

四分之一



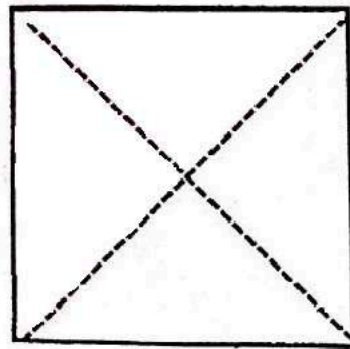
3.

四分之三









4.

四分之二



C. 写出钟面上的时刻。









一时三刻	五时半	十一时一刻
七时一刻	三时	六时三刻

1. 	2. 	3. 
4. 	5. 	6. 

D. 完成以下算式。


1. $26 + 3 =$	2. $18 + 21 =$	3. $26 + ( ) = 31$
4. $37 + 25 =$	5. $49 - 7 =$	6. $67 - 46 =$
7. $( ) - 9 = 37$	8. $63 - 35 =$	9. $54 - ( ) = 25$


E. 圈出相等的币值


1.		
2.		
3.		
4.		


F. 在空格里填写相关时刻的字母。


A 清晨	B 上午	C 中午
D 傍晚	E 晚上	F 午夜


1. 

2. 


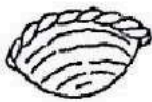
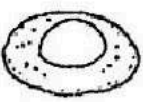

3. 

4. 

5. 

6. 

G. 应用题。

<p>1. 小美有 RM10, 佳佳的钱比她少 RM6。佳佳有多少钱?</p> <p>答: 佳佳有 RM (        )。</p>	
<p>2. 图书馆里有 38 个学生。不久后又来了 29 个学生。图书馆里共有多少个学生?</p> <p>答: 共有 (        ) 个学生。</p>	
<p>3. 池塘里有 38 只鸭子和 58 只鹅。鸭子和鹅的数量相差多少?</p> <p>答: 相差 (        ) 只。</p>	
<p>4. 小珍买了两枝笔, 每枝 RM3。她需付多少钱?</p> <p>答: 她需付 RM (        )。</p>	
<p>5. 家明有 58 个气球, 破了 39 个。他还剩多少个气球?</p> <p>答: 他还剩 (        ) 个气球。</p>	
<p>6.</p> <div style="display: flex; justify-content: space-around; align-items: center;"> <div style="text-align: center;">  <p>80 sen</p> </div> <div style="text-align: center;">  <p>50 sen</p> </div> <div style="text-align: center;">  <p>60 sen</p> </div> <div style="text-align: center;">  <p>RM1</p> </div> </div> <p>计算价格最高和最低的食物之差。</p> <p>答: 相差 (        )。</p>	

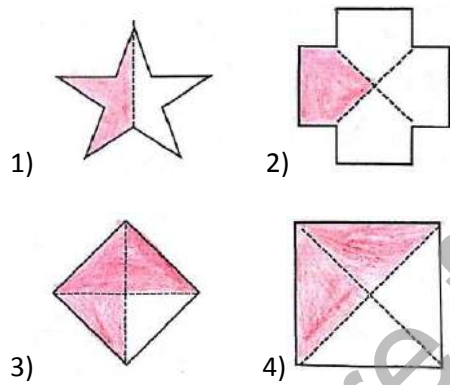
家长签阅: \_\_\_\_\_

答案

A)

- |      |       |
|------|-------|
| 1) C | 6) B  |
| 2) B | 7) A  |
| 3) D | 8) D  |
| 4) D | 9) D  |
| 5) A | 10) A |

B)



C)

- |          |         |
|----------|---------|
| 1) 十一时一刻 | 2) 五时半  |
| 2) 一时三刻  | 4) 三时   |
| 5) 七时一刻  | 6) 六时三刻 |

D)

- |       |       |       |
|-------|-------|-------|
| 1) 29 | 2) 39 | 3) 5  |
| 4) 62 | 5) 42 | 6) 21 |
| 7) 46 | 8) 28 | 9) 29 |

E)



F)

- |      |      |
|------|------|
| 1) D | 4) F |
| 2) C | 5) A |
| 3) B | 6) E |



G)

1)  $RM\ 10 - RM6 = RM\ 4$

2)  $38 + 29 = 67$

3)  $58 - 38 = 20$

4)  $RM3 + RM3 = RM6$

5)  $58 - 39 = 19$

6)  $RM\ 1 - 50sen = 50\ sen$

《写作练习班》由华小老师设计, 讲解, 再替你批改作文的写作课程!



点击这里购买完整版: <https://30.com.my/writing>

或者免费注册体验版 <https://30.com.my/writing-trial>

超值配套! 最优惠的价格购买《小作家课程》和《写作练习班》: <https://30.com.my/package>



只需一次付费, 即可使用长达三年! 而且内容会持续更新, 不另加收费!