

一年级数学校本评估 (三)

时间: 1 小时

班级: 1 ()

成绩:

姓名: _____ ()

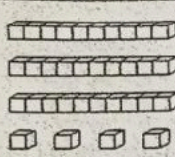
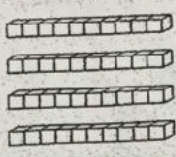
日期: 15-8-2017

家长签阅: _____

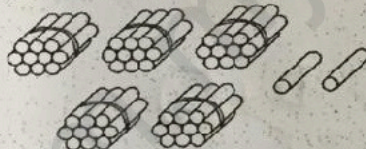
A) 以文字和数字写出数目。

(2x4%=8%)

1.

	
数字	文字
<input type="text"/>	<input type="text"/>

2.

	
数字	文字
<input type="text"/>	<input type="text"/>

B) 填写正确的答案。

(4x2%=8%)

数目
十位近似值

37	如	43	如	61	如	88
<input type="text"/>		<input type="text"/>		<input type="text"/>		<input type="text"/>

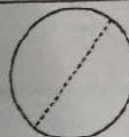

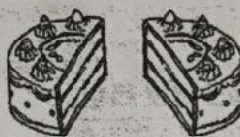
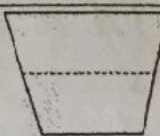
C) 圈出正确的答案。

(5x2%=10%)

- 3 个十和 5 个一是 (35 53)
- 8 比 4 (多, 少) 4
- (6, 7) 比 5 多 2
- 84 的十位数的数值是 (8, 80)
- 10 个 10 个地数, 第三个数目是 (20, 30)

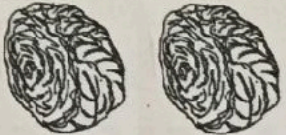
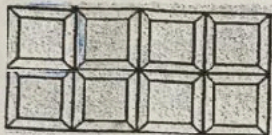


D) 哪些折纸或物体被分成二分之一? 在被分成二分之一 里画 里画 不是的画 X。

(4x2%=8%)

1.  <input type="checkbox"/>	2.  <input type="checkbox"/>	3.  <input type="checkbox"/>	4.  <input type="checkbox"/>
--	--	---	--

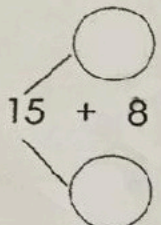
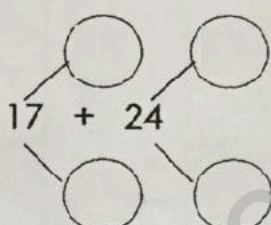
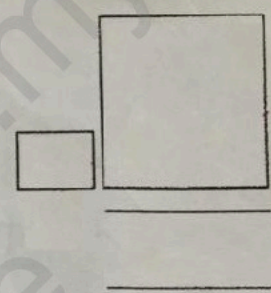
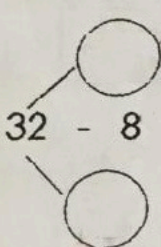
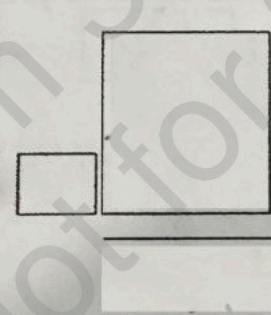
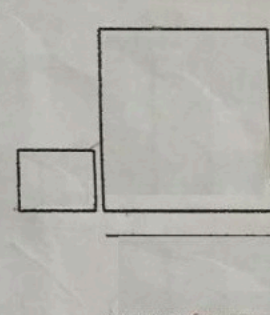
E) 根据分数, 把图形图上颜色。

(4x3%=12%)

 二分之一	 四分之一	 四分之二	 四分之三
---	---	--	---

F) 算一算。

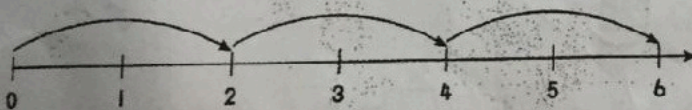
(6x3%=18%)

1 $15 + 8 =$ <input style="width: 80px;" type="text"/> 	2 $17 + 24 =$ <input style="width: 80px;" type="text"/> 	3 $36 + 27 =$ <input style="width: 80px;" type="text"/> 
4 $32 - 8 =$ <input style="width: 80px;" type="text"/> 	5 $56 - 27 =$ <input style="width: 80px;" type="text"/> 	6 $91 - 19 =$ <input style="width: 80px;" type="text"/> 

G) 根据图片, 写出连加法算式。

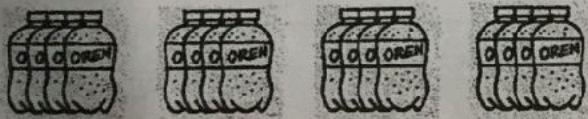
(2x3%=6%)

例:

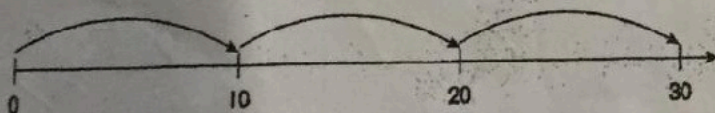


$2 + 2 + 2 = 6$

1.

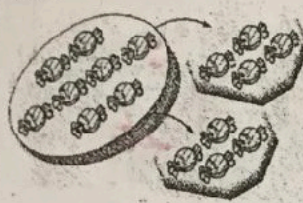
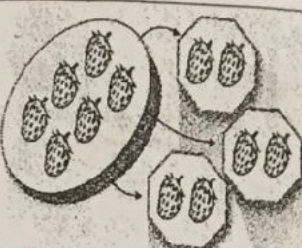
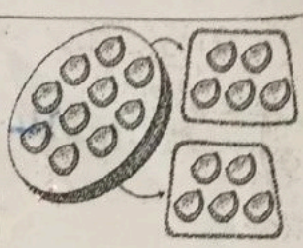


2.



根据图片，写出连减法算式。

(2x3%=6%)

<p>例：</p>  $\begin{array}{r} 8 \\ - 4 \\ \hline 4 \\ - 4 \\ \hline 0 \end{array}$	 $\begin{array}{r} 6 \\ - \\ \hline \\ - \\ \hline \\ - \\ \hline \end{array}$	 $\begin{array}{r} 10 \\ - \\ \hline \\ - \\ \hline \end{array}$
---	---	--

1) 用以下数目，写出加法和减法算式。

(4x2%=8%)

5

2 3

○	+	○	=	○
○	+	○	=	○
○	-	○	=	○
○	-	○	=	○

1) 解决问题。

(16%)

1. 爸爸卖了 12 个糕点。叔叔比爸爸多卖了 10 个糕点。叔叔共卖了多少个糕点？

(3分)

答：叔叔共卖了 个糕点。

2. 美华买了 23 支蓝笔和 30 支红笔，红笔和蓝笔相差多少支？

(3分)

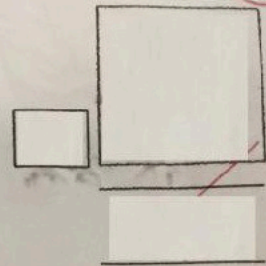
答：红笔和蓝笔相差 支。

3. 丽文和诗婷买了 50 个芦柑, 诗婷拿了 26 个芦柑。

(a) 丽文拿了多少个芦柑?

(3分)

答: 丽文拿了 个芦柑。



(b) 谁拿的芦柑数量比较多?

(1分)

拿的芦柑数量比较多。

4. 家里有 10 瓶果汁, 每个星期喝 2 瓶, 喝完所有果汁要多少个星期?

(3分)

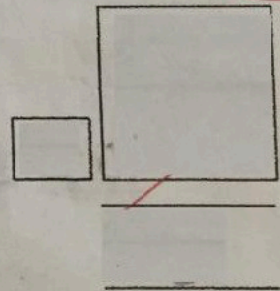
$$\begin{array}{r} 10 \\ - 2 \\ \hline \end{array}$$

答: 要 个星期。

5. 老师借出了 16 本故事书, 还剩下 37 本。老师原有多少本故事书?

(3分)

答: 原有 本故事书。



答案:

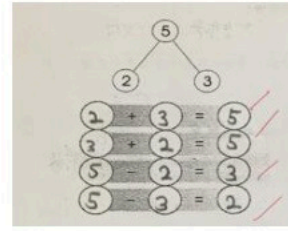
- A) 1.) 74, 七十四
2.) 52, 五十二

- B) 40, 40, 60, 90

- C) 1.) 35
2.) 多
3.) 7
4.) 80
5.) 30

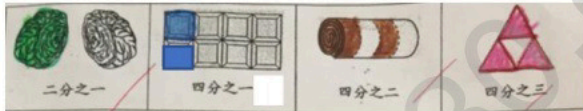
- D) 1.) ✓
2.) ✗
3.) ✓
4.) ✗

I)

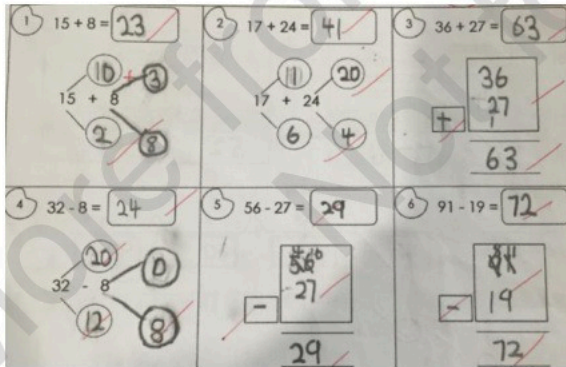


- J) 1.) 22
2.) 7
3.) a) 24, b) 诗婷
4.) 5
5.) 53

E)

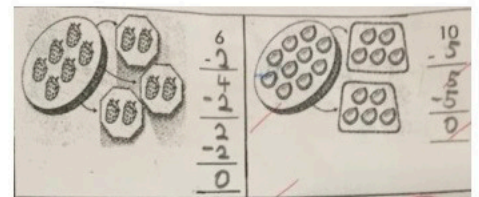


F)



- G) 1.) $4+4+4+4=16$
2.) $10+10+10=30$

H)



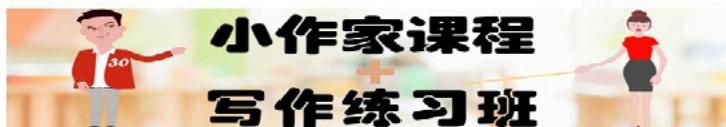
《写作练习班》由华小老师设计, 讲解, 再替你批改作文的写作课程!



点击这里购买完整版: <https://30.com.my/writing>

或者免费注册体验版 <https://30.com.my/writing-trial>

超值配套! 最优惠的价格购买《小作家课程》和《写作练习班》: <https://30.com.my/package>



只需一次付费, 即可使用长达三年! 而且内容会持续更新, 不另加收费!

免费华小网上课程, 报名处: [class.30.com.my](https://www.class.30.com.my)