

亚庇建国中学
2021年初一新生入学试
华文科

- 考生注意：
- 1) 本试卷共分三个部分：
甲组 - 作文 (30%)
备有五个题目，考生只须选择一题作答。答案直接书写于“华文作答纸”的空格上，必须抄题。字数介于 150-200 之间。
乙组 - 简答题 (10%)
阅读以下的文字，然后回答问题。
丙组 - 选择题 (60%)
共有 30 题，每题四个答案供选择，选出最正确的答案，在“华文作答纸”的“O”的空格，涂黑相对应的拉丁字母。
 - 2) 考生可用铅笔、蓝色或黑色的圆珠笔书写作文, 选择题则用 **2B 铅笔**涂黑。
 - 3) 时间：50 分钟。

甲组：作文 30%

任选一题作答，必须抄题。字数介于 150-200 之间。

1. 最美好的礼物
2. 假如我有时光机
3. 谈线上学习的好处
4. 一段令我难忘的经历
5. “.....经过这起事件后，我终于了解到“助人为快乐之本”的道理，尽最大的力量来帮助别人，这样的人生才会过得更有意义。”
试写出一篇以上面文字作为结尾的文章。

乙组：简答题 **10%** 【注：2022年入学试不再考此题型】

遗民泪尽胡尘里，南望王师又一年。

(a) 根据以上的诗句，选出画横线的字正确的解释，在括号内打“√”。 [4分]

(i)

字	解释
遗	被忘记的 ()
	保存下来的 ()
	被留下来的 ()

(ii)

字	解释
望	期盼 ()
	看见 ()
	诚恳地祈求 ()

- 我们在追求 (i: 梦幻, 梦想) 的道路上, 即便遇到 (ii: 挫伤, 挫折), 我也会勇敢地站起来, 一步步向前迈进。
- 心中懒惰的魔鬼总是让我们在做事情时 (iii: 拖延, 拖拉) 时间, 裹足不前, 随着时间一分一秒地 (iv: 长逝, 消逝), 若我们不努力, 一定一事无成。

(b) 请圈出正确的字。 [4分]

(i) (梦幻 , 梦想)

(ii) (挫伤 , 挫折)

(iii) (拖延 , 拖拉)

(iv) (长逝 , 消逝)

学生犯错, 老师不会不分青红皂白地乱骂他们一顿, 她会对学生多番劝告。

(c) 用“就算……也……反而”把上面的句子连接起来。 [2分]

丙组：选择题 **60%**

现代理解文（20%）

【文章一】

每个人的一生都会遭遇许多事，有些是过眼云烟，倏忽即逝；有些是热铁烙肤，记忆长存；有些像是飞鸟掠过天边，渐去渐远。而有一些事，却像夏日的小河、冬天的落叶，像春花，也像秋草；似无所见，又非视而不见——童年的许多细碎事物，大体如此，不去想，什么都没有，一旦思想起，便历历如绘。

纸船是其中之一。我曾经有过许多纸船，在童年的无三尺浪的檐下水道航行，使我幼时的雨天时光，特别显得亮丽充实，让人眷恋。

那时，我们住的是低矮简陋的农舍，檐下无排水沟，庭院未铺柏油，一下雨，便泥泞不堪。屋顶上的雨水滴落下来，却理直气壮地在檐下汇成一道水流，水流因雨势而定，或急或缓，或大或小。我们在水道上放纸船游戏，花色斑杂者，形态怪异者，气派俨然者，甫经下水即遭沉没者，各色各样的纸船或列队而出，或千里单骑，或比肩齐步，或互相追逐，或者干脆是曹操的战舰——首尾相连。形形色色，蔚为壮观。我们所得到的，是真正的快乐。

这些纸船都是有感情的，因为它们大都出自母亲的巧思和那双粗糙不堪、结着厚茧的手。母亲折纸船给孩子，让孩子在雨天里也有笑声，这种美丽的感情要到年事稍长后才能体会出来，也许那雨一下就是十天半月，农作物都有被淋坏、被淹死的可能，母亲心里正挂记这些事，烦乱忧愁不堪，但她仍然平静和气地为孩子折船，折成比别的孩子所拥有的还要漂亮的纸船，好让孩子高兴。

童年旧事，历历在目，而今早已年过而立，自然不再是涎着脸要求母亲折纸船的年纪。只盼望自己能以母亲的心情，为子女折出一艘艘未必漂亮但却坚强的、禁得住风雨的船，如此，便不致愧对纸船了。

（《纸船印象》洪醒夫）

1. “屋顶上的雨水滴落下来，却理直气壮地在檐下汇成一道水流”

上文中“理直气壮”指的是什么意思？

- A 水势汹涌，令人心惊胆战。
- B 母亲为孩子折出气势壮阔的纸船。
- C 作者在屋檐下玩纸船是理所当然。
- D 雨水顺着形势滴落，自然形成水流。

2. 作者认为“这些纸船都是有感情的”最主要的因素是什么？

- A 纸船是出自妈妈的巧手。
- B 纸船经得住风雨的吹袭。
- C 纸船折得特别漂亮，令人眷恋。
- D 纸船可以带我们进入想象空间。

3. “只盼望自己能以母亲的心情，为子女折出一艘艘未必漂亮但却坚强的、禁得住风雨的船”？

作者对子女有什么期待？

- A 能够光宗耀祖
- B 懂得感恩和惜福。
- C 承受生活中种种挫折和磨炼。
- D 鼓励孩子读万卷书，行万里路。

4. “那双粗糙不堪、结着厚茧的手”指的是？

- A 因为忙农作
- B 没有巧手哪来巧思
- C 母亲一生为家劳苦奉献
- D 母亲折纸船技巧一定不好

5. 作者藉回忆儿时往事中的纸船印象，想要表达什么情感？

- A 赞美母亲的手艺
- B 借此发扬童玩艺术
- C 寄寓对母爱的感念
- D 赞叹自己所折的纸船

【文章二】

她是个不幸的孩子，19岁那年，正当步入人生花季和芭蕾舞生涯巅峰之际，却意外地发觉自己双眼模糊。医生检查后，诊断为视网膜脱落。

经过家人的劝说，她接受了手术，可是她仍然无法恢复正常视力。医生建议她卧床一年，并叮嘱她不能练习抬腿和绷脚尖，不能扭头，同时需要控制脸部表情，才能达到调养效果。

她心急如焚，跳芭蕾舞的人都知道：芭蕾舞要天天练习，不然就会生疏。她明白一年不练习，在芭蕾艺术里等待她的是一条死亡之路。

她苦苦哀求，丈夫只得辞去工作，陪伴在她身边。每天，她让丈夫的手指替代脚尖，在自己的胳膊上表演古典芭蕾剧目。一天又一天，一月又一月，虽然不曾舞蹈，但她内心那份感觉却真实地存在。

一年以后，她重新登上舞台，一下子就找到了久违的自己。她手持纱巾，翩翩起舞，尽情地演出了《吉赛尔》《天鹅湖》《胡桃夹子》《海盗》《卡门》等经典芭蕾舞剧。凭着精湛的舞技，她获得了鲜花和掌声，受到人们的好评。

表演事业蒸蒸日上，可视力却一天天衰弱。丈夫劝说她放弃芭蕾舞，可倔强的她又选择了双人舞，因为在双人舞舞段中，一般规则是由男演员来引导女演员。在舞台上，她的舞伴都是精确定位，引导着她婀娜多姿的舞步，而台下的观众根本不会觉察到舞台上的她视力有问题。

功夫不负有心人，她用自己的坚持和激情燃烧了半个世纪，她呕心沥血打造出的古巴国家芭蕾舞团，成为了世界十大顶尖芭蕾舞团之一。她就是赫赫有名的阿隆索！2010年7月9日，这位著名古典芭蕾舞演员获得了西班牙巴勃罗艺术大奖。

当媒体曝光她“双目失明”事实时，她再度成了人们心目中的奇人。每当记者好奇地追问“为什么双目失明还能取得如此佳绩？”阿隆索总会淡淡一笑：“不给自己任何借口，将‘借口’踩在脚下，翩翩起舞，也就一路走到了今天……”

不给自己任何借口！一个人如果能秉持这种信念，就能斩断后路，不断超越自己，收获属于自己的成功。

（《不给自己任何借口》，有改动）

6. 为什么阿隆索需要卧床一年？

- A 她无法自行走动
B 她的双腿受伤了
C 以达到好的调养效果
D 调养身子以准备接受手术

7. 根据文中第二段，哪项是医生给阿隆索的建议？

- A 扭头
B 练习抬腿
C 练习绷脚尖
D 控制脸部表情

“她明白一年不练习，在芭蕾艺术里等待她的是一条死亡之路。”

8. 上面这个句子的意思是什么？

- A 她正在等待死亡的到来。
B 在一年之内，她不想练习芭蕾。
C 如果一年不练习，等待她的便是死亡。
D 如果她一年不练习，芭蕾生涯将会结束。

9. 从文章第四段可看出阿隆索的丈夫是个怎样的人？

- A 对妻子关爱备至
B 喜爱观看芭蕾舞剧
C 善于表演古典芭蕾舞剧
D 喜欢用手指表演芭蕾舞剧

10. 阿隆索有什么值得我们学习的精神？

- A 好学心强
B 尊重他人
C 坚持不懈
D 虚心学习

语文知识 (40%)

11. 以下哪个字的笔画数不正确?

- A 卑 (8画) B 鲁 (12画) C 奢 (11画) D 觅 (9画)

12. 以下哪项是不正确的?

	字	构词	
A	竭	衰竭	枯竭
C	暇	闲暇	遐想

	字	构词	
B	遣	消遣	遣送
D	彻	彻底	贯彻

“他知道，唯有移植角膜，他才能重见光明。”

13. 哪项的“重”字与以上句子的“重”的读音相同?

- A 重点 B 重复 C 体重 D 尊重

14. “星城广场将于9月15日 (P) 星期六 (Q) 早上10时在广场中央举办 (R) 为爱延续 (S) 捐血活动，希望民众踊跃参与。”

P、Q、R和S应分别填上什么标点符号?

	P	Q	R	S
A	()	—	,
C	()	“	”

	P	Q	R	S
B	“	”	《	》
D	“	”	()

15. 哪个句子的标点符号用得正确?

- A 他是我心中的巨人——父亲。
 B “其实。你。”哥哥不知如何开口。
 C 阿姨和姨丈即将搭乘印尼.....新加坡的班机。
 D 嘉尔每天都一定会抽空做体操.....散步.....跑步.....

16. “地球终于怒吼了，一场暴风雨将海里的垃圾都卷到了岸上，对人类发出了警告。”
 以上句子采用了什么修辞手法?

- A 比拟 B 夸张 C 引用 D 反问

“这本书比千斤大铁锤还重，即使我用尽全身的力气也拿不起来。”

17. 哪项应用的修辞手法与以上句子的相同?

- A 片片雪花从空中飘落，轻盈如雪白的羽毛。
 B 学如逆水行舟，如果不努力学习，就会落在人后。
 C 表姐这一身简朴的打扮，真像一朵高雅、清纯的百合花。
 D 考场里一片寂静，我可以清楚地听见自己“砰砰砰”的心跳声。

18. “那两位象棋宗师所下的那盘棋乃是经典之作，其布局谋略都出人意表，让人叹为观止。”
 以上画线的词语的词性是什么?

- A 量词 B 代词 C 名词 D 动词

19. “儿女们长大就得学会如何料理自己的生活，我们身为家长的就不要再为他们操心了。”
 以上画线的部分，哪个不是动词?

- A 长大 B 料理 C 家长 D 操心

“比赛结束后，没想到主办方所公布的成绩却令人大跌眼镜。”

20. “大跌眼镜”指的是什么?

- A 感到满意 B 很不公平 C 出乎意料 D 令人怀疑

21. “经过一_____整修，这栋房子变得_____然一新，让屋主感到心花怒放。”
哪项最适合填在句子的横线上？
A 番，焕 B 番，换 C 翻，幻 D 翻，唤
22. “教师节当天，班长把鲜花_____给林老师，以感谢他孜孜不倦地教导我们。”
哪项填在句子的横线上最合适？
A 呈现 B 呈献 C 呈报 D 呈交
23. “一旦人民团结一致，国家必能繁荣兴旺。”
哪项是“兴旺”的同义词？
A 昌荣 B 腐蚀 C 凋零 D 萧条
24. “如果自己不长进，_____别人多次劝导，恐怕_____无济于事。”
哪项最适合填在句子的横线上？
A 假如……就 B 只要……就 C 即便……也 D 因为……也
25. 以下哪个搭配是不正确的？
A 唉，今天真累啊！（感叹句） B 麻烦你先戴上口罩。（陈述句）
C 请你们立刻离开！（祈使句） D 请问你有洗手了吗？（疑问句）
26. “工作没了，母亲又病重，加上入不敷出，伟健成天哭丧着脸，不知该如何是好。”
哪项用来形容伟健的心情最合适？
A 一筹莫展 B 无声无息 C 心惊胆战 D 忧国忧民
27. “子怡在游泳项目的记录已是全校最快的，但他依然保持谦虚的态度，毫不松懈地勤奋练习，希望达到_____的地步。”
哪项最适合填在横线上？
A 冲锋陷阵 B 登峰造极 C 引人入胜 D 乘风破浪
28. “所谓：‘_____’，哥哥为了提高自身学识而报读进修班。”
哪项填在句子的横线上最合适？
A 不知天高地厚 B 一日之计在于晨
C 水可载舟，亦可覆舟 D 欲穷千里目，更上一层楼
- “你别忽视这点小差错，要知道若不及时纠正，小错误也能导致大灾害呢！”
29. 哪项熟语与句子中画线的部分意思相近？
A 智者千虑，必有一失 B 差之毫厘，谬以千里
C 学而不厌，诲人不倦 D 物极则反，器满则倾
30. 哪个句子没有错别字？
A 弟弟向来不擅言谈，也不喜欢与人沟通。
B 他好逮也是你的长辈，你怎么能恶言相向呢？
C 我被刚经过的车子贱了一身污水，显得狼狈不堪。
D 俊伟自小就热爱运动，对国内外的体坛动态格外关注。

**UJIAN KEMASUKAN
TINGKATAN SATU TAHUN 2021
SEKOLAH MENENGAH KIAN KOK
BAHASA MALAYSIA
(50 MINIT)**

Bahagian A: Objektif (60 markah)

ARAHAN: Tiap-tiap soalan diikuti oleh empat jawapan pilihan, iaitu A, B, C dan D. Jawab semua soalan. Anda dikehendaki memilih **satu jawapan** yang paling tepat. Kemudian tandakan jawapan anda dengan menghitamkan ruangan pada kertas jawapan.

Soalan 1 hingga soalan 5

Baca petikan di bawah, kemudian jawab soalan-soalan yang berikutnya.

Orang yang paling saya sayang ialah ibu. Nama ibu saya ialah Diana binti Nordin. Ibu dilahirkan pada tahun 1966. Ibu saya sangat tabah dan kuat semangat. Semenjak ketiadaan ayah, ibu bekerja keras membesarkan kami.

Ibu sering membawa saya dan keluarga melancong sewaktu cuti sekolah. Tempat-tempat yang pernah kami kunjungi ialah Pulau Langkawi, Tanah Tinggi Cameron dan banyak lagi. Saya dan keluarga juga selalu pulang ke kampung ibu di Perak, lebih-lebih lagi pada waktu cuti panjang.

Ibu amat meminati dan berbakat dalam bidang masakan. Pelbagai kejayaan pernah diperoleh ibu hasil daripada minat dan kebolehannya itu. Kini, ibu sudah mempunyai syarikat sendiri. Ibu menjalankan perniagaan menjual roti dan kek. Perniagaan ibu sangat maju. Kami berbangga dengan kejayaan ibu.

Ibu juga bercita-cita besar. Ibu ingin meluaskan pasaran perniagaannya ke luar negara pada suatu hari nanti. Saya berharap agar cita-cita ibu akan tercapai. Kini, cita-cita ibu hampir menjadi kenyataan. Kek dan roti keluaran syarikat ibu sudah mula dipasarkan ke Singapura. Mungkin berkat kesabaran dan kesungguhan ibu yang tidak pernah kenal erti putus asa.

Terima kasih saya ucapkan kepada ibu tersayang atas segala pengorbanannya. Segala jasa, kasih sayang dan dorongan ibu selama ini amatlah saya hargai. Saya berdoa semoga ibu akan terus menyayangi kami sekeluarga. Saya akan memastikan impian ibu untuk melihat saya mendapat keputusan yang cemerlang dalam UPSR akan menjadi kenyataan.

1. Pada tahun 2020, ibu berumur _____.

- A. 54 tahun B. 56 tahun C. 64 tahun D. 66 tahun

2. Ibu digambarkan oleh penulis sebagai seorang yang _____.

- A. gagah dan berani C. berjimat cermat dan murah hati
B. cekal dan bersemangat D. penakut dan mudah kecewa

3. Apakah aktiviti-aktiviti yang akan dilakukan oleh penulis bersama dengan ibu dan keluarga pada waktu cuti sekolah?
- A. Memasak dan menjual roti
 - B. Melancong dan membeli-belah
 - C. Memasak dan berkelah di pantai
 - D. Melancong dan pulang ke kampung
4. Penulis menyatakan bahawa harapan ibu hampir menjadi kenyataan kerana _____.
- A. sikap ibu yang mempunyai cita-cita.
 - B. roti dan kek keluaran syarikat ibu sangat sedap.
 - C. ibu sudah berjaya memasarkan roti dan kek ke negara jiran.
 - D. banyak negara sudah mula membeli barangan keluaran syarikat ibu.
5. Pernyataan-pernyataan yang berikut adalah benar, kecuali _____.
- A. Ibu penulis memiliki sebuah syarikat menjual roti dan kek
 - B. Ibu penulis meminati dan berbakat dalam bidang masakan
 - C. Penulis amat menghargai segala pengorbanan ibunya
 - D. Penulis telah mendapat keputusan yang cemerlang dalam UPSR

Soalan 6 hingga soalan 25

Isi tempat kosong dengan jawapan yang paling sesuai.

6. Peserta kem motivasi dibenarkan membawa beg _____ ke bilik penginapan setelah selesai taklimat ringkas.
- A. saya
 - B. kamu
 - C. kalian
 - D. mereka
7. “Adakah _____ sudah sampai?” tanya Encik Aidil kepada urus setia tentang kehadiran Datuk Razif ke majlis perasmian itu.
- A. dia
 - B. kamu
 - C. beliau
 - D. baginda
8. Keadaan mangsa kemalangan itu _____?
- A. bila
 - B. siapa
 - C. berapa
 - D. bagaimana

Soalan 9 berdasarkan gambar di bawah.



9. “_____ harga kubis ini sekilogram?” tanya Puan Emilia kepada peniaga itu.
- A. Bagaimanakah B. Berapakah C. Siapakah D. Apakah
10. “Kita mestilah makan makanan yang berkhasiat dan seimbang mengikut kadar yang diperlukan oleh tubuh badan _____ kita mahu kekal sihat,” kata penceramah.
- A. tetapi B. jika C. atau D. serta
11. Encik Yap sedang membersihkan longkang di tepi rumah _____ isterinya sedang menanam pokok bunga yang cantik.
- A. manakala B. sambil C. kecuali D. namun
12. Beg Mei Kwan lebih besar _____ beg Syafikah.
- A. dari B. daripada C. kepada D. pada
13. “_____, kamu berjaya mengekalkan kejuaraan dalam acara lompat tinggi!” kata Julian kepada Darren.
- A. Cis B. Amboi C. Tahniah D. Wah
14. _____ para penunggang motosikal memakai topi keledar untuk keselamatan.
- A. Minta B. Jangan C. Tolong D. Jemput
15. Pak Cik Daud menggunakan se_____ kapak untuk membelah kayu.
- A. batang B. bilah C. buah D. kaki
16. Ayah menghadiahkan ibu se_____ cincin sempena hari jadinya.
- A. butir B. bentuk C. biji D. bilah

17. Banyak pelancong suka pergi ke Bukit Tinggi kerana dapat _____ udara yang segar.
A. menghidu B. menghirup C. menghisap D. menghembus

Soalan 18 berdasarkan gambar di bawah.



18. Pembantu rumah Datuk Jamal _____ meja makan itu dengan sehelai kain.
A. menyapu B. mengelap C. mengemas D. mengilap
19. Setiap pagi, beberapa orang pengawas akan _____ di pintu pagar utama sekolah.
A. tugas B. petugas C. bertugas D. ditugas
20. Sekumpulan penuntut universiti membuat kajian tentang penduduk yang tinggal di kawasan _____.
A. pendalaman B. kedalaman C. terdalam D. pedalaman
21. “Tanaman yang dijaga dengan baik akan hidup dengan _____,” kata ibu.
A. hijau B. sihat C. subur D. besar
22. Air sungai di belakang rumah mengalir _____ selepas hujan lebat.
A. deras B. kencang C. cepat D. kuat
23. Ayah sukar mengunyah ubi kayu itu kerana belum _____.
A. empuk B. lemau C. lembut D. lembik
24. Pertunjukan pakaian beragam murid tahun satu baru sahaja **habis**.
*Pilih perkataan sinonim bagi **habis**.*
A. tiada B. hilang C. selesai D. berlabuh
25. Aiman telah **lulus** dengan cemerlang dalam peperiksaan baru-baru ini.
*Pilih perkataan antonim bagi **lulus**.*
A. tewas B. gagal C. berjaya D. berhasil

Soalan 26 dan soalan 27

Pilih ayat-ayat yang menggunakan **perkataan bergaris dengan betul**.

26. I. Pak Cik Naim selesa bergaul dengan semua pegawai di situ walaupun dia berpangkat **rendah**.
II. Amirul lebih **rendah** daripada kembarnya Amir, jadi mudah untuk orang lain membezakan kedua-dua orang kembar itu.
III. Mak Cik Siah menggunakan nada suara yang **rendah** ketika berbincang dengan suaminya tentang anak-anak mereka.
IV. Projek pembinaan taman permainan di kawasan perumahan itu masih pada peringkat **rendah** dan belum diputuskan oleh pemaju.
- A. I dan II B. I dan IV C. I, II dan III D. II, III dan IV
27. I. Kapal terbang itu akan berlepas **dalam** pukul 3.00 petang.
II. Kanak-kanak tidak dibenarkan mandi di sungai itu kerana airnya **dalam**.
III. Puan Rozita masih **dalam** keadaan terkejut selepas mendengar berita itu.
IV. Akil mengutip sampah itu lalu memasukkannya ke **dalam** tong sampah.
- A. I, II dan III B. I, II dan IV C. I, III dan IV D. II, III dan IV

Soalan 28 hingga soalan 30

Pilih ayat yang **betul**.

28. A. Hisyam murid yang paling terlaju berlari di dalam kelasnya.
B. Di waktu pagi, Suraya menyiram pokok bunga di halaman rumahnya.
C. Suasana di pasar riuh-rendah dengan suara penjual dan pembeli.
D. Malik menaiki pokok jambu batu bersama kawan-kawannya.
29. I. Keluarga saya penginapan di sebuah hotel semasa bercuti di Pulau Langkawi.
II. Setengah murid membawa bekal makanan dari rumah.
III. Hujan lebat menyebabkan Kuala Lumpur dilanda banjir kilat.
IV. Perlawanan bola sepak terpaksa ditunda kepada minggu hadapan.
- A. I dan II B. I, dan III C. II dan III D. III dan IV
30. Pilih ayat yang **sama maksud** dengan ayat yang diberikan.
- Sikap buruk sikunya itu menyebabkan dia dibenci oleh rakan-rakannya yang lain.
- A. Dia dibenci oleh rakan-rakannya yang lain kerana sikap buruk sikunya itu.
B. Disebabkan dia dibenci oleh rakan-rakannya yang lain, dia menjadi buruk siku.
C. Rakan-rakannya yang lain dibenci menyebabkan sikap buruk sikunya.
D. Sikap buruk sikunya itu disebabkan oleh dia membenci rakan-rakannya yang lain.

Bahagian B: Isi Tempat Kosong (10 markah)

ARAHAN: Pilih perkataan yang **paling sesuai** untuk diisi pada tempat kosong dalam petikan yang diberi. Anda dikehendaki memilih **satu jawapan** yang paling tepat. Kemudian tuliskan jawapan anda pada kertas jawapan.

menyapu	meletakkan	membonceng	memimpin
menerima	menjalankan	menunggang	menyusun

Setiap pagi, Syaza akan ____ (1) ____ basikalnya ke sekolah. Apabila sampai di sekolah, Syaza akan ____ (2) ____ basikalnya di tempat letak basikal yang telah disediakan. Kemudian, Syaza terus bergegas ke kelasnya untuk ____ (3) ____ tugas yang telah ditetapkan dalam jadual tugas harian kelasnya. Syaza dan rakan-rakannya setugasnya akan bersama-sama bertugas ____ (4) ____ kerusi dan meja yang terdapat di dalam kelasnya. Rakan-rakannya yang lain menjalankan tugas ____ (5) ____ sampah agar kelas kelihatan bersih.

BAHAGIAN C: Karangan (30 markah)

Pilih **satu** tajuk daripada soalan-soalan berikut dan tulis satu karangan yang panjangnya **melebihi 80 patah perkataan**.

Soalan 1

Kamu dan keluarga telah pergi berkelah pada cuti hujung minggu yang lalu. **Ceritakan pengalaman kamu berkelah** bersama dengan keluarga.

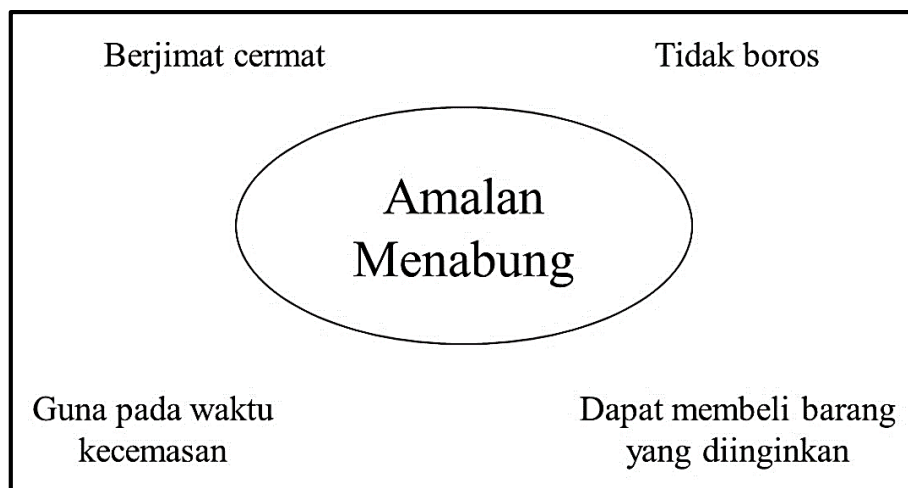
Tulis karangan itu selengkapnya.

- berkelah – Pantai Tanjung Aru – bertolak – pemandangan indah - ramai orang – berenang – membina istana pasir – mengambil gambar – kenangan – pulang

ATAU

Soalan 2

Lihat gambar di bawah dengan teliti. Tulis sebuah karangan tentang **kebaikan amalan menabung**.



独中初一

赶快来体验吧!








不满意不收费!





想要询问其他年级或更多有关免费试课的详情，欢迎联络我们(011-2818 3030)哟!
https://wa.link/l1h4e2?utm_medium=pdf&utm_source=pdf_ad&utm_campaign=cis_entrance_exam







30网校 buxi



如果这些考卷帮到您，


希望您也可以与我们分享所持有的考卷。





不管是入学考卷，还是其他年级的考卷，

我们都无任欢迎哦!



如果您有试卷想要提供，欢迎私信我们的面子书专页【30网校】，或者电邮至：hi@30.com.my

KIAN KOK MIDDLE SCHOOL
JUNIOR ONE ENTRANCE EXAM 2021
ENGLISH
(TIME: 50 MINUTES)

INSTRUCTIONS

You must answer all the questions in section A, B, C and D. Write your answers on the answer sheets provided.

SECTION A (COMPREHENSION) 20%

PASSAGE 1 (Q1-Q5)

Read the passage carefully and then answer the questions that follow. Your answers must be based on the passage.

Last week, my friends and I went on a camping trip. We were very excited as it was our first camping experience. Our teachers, Mr. Ganesh and Mr. Tan, accompanied us.

We learnt a lot during the trip. Mr. Tan taught us how to pitch our tents. Mr. Ganesh guided us to make a campfire. We then cooked a delicious meal together.

That night, Mr. Ganesh played his guitar and we had fun singing together. We sat around the campfire and Mr. Tan told us scary ghost stories. Chills went up my spine as I listened to his stories, but I tried to be brave.

The next morning, we had an early breakfast. After that, we decided to swim in the waterfall before we left the place. After an hour in the water, we headed home. It was a wonderful experience and we look forward to going camping again.

1. Why was the writer excited?
 - A. It was his first camping trip.
 - B. He was going for a swimming lesson.
 - C. He was going to learn about how to cook.
 - D. He was going to meet his classmates.

2. What did the writer learn during the trip?
 - A. How to swim.
 - B. How to play the guitar.
 - C. How to make a campfire.
 - D. How to cook a delicious meal.

3. How did the writer feel when he listened to the horror stories?
 - A. Brave
 - B. Happy
 - C. Pleased
 - D. Frightened

4. According to the passage, the writer did not _____.
 - A. set up the tent
 - B. play the guitar
 - C. swim in the waterfall
 - D. listen to horror stories

5. What is the most suitable title for the passage above?
 - A. First Camping Trip
 - B. Our Favourite Teacher
 - C. Mr. Tan's Horror Stories
 - D. Swimming in the Waterfall

PASSAGE 2 (Q6-Q10)

Read the passage carefully. Then answer the questions that follow.

One evening, while Anusha was walking home from the library, she saw a girl crying by the roadside. Anusha stopped and went near the girl.

“What’s wrong?” she asked. The girl looked up while her hands were holding her right foot. Tears were running down her cheeks.

Anusha asked, “Are you alright? Just tell me what had happened?”

“It’s my leg. I cut myself after stepping on a piece of broken glass. It’s very painful,” she said, still sobbing.

Anusha **checked** the girl’s foot and said, “Don’t worry, it’s nothing serious. It’s just a small cut. After this, you had better put on thicker slippers or shoes. You must always watch your step. Please stay here. I will inform your mum and dad to pick you up.”

“That’s very kind of you,” said the girl.

“Oh, don’t mention it,” said Anusha.

6. Anusha stopped walking because _____.
- | | |
|------------------------------|-------------------------------|
| A. she was tired. | B. someone stopped her. |
| C. she heard someone crying. | D. she was looking for a boy. |
7. Anusha saw that the girl’s _____.
- | | |
|-------------------------|--------------------------------|
| A. hands were hurt. | B. foot was broken. |
| C. eyes were sparkling. | D. cheeks were wet with tears. |
8. Why was the girl crying?
- | | |
|---------------------------|--------------------------------|
| A. Anusha frightened her. | B. She had cut her foot. |
| C. She lost her slippers. | D. Anusha stepped on her foot. |
9. The word **checked** in the passage can best be replaced with _____.
- | | |
|-------------|-----------------|
| A. treated | B. changed |
| C. examined | D. experimented |
10. From the passage we know that Anusha is a _____ girl.
- | | |
|------------|-------------|
| A. kind | B. generous |
| C. selfish | D. diligent |

SECTION B (TEXT COMPLETION) 30%

Text 1 Q11-Q18

11 Saturday, I walk to the library. I always walk 12 with my best friend. She likes to go with me. We 13 always find good books to read. We 14 our library cards to check out the books. Today, I want to find a book about 15 island village. My friend said she 16 not know 17 book she will get but she will find one that is interesting. 18 likes to browse all the books and then picks one to check out.

- | | | | |
|-----|----------|-----------|----------|
| 11. | A. Every | B. Before | C. After |
| 12. | A. here | B. there | C. in |
| 13. | A. might | B. should | C. can |
| 14. | A. used | B. use | C. using |
| 15. | A. the | B. a | C. an |
| 16. | A. does | B. did | C. do |
| 17. | A. whose | B. which | C. why |
| 18. | A. They | B. We | C. She |

TEXT 2 (Q19- 25)

It was a windy day and 19 wanted to fly my new kite. I went to the park to fly my kite and I asked my friend to 20 with me. My friend said he could bring 21 kite too! There 22 some other people 23 the park. 24 watched us fly our kites. We had to run holding the string and then our kites went up, up, up in the sky! My friend's kite 25 as high as mine. I knew it was going to be a great day.

- | | | | |
|-----|-----------|-----------|----------|
| 19. | A. they | B. he | C. I |
| 20. | A. went | B. go | C. going |
| 21. | A. his | B. him | C. he |
| 22. | A. were | B. was | C. are |
| 23. | A. inside | B. beside | C. at |
| 24. | A. They | B. He | C. She |
| 25. | A. flies | B. flew | C. flown |

SECTION C (INFORMATION TRANSFER) 20%

PICTURE 1 (Q1-Q6)

Study the pictures below and use the information to complete the sentences.

Transition @ TCC
FAMILY FUN DAY

We invite you to our 1st fun-filled activity day
on
Saturday Oct 12th - 10am to 2pm
Free activities for all in the family, including

Puppet Theatre
Arts & Crafts
Cup-cake decorating
Cooking sessions
Hair & Beauty
Fun & Fitness

Come along, try our taster sessions, enjoy a hotdog and meet our team.
If interested, please contact the
Community room at Tonypandy Community
College on 436171

1. There is going to be a Family Fun Day at Transition @ TCC on _____, 12th October from 10 a.m. to 2 p.m.
2. If you enjoy healthy activities, you can go to _____ booth.
3. There is also _____ booth for children to watch a short play.
4. If you like to know more about fashion, you can go to _____ booth.
5. If you are interested in joining the Family Fun Day, you can contact _____ at Tonypandy Community College on 436171.

PICTURE 2 (Q6-10)

Study the information below and complete the following sentences.

Raaj Briyani Restaurant

- Indian Cuisine
- Spicy and tasty
- RM 20.00 per set
- Prepared by Chef Raja from India
- Special hot drinks: Spiced tea and herbs coffee
- Parking at RM 1.00 per hour



Vicky's Restaurant




- Western Cuisine
- Creamy and delicious
- RM 25.00 per set
- Prepared by Chef Vickee from Australia
- Sweet fruit drinks: orange and watermelon juice
- Free parking



6. Chef Raja works in _____ Restaurant.
7. _____ cuisine is creamy and delicious.
8. Special hot drinks that will be served in Raaj Briyani Restaurant are _____ and _____.
9. If you are a customer of _____, the parking will be free of charge.
10. In conclusion, the price for a set of meal in Raaj Briyani Restaurant is _____ than Vicky's Restaurant.

SECTION D (COMPOSITION) 30%

Look at the pictures given below. Write a composition of **about 80-120 words** on the answer sheet provided. Use all the **helping words** given.



When writing your **essay**,

- use the words or phrases provided.
- elaborate on your writing.
- you may add other relevant information.
- make your composition interesting and give it a **title**.

END OF QUESTION PAPER

亚庇建国中学 2021 年初一新生入学考试
KIAN KOK MIDDLE SCHOOL
JUNIOR ONE ENTRANCE EXAMINATION 2021
数学科 (时间: 50 分钟)
MATHEMATICS (TIME: 50 MINUTES)

作答说明 INSTRUCTIONS

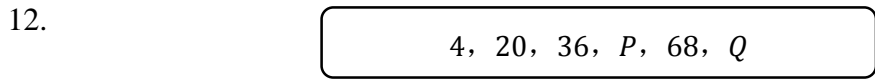
1. 甲组-选择题: 25 题全做。选出正确答案, 并用 2B 铅笔在答案卷上将对应的字母涂黑。
Answer all 25 questions in Section A. Darken the correct answer for each question on your answer sheet.
2. 乙组-作答题: 5 题全做。在答案卷所提供的空白处作答。所有演算步骤必须清楚写出。
Answer all 5 questions in Section B. Write your answer on the answer sheet. Show the mathematical working clearly.

甲组: 选择题 $25 \times 3\% = 75\%$

Section A: Objective questions $25 \times 3\% = 75\%$

1. 计算 15 至 25 之间所有质数的和。
Calculate the sum of the prime numbers between 15 and 25.
A. 56 B. 59 C. 60 D. 80
2. 计算 49、91、338 和 633 的平均数。
Calculate the mean of 49, 91, 338 and 633.
A. 277.25 B. 277.75 C. 280.25 D. 280.52
3. 【 】 $\div (32 + 278) = 9$
在【 】里必须填入什么数目?
Which number must be written in the 【 】?
A. 344 B. 2480 C. 2700 D. 2790
4. $13 + 267 \times 8 =$
A. 2129 B. 2136 C. 2149 D. 2240
5. 将 $56789 - 8041 \div 11$ 的答案写成千位的近似值。
Round off the answer of $56789 - 8041 \div 11$ to the nearest thousand.
A. 4 000 B. 4 430 C. 56 000 D. 56 058
6. $3\ell 85m\ell - 0.765\ell + 432m\ell = ?$
A. 2 750 mℓ B. 2 752 mℓ C. 3 349 mℓ D. 3 418 mℓ
7. 把 5.009 化为分数。
Express 5.009 as a fraction.
A. $5\frac{9}{10}$ B. $5\frac{9}{100}$ C. $5\frac{9}{1000}$ D. $5\frac{9}{10000}$

8. 假如 $8 \times 16.19 = 129.52$, 那么 $800 \times 16.19 = ?$
 If $8 \times 16.19 = 129.52$, then $800 \times 16.19 = ?$
- A. 129520 B. 12960 C. 12952 D. 1295.2
9. 在下列数目中, 哪一个 7 的数值最大?
 Which of the following numbers has the greatest digit value of 7?
- A. 7111 B. 9799 C. 10679 D. 11497
10. 7 小时 20 分钟 $\times 6 =$ _____ 小时
 7 hours 20 minutes $\times 6 =$ _____ hours
- A. 44 B. 46 C. 60 D. 2640
11. 求 10 至 20 之间的奇数之和。
 Find the sum of the odd numbers between 10 and 20.
- A. 56 B. 60 C. 64 D. 75

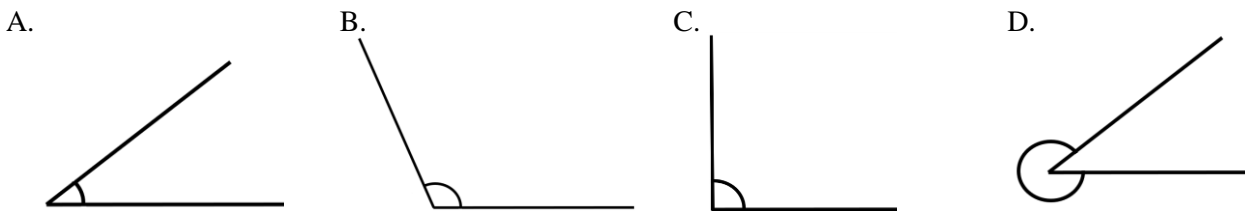


图一
Diagram 1

图 1 显示一条数列。数目 P 和 Q 没有显示出来。 $P + Q = ?$
 Diagram 1 shows a group of number sequence, the number P and Q are not shown. $P + Q = ?$

- A. 105 B. 128 C. 132 D. 136
13. $\blacksquare \blacksquare \blacksquare + \triangle \triangle \triangle \triangle = 44$
 $\blacksquare \blacksquare \blacksquare + \triangle \triangle \triangle \triangle \triangle = 49$
 $\triangle = ?$
- A. 3 B. 5 C. 6 D. 8

14. 以下哪个角可能是 110° ?
 Which of the following angles is possibly 110° ?



15. 五个数字的平均数为 9。若其中四个数字是 4, 5, 9 和 11, 请问第五个数字是 _____
 The average of five numbers is 9. What is the fifth number if four of the numbers are 4, 5, 9 and 11?
- A. 6 B. 8 C. 10 D. 16

16. 象棋学会的男生和女生会员人数的比是 3:4。男生比女生少14人。计算象棋学会的会员人数。
The ratio of the number of boys and girls in Chess Club is 3:4. Boys is 14 less than girls. Calculate the total number of Chess club members.

A. 56 B. 65 C. 78 D. 98

17. 图 2 显示一条数轴。
找出 $N - M \times 2$ 的值。

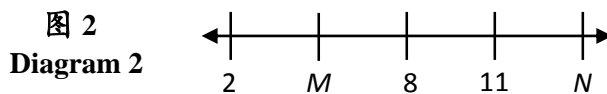


Diagram 2 shows a number line.
Find the value of $N - M \times 2$.

A. 4 B. 8 C. 10 D. 18

18. 麦克今年 12 岁，7 年前妈妈的年龄是麦克的 6 倍，爸爸的年龄比妈妈大 4 岁。
问爸爸今年多少岁？

Mike is 12 years old this year. Seven years ago, his mother's age was six times of Mike. His father's age is 4 years older than his mother. How old is Mike's father this year?

A. 41 B. 42 C. 43 D. 44

19. 从 2019 年 12 月 25 日到 2020 年 3 月 10 日，共有几天？
How many days are there starting from December 25, 2019 till March 10, 2020?

A. 75 B. 76 C. 77 D. 78

20. 一篮芒果和一篮桃子的质量分别是 2.9 kg 和 $1\frac{7}{10}$ kg。计算相同的 6 个篮子的芒果和 5 篮桃子的总质量。

The masses of a basket of mangoes and a basket of peaches are 2.9 kg and $1\frac{7}{10}$ kg respectively. Calculate the total mass of 6 baskets of mangoes and 5 baskets of peaches.

A. 3 kg 500 g B. 25 kg 90 g C. 25 kg 900 g D. 28 kg 600 g

21. 在一栋建筑物里有 25 个房间。每个房间内有两扇窗口和一盏灯。昨天晚上，共有 20 扇窗口是亮着的。请问共有多少个房间没有开灯？

There are 25 rooms in a building. Each room has two windows and one light. Last night, 20 windows were lighted. How many rooms were there with the light off?

A. 5 B. 10 C. 12 D. 15

22. 图 3 显示一张白纸和一张贴纸的边长。

Diagram 3 shows the measurement of a piece of white paper and sticker.

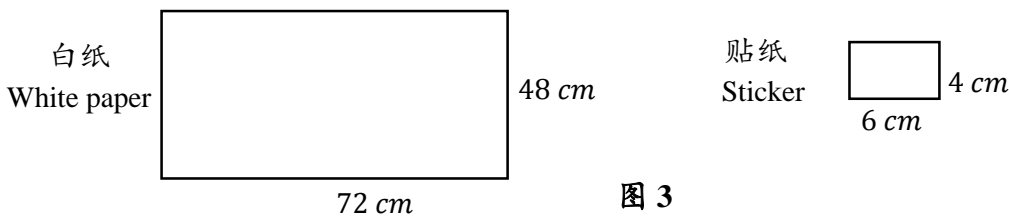


图 3
Diagram 3

如果要把这张白纸贴满贴纸，共需要多少张贴纸？
How many stickers are needed to cover the whole page of white paper?

A. 144 B. 132 C. 124 D. 120

23. 图 4 显示连接 P, Q 及 R 三地的道路。
 从 P 经 Q 至 R 的距离是 840 km。
 已知 Q 至 R 的距离是 P 至 Q 的 5 倍。
 计算 P 至 Q 的距离, 答案以 km 表示。

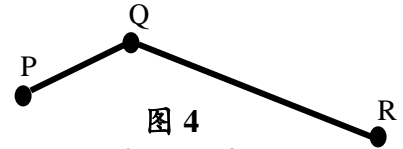


图 4
Diagram 4

Diagram 4 shows a road connecting three places, P, Q and R.
 The distance from P to R passing through Q is 840 km.
 Given the distance from Q to R is 5 times the distance from P to Q.
 What is the distance, in km, from P to Q?

- A. 140 B. 168 C. 700 D. 4 200

24. 图 5 的笛卡尔平面显示四个地区的坐标。
 哪个地区的位置是 (7, 5)?

The Cartesian plane in Diagram 5 shows coordinates of four locations. Which location is located at (7, 5)?

- A. V B. U
 C. T D. S

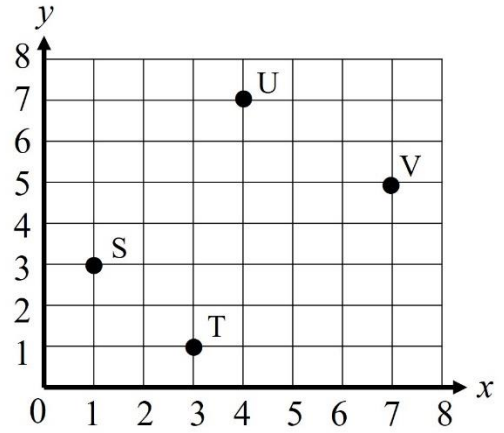


图 5
Diagram 5

25. 图 6 显示立方体 P 及长方体 Q。
 以 cm^3 为单位计算综合立体的体积。

Diagram 6 shows a cube P and a cuboid Q.
 Calculate the total volume of the composite solid, in cm^3 .

- A. 128 B. 192
 C. 256 D. 320

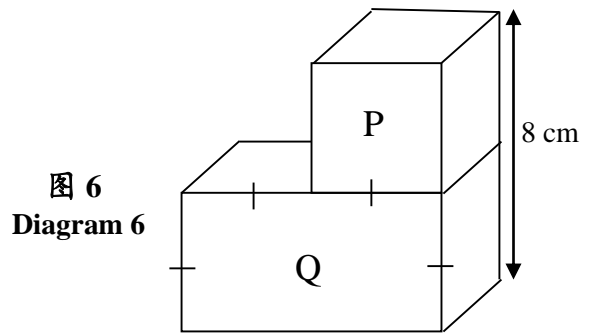


图 6
Diagram 6

乙组：作答题 $5 \times 5\% = 25\%$

Section B: Subjective questions $5 \times 5\% = 25\%$

乙组	
Section B	25

1. 计算 $[82 + 28 \div (25 - 6 \times 3)] \div 2$ 。

Calculate $[82 + 28 \div (25 - 6 \times 3)] \div 2$.

答案 / Answer:

	5

2. 计算： $5\frac{1}{2} - \left[2 - \left(3 - 1\frac{3}{10}\right)\right]$ ，并以小数表示答案。

Calculate: $5\frac{1}{2} - \left[2 - \left(3 - 1\frac{3}{10}\right)\right]$, express the answer as a decimal.

答案 / Answer:

	5

3. 雪仁有一本 300 页的书。她在星期一阅读总页数的 $\frac{2}{5}$ ，星期二则阅读了剩余页数的 $\frac{1}{4}$ 。请问她还剩多少页的书没读完？

Sharon has a book which has 300 pages. She read $\frac{2}{5}$ of the total number of pages on Monday. On Tuesday, she read $\frac{1}{4}$ of the remaining pages. How many more pages were left for Sharon to read?

答案 / Answer:

	5

4. 以下表格显示一个箱子里三种颜色的气球数量。

The following table shows the amount of three colours of balloons in a box.

颜色 Colour	红色 Red	紫色 Purple	黄色 Yellow
数量 Amount	1600	红色的 40% 40% of Red	紫色的三倍 3 times of Purple

计算这个箱子里共有多少个气球。

Calculate the total number of balloons in the box.

5. 图 7 显示一个综合图形，它是由长方形 STVW 与三角形 TUV 所组成的。WVU 是一条直线及 $WV=2VU$ 。全图的周长是 48 cm。找出 SW 的长度，答案以 cm 表示。
- Diagram 7 shows a composite shape of rectangle STVW and triangle TUV. WVU is a straight line and $WV=2VU$. The perimeter of the whole diagram is 48 cm. Find the length, in cm, of SW.

答案 / Answer:

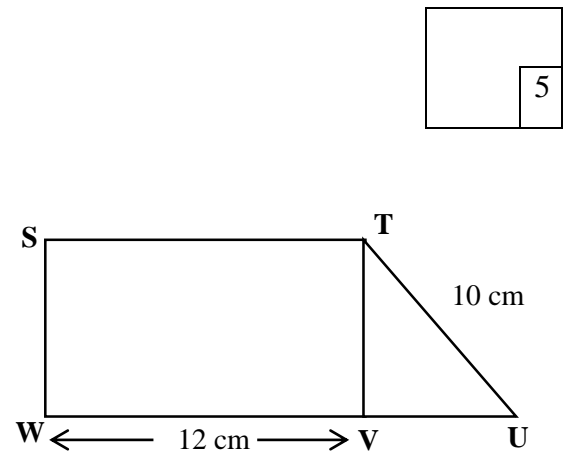


图 7
Diagram 7

亚庇建国中学
2021年 初一新生入学试答案
2021 Junior One Entrance Exam Answers

华文科

乙组：问答题

- (a) (i) 被留下来的 (ii) 期盼
(b) (i) 梦想 (ii) 挫折 (iii) 拖延 (iv) 消逝
(c) 学生就算犯错，老师也不会不分青红皂白地乱骂他们一顿，反而她会对她多番劝告。

丙组：选择题

1. D 2. A 3. C 4. C 5. C 6. C 7. D 8. D 9. A 10. C
11. D 12. C 13. B 14. C 15. A 16. A 17. D 18. A 19. C 20. C
21. A 22. B 23. A 24. C 25. B 26. A 27. B 28. D 29. B 30. D

BAHASA MALAYSIA

Bahagian A:

1. A 2. B 3. D 4. C 5. D 6. D 7. C 8. D 9. B 10. B
11. A 12. B 13. C 14. A 15. B 16. B 17. B 18. B 19. C 20. D
21. C 22. A 23. A 24. C 25. B 26. C 27. D 28. C 29. D 30. A

Bahagian B:

1. menunggang	2. meletakkan	3. menjalankan	4. menyusun	5. menyapu
---------------	---------------	----------------	-------------	------------

ENGLISH

Section A & B:

1. A 2. C 3. D 4. B 5. A 6. C 7. D 8. B 9. C 10. A
11. A 12. B 13. C 14. B 15. C 16. A 17. B 18. C 19. C 20. B
21. A 22. A 23. C 24. A 25. B

Section C:

1. Saturday	5. community room	8. spiced tea, herbs coffee
2. fun and fitness	6. Raj Briyani	9. Vicky's Restaurant
3. puppet theatre	7. Western	10. cheaper
4. hair and beauty		

数学课

甲组：选择题

1. B 2. B 3. D 4. C 5. C 6. B 7. C 8. C 9. A 10. A
11. D 12. D 13. B 14. B 15. D 16. D 17. A 18. A 19. C 20. C
21. D 22. A 23. A 24. A 25. B

乙组：作答题

1. 43 2. 5.2 3. 135 4. 4160 5. 8