

## 试卷范例答案

### 华文试卷

#### 甲组：语文知识（40%）

1. B	2. C	3. C	4. D	5. B	6. A	7. B	8. A	9. C	10. A
11. C	12. C	13. A	14. D	15. A	16. B	17. C	18. D	19. A	20. D

#### 乙组：现代文理解（30%）

1. 母亲觉得他应该给孩子最好的教育，而孩子因为家境贫穷而提出辍学，是母亲不愿接受的。他打儿子，是希望激励儿子奋斗。
2. 一瘸一拐
3. 母亲，母亲得了晚期风湿病，连走路都困难，为了孩子的教育，向人讨米，还一瘸一拐地背去学校。
4. 儿子非常震惊，原来这些年母亲艰辛地背着米到学校供他上学，当下他非常感激母亲的付出。
5. 有爱心 / 乐于助人  
当他知道学生家境贫穷后，不动声色，以特困生的名义减免了儿子三年的学费与生活费。

## 国文试卷 PEPERIKSAAN BAHASA MALAYSIA

#### BAHAGIAN A: (40 MARKAH)

1. A	2. D	3. B	4. C	5. A	6. D	7. B	8. A	9. A	10. A
11. D	12. B	13. D	14. C	15. C	16. A	17. B	18. B	19. C	20. D

#### BAHAGIAN B: (20 MARKAH)

Isi tempat kosong berikut dengan menggunakan **kata kerja** yang sesuai.

- |             |                   |
|-------------|-------------------|
| 1. berlepas | 6. mengikat       |
| 2. lari     | 7. menyambar      |
| 3. memasak  | 8. terpijak       |
| 4. memandu  | 9. disentuh       |
| 5. mengajar | 10. memicit-micit |

## 英文试卷 ENGLISH EXAMINATION

1. D	2. B	3. A	4. A	5. D
6. D	7. D	8. A	9. A	10. B
11. D	12. D	13. C	14. B	15. D
16. D	17. with	18. at	19. for	20. in
21. is	22. fear	23. have	24. are	

- |   |                            |
|---|----------------------------|
| 25. True                                | 30. A                      |
| 26. False                               | 31. Gingerbread man        |
| 27. To raise money to help the homeless | 32. i. shelter<br>ii. food |
| 28. During school                       | 33. The Rock Club          |
| 29. 3→2→1                               |                            |

### 数学试卷

#### A. 选择题（45%）

1. A	2. B	3. A	4. C	5. A
6. B	7. B	8. A	9. A	10. C
11. D	12. B	13. C	14. C	15. C

#### B. 作答题（55%）

- |   |                         |
|---|-------------------------|
| 1. 0.676 kg   | 7. 14分钟                 |
| 2. 3080   | 8. 16: 12: 9            |
| 3. 292年   | 9. 32岁                  |
| 4. 217人   | 10. 24m                 |
| 5. 纸箱100双<br>木箱150双   | 11. 7                   |
| 6. $[4] + \frac{6}{[10]} + \frac{3}{100} + \frac{[4]}{500}$ | 12. 230 cm <sup>2</sup> |

# 独中初一

**赶快来体验吧!**








**不满意不收费!**





想要询问其他年级或更多有关免费试课的详情，欢迎联络我们(011-2818 3030)哟!  
[https://wa.link/l1h4e2?utm\\_medium=pdf&utm\\_source=pdf\\_ad&utm\\_campaign=cis\\_entrance\\_exam](https://wa.link/l1h4e2?utm_medium=pdf&utm_source=pdf_ad&utm_campaign=cis_entrance_exam)


**30网校 buxi**



如果这些考卷帮到您，

希望您也可以与我们分享所持有的考卷。

不管是入学考卷，还是其他年级的考卷，

❤ 我们都无任欢迎哦!



如果您有试卷想要提供，欢迎私信我们的面子书专页【30网校】，或者电邮至：[hi@30.com.my](mailto:hi@30.com.my)

# 科学试卷

## (甲) 选择题

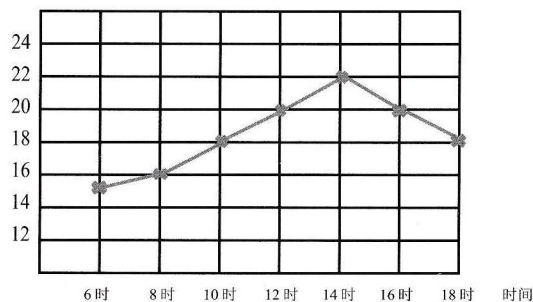
1.	D	2.	A	3.	D	4.	D	5.	C
6.	A	7.	C	8.	B	9.	B	10.	C

## (乙) 选择题

1. (a) 生产者 (c) 鹰  
 (b) 分解者; 5 (条) (d) (i) A.生物圈 (ii) B. 湿地
2. (a) 试管A的铁钉生锈了。 (d) (i) 油漆\刷铝粉\涂矿物性油\打蜡  
 (b) 水和空气\ 氧气 (ii) 镀上一层不易生锈的金属, 如锌、锡、  
 (c) 与空气(氧气) 隔绝 \ 防止 铬、镍等 \ 镀钢  
 空气(氧气) 进入 (iii) 组成合金  
 (iv) 保持铁制品表面的洁净和干燥

### 3. (a) 图表1

气温 (°C)



从气温变化折线图中可获得的3个信息:

- (i) 从6时至14时, 温度上升。  
 (ii) 从14时至18时, 温度下降。  
 (iii) 一天中最高温度是22°C。(或) 一天中最高温度是在14时。

### (b) 答案一

或

### 答案二

- |                |              |
|----------------|--------------|
| ① 磁力与电池数量的关系   | ① 磁力与圈数的关系   |
| ② 电池数量越大, 磁力越大 | ② 圈数越大, 磁力越大 |
| ③ 电池数量         | ③ 圈数         |
| ④ 导线的圈数        | ④ 电池的数量      |